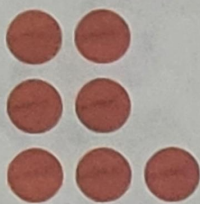




فعالیت

۱- این فعالیت را به صورت دو نفره انجام دهید. ۷ مهره (یا هر چیز دیگر) را روی میز بگذارید. یک نفر تعدادی از آن‌ها را در دست بگیرد. نفر دوم با توجه به تعدادی که روی میز باقی مانده، تعداد مهره‌هایی را که نفر اول برداشته است، پیدا کند. همین فعالیت را برای ۸ و ۹ و ۱۰ مهره تکرار کنید.



۲- در کلاس اول شمارش ۵ تا ۵ تا و ۱۰ تا ۱۰ تا را یاد گرفته‌اید. حالا الگوها را ادامه دهید.

۵, ۱۰, ۱۵, ۲۰, ۲۵, ۳۰, ۳۵, ۴۰, ۴۵, ۵۰, ۵۵, ۶۰ ✓

۱۰, ۲۰, ۳۰, ۴۰, ۵۰, ۶۰, ۷۰, ۸۰, ۹۰ ✓

$$۱۰ + ۲۰ + ۵ = ۳۵$$

حاصل جمع‌ها را به دست آورید.

$$۵ + ۵ + ۲۰ + ۳۰ = ۶۰$$

$$۴۰ + ۵ + ۱۰ + ۵ + ۵ = ۶۵$$

$$۱۰ + ۵ + ۲۰ + ۵ + ۳ = ۴۳ ✓$$

$$۳ + ۴ + ۱۰ + ۲۰ + ۵ + ۵ = ۴۷ ✓$$

$$۲ + ۵ + ۲۰ + ۱۰ + ۵ = ۴۲$$


$$۱۰ + ۵ + ۲۰ + ۵ + ۳۰ + ۵ = ۷۵$$



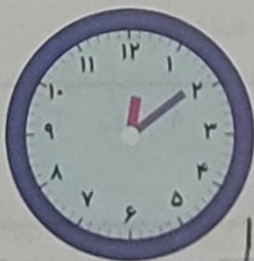
کار در کلاس

ساعت از چند گذشته است؟


حدس بزن



۱

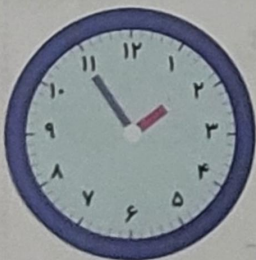


۱۲

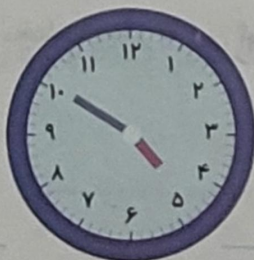


۹

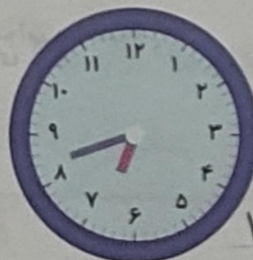
ساعت به چند مانده است؟



۲



۵



۷