



۱- با چینه‌ها ساختمان بسازید. هر طبقه با ۴ چینه درست می‌شود.



فعالیت



- ۸ ساختمان ۲ طبقه با چند چینه ساخته می‌شود؟
 - ۱۲ ساختمان ۳ طبقه با چند چینه ساخته می‌شود؟
 - ۱۶ ساختمان ۴ طبقه با چند چینه ساخته می‌شود؟
 - ۲۰ ساختمان ۵ طبقه با چند چینه ساخته می‌شود؟
- حالا الگوی عددی زیر را کامل کنید.

۴, ۸, ۱۲, ۱۶, ۲۰

۲- حالا هر طبقه‌ی ساختمان را با ۶ چینه درست کنید. ساختمان سازی را تا طبقه‌ی پنجم ادامه دهید و به کمک آن الگوی عددی را کامل کنید.

۶, ۱۲, ۱۸, ۲۴, ۳۰



۳- شمارش چندتا چندتای زیر را کامل کنید.

۷, ۱۴, ۲۱, ۲۸, ۳۵


همین فعالیت را می‌توانید با رسم شکل یا چوب‌خط انجام دهید. برای مثال شما می‌توانید ۴ مربع برای طبقه‌ی اول بکشید. برای پیدا کردن عدد دوم ۴ تا مربع دیگر کنار آن بکشید و سپس همه‌ی مربع‌ها را بشمارید تا عدد دوم الگو پیدا شود. به همین ترتیب کار را ادامه دهید.



کار در کلاس

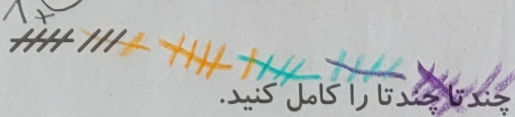
۱- شمارش چندتا چندتای زیر را با رسم شکل کامل کنید.

۳, ۶, ۹, ۱۲, ۱۵



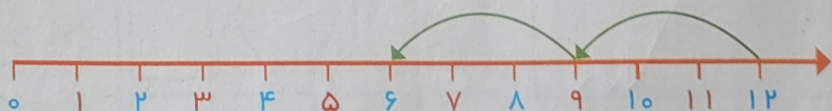
۲- ۲ عدد بعدی شمارش چند تا چند تا را با رسم چوب‌خط پیدا کنید.

۸, ۱۶, ۲۴, ۳۲



۳- با کمک محور رو به عقب بشمارید و شمارش چندتا چندتا را کامل کنید.

۵, ۳, ۱, ۰



یکی از دانش آموزان برای شمارش ۴ تا ۴، مربع‌ها را با استفاده از مداد رنگی‌های مختلف رنگ کرده و آن‌ها را شمرده است. شما با ادامه دادن رنگ‌ها الگوی شمارش را کامل کنید.




۴، ۸، ۱۲، ۱۶، ۲۰، ۲۴، ۲۸، ۳۲، ۳۶، ۴۰



فعالیت



کار در کلاس

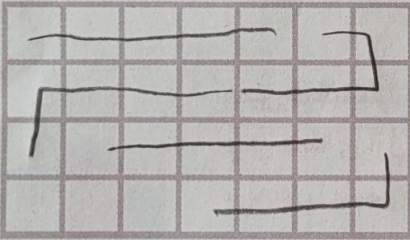


هر کس برای شمارش روشی دارد. برای مثال یکی از دانش آموزان برای شمارش تعداد خانه‌های شکل رو به رو، دسته‌های ۵ تایی جدا کرده و تعداد را به دست آورده است.


او برای دسته‌بندی از رسم خطوط روی خانه استفاده کرده است.

۲۱

حالا شما با روش خود تعداد خانه‌های شکل‌های زیر را بشمارید و کنار آن بنویسید.



۲۱



۲۲

با شابلون و رسم ۴ مربع شکل بسازید.

خلاق باش

