


# فصل اول

شمارش چندتا چندتا



۱- با چینه‌ها ساختمان بسازید. هر طبقه با ۴ چینه درست می‌شود.






- ۸ ساختمان ۲ طبقه با چند چینه ساخته می‌شود؟  
۱۲ ساختمان ۳ طبقه با چند چینه ساخته می‌شود؟  
۱۶ ساختمان ۴ طبقه با چند چینه ساخته می‌شود؟  
۲۰ ساختمان ۵ طبقه با چند چینه ساخته می‌شود؟  
حالا الگوی عددی زیر را کامل کنید.

۴, ۸, ۱۲, ۱۶, ۲۰

## علوی

۲- حالا هر طبقه ساختمان را با ۶ چینه درست کنید. ساختمان سازی را تا طبقه پنجم ادامه دهید و به کمک آن الگوی عددی را کامل کنید.

۶, ۱۲, ۱۸, ۲۴, ۳۰

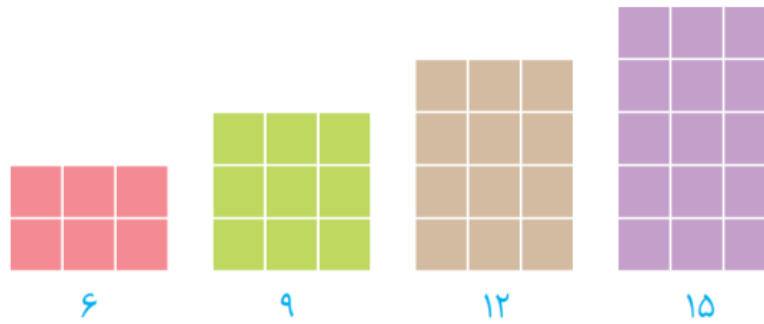


۳- الگوی عددی زیر را کامل کنید.

۷, ۱۴, ۲۱, ۲۸, ۳۵

۱- الگوی عددی زیر را با رسم شکل کامل کنید.

۳, ۶, ۹, ۱۲, ۱۵



۲- عدد بعدی را با رسم چوب خط پیدا کنید.

۸, ۱۶, ۲۴, ۳۲



۳- با کمک محور رو به عقب بشمارید و الگو را کامل کنید.

•, ۳, ۶, ۹, ۱۲

