
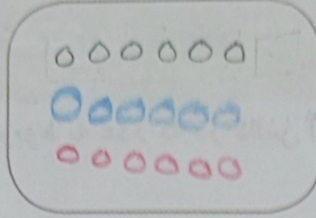


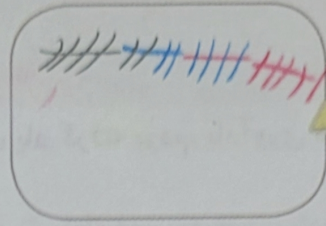
۱- حاصل جمع‌های زیر را به دست آورید. (از رسم شکل یا چوب خط استفاده کنید.)



$$4 + 7 + 4 = 15$$



$$6 + 6 + 6 = 18$$



$$7 + 7 + 7 = 21$$



۸, ۱۶, ۲۴, ۳۲

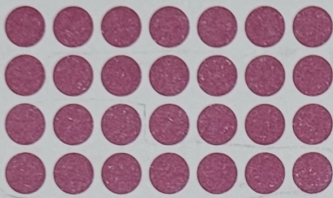
↖ ↗

+۸ +۸


۲- در شمارش ۸ تا ۸ تا عدد بعد از ۲۴ را پیدا کنید.

۳- در شمارش ۵ تا ۵ تا، عدد قبل از ۴۰ چند است؟ ۳۵

۴- تعداد دایره‌ها را بشمارید و بنویسید.



۲۴



۲۴

۵- با توجه به راهنما، شکل را رنگ کنید.

