

ریاضی

موضوع:

تاریخ:

نام و نام خانوادگی:


هدف:

هر مسئله را با دقت بخوان. روی محور نشان بده و پاسخ سؤال را بنویس.


مسئله مل کن




۹ شیرینی در بشقاب بود. بچه‌ها ۶ تا از شیرینی‌ها را خوردند.
چند شیرینی در بشقاب ماند؟



۸ شاخه گل در گلدان بود. مادر ۲ شاخه گل را برداشت.
چند گل در گلدان مانده است؟

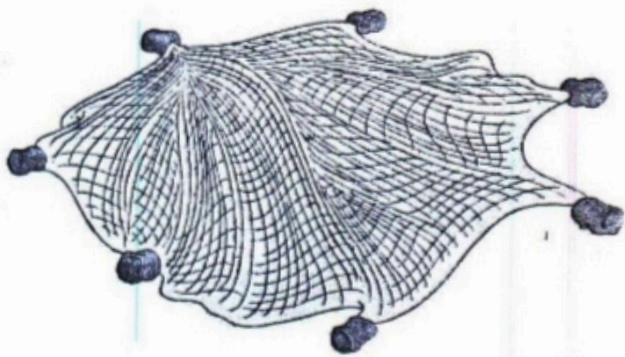


۱۰ صندلی در اتاق بود. روی ۷ صندلی نشسته بودند.
چند صندلی خالی مانده است؟



هر مسئله را با دقت بخوان. مانند نمونه شکل ساده بکش و پاسخ سؤال را بنویس.

مسئله مل کن



یک ماهیگیر صبح ۶ ماهی گرفت. او بعد از ظهر هم ۴ ماهی گرفت.
ماهیگیر روی هم چند ماهی گرفت؟



آقای کفاش دیروز ۳ کفش دوخته بود. امروز هم ۳ کفش دوخت.
او دیروز و امروز روی هم چند کفش دوخته است؟

بازخورد:

