
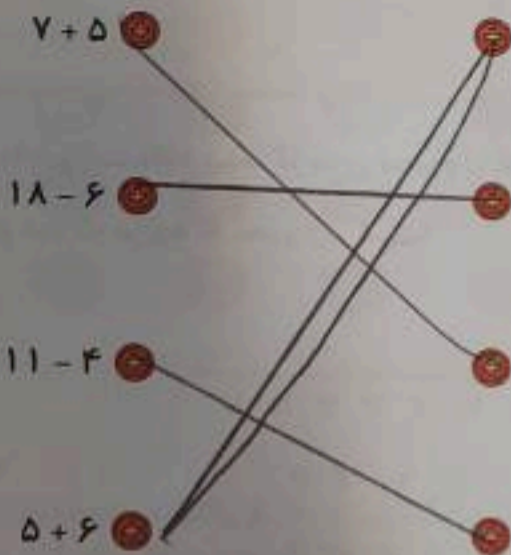


۱۴۰۳ / ۷ / ۱۶

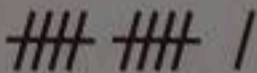

تمرین

۱ حاصل جمع و تفریق‌های زیر را به شکل مرتبط به آن وصل کن.



۲ درستی و نادرستی هر عبارت را مشخص کن.


الف: محور زیر حاصل جمع $8 + 5$ را نمایش می‌دهد.



ب: چوب‌خط مقابل حاصل $9 + 2$ را نمایش می‌دهد.

پ: حاصل عبارت $13 - 8 + 3$ مساوی با ۸ می‌شود.

۳ در محور زیر، مربع چه عددی را نشان می‌دهد؟



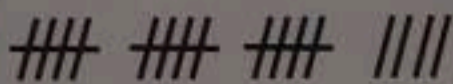
۴ حاصل جمع‌های زیر را پیدا کن.

الف: $20 + 30 + 10 = 60$

ب: $5 + 5 + 20 + 5 = 35$


ب: $10 + 5 + 5 + 20 = 40$

ت: $10 + 5 + 10 + 5 + 20 = 50$



۵ چوب‌خط‌های مقابل چه عددی را نمایش می‌دهد؟ ۱۹

۶ درنا ۳۵ کتاب در کتابخانه‌ی خود دارد، اگر ۱۵ تای آن‌ها را به دوستش امانت دهد. چند کتاب در کتابخانه‌اش باقی می‌ماند؟



۲۰ عدد کتاب در کتابخانه‌ی باقی مانده است.



۱ با توجه به تصویر مقابل جاهای خالی را کامل کن.

حدس می‌زنم ۱۶ هواپیما در تصویر است.

تعداد هواپیماها را بشمرم، آن‌ها ۱۷ عدد هستند.

۲ به عقربه‌ی ساعت‌شمار نگاه کرده و جاهای خالی را کامل کن.




ب: ساعت از ۳ گذشته و به ۵ مانده




الف: ساعت از ۷ گذشته و به ۹ مانده

۳ حاصل هر کدام از عبارت‌های زیر را روی محور اعداد نمایش بده.

الف: $6 + 7 - 4 = \boxed{9}$



ب: $16 - 8 + 5 = \boxed{13}$



۴ با توجه به هر شکل جمع‌های مربوط به آن را کامل کن.

الف: $4 + \dots + \dots = \boxed{11}$



ب: $9 + \dots + \dots = \boxed{14}$



پ: $\dots + 2 + \dots = \boxed{16}$

