



موضوع:

تاریخ:

نام و نام خانوادگی:

هدف:


۹. الگوی عددی زیر را ادامه بده.


..... و ..... و ..... و ..... و ۲۲ و ۳۲ و ۴۲ و .....


..... و ..... و ..... و ..... و ۱۲ و ۱۶ و ۲۰ و .....




۱۰. حاصل جمع های زیر را به دست آور.

الف)  $5 + 10 + 10 + 3 =$  

ج)  $20 + 10 + 10 + 5 + 2 =$  

ب)  $5 + 5 + 20 + 10 =$  

د)  $30 + 40 + 2 + 5 =$  

۱۱. از ۲۰ سیبی که در سبد است، ۱۲ تا سیب سرخ و بقیه سبز است. چند سیب سبز در سبد است؟ (از راه شکل)

۱۲. با رقم های (۷ و ۰ و ۲) هر چند عدد دو رقمی که می توانی بنویس.

بازخورد:

.....

.....

.....

.....

