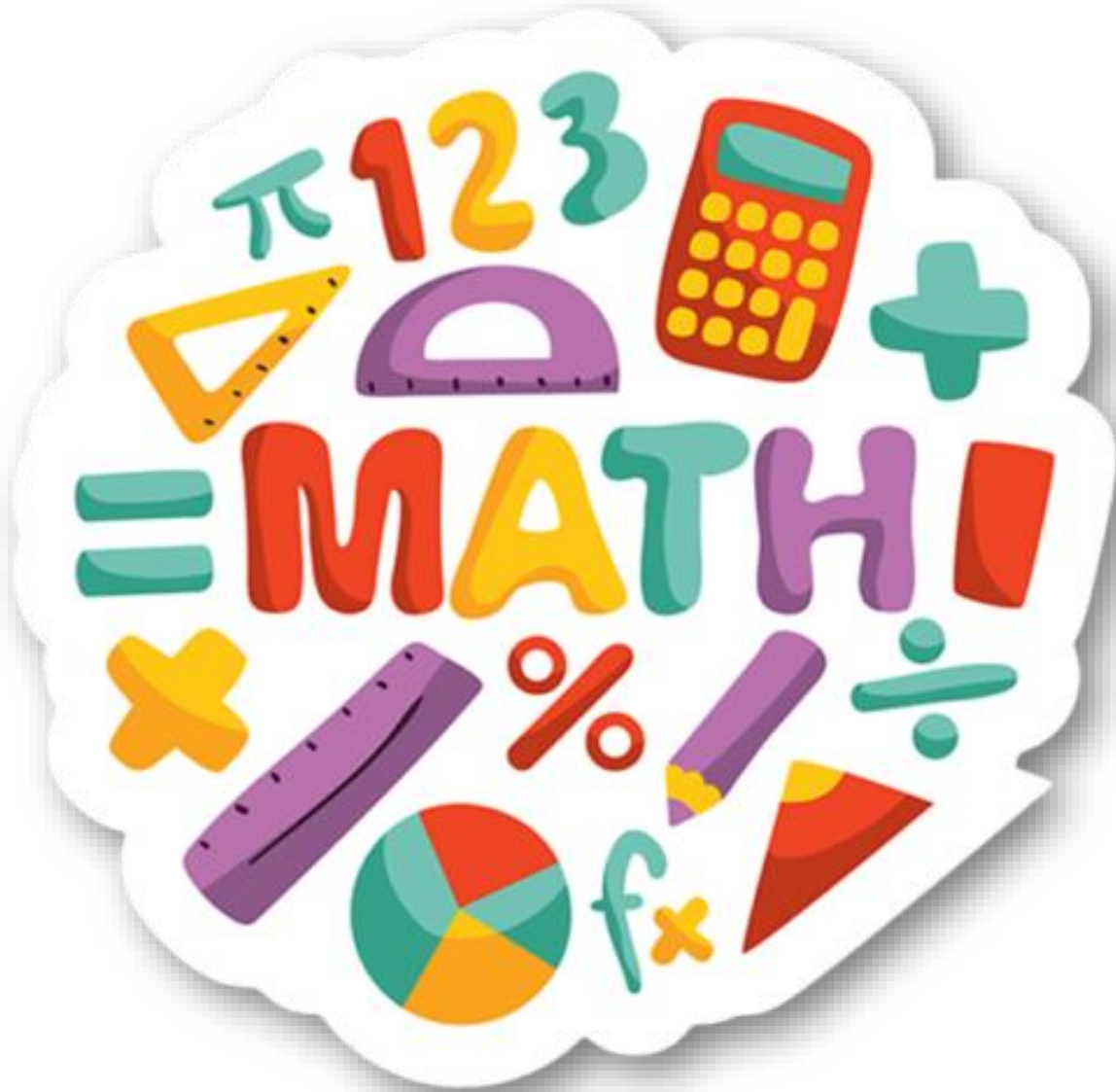


فصل دووم

جمع و تفريق





کار در
کلاس

حاصل جمع و تفریق‌های زیر را از هر روشی که می‌خواهید، به دست آورید. روش خود را با روش دوستانتان مقایسه کنید.

$$\begin{array}{r} 8 \\ + 9 \\ \hline 17 \end{array}$$

$$\begin{array}{r} 7 \\ + 5 \\ \hline 12 \end{array}$$

$$\begin{array}{r} 12 \\ - 9 \\ \hline 3 \end{array}$$

$$\begin{array}{r} 14 \\ - 6 \\ \hline 8 \end{array}$$

$$\begin{array}{r} 6 \\ + 9 \\ \hline 15 \end{array}$$

$$\begin{array}{r} 7 \\ + 6 \\ \hline 13 \end{array}$$

$$\begin{array}{r} 17 \\ - 8 \\ \hline 9 \end{array}$$

$$\begin{array}{r} 19 \\ - 9 \\ \hline 10 \end{array}$$

۱- با رنگ کردن مربع‌ها و یا خط زدن مربع‌های رنگ شده، حاصل جمع و تفریق‌ها را به دست آورید.

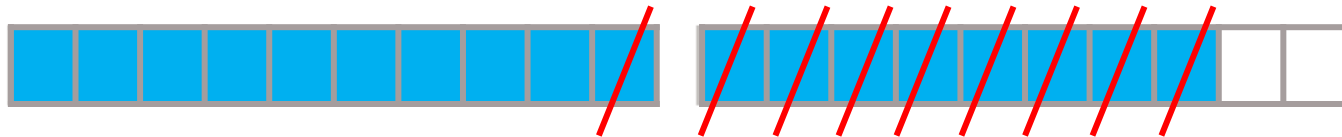


فعالیت

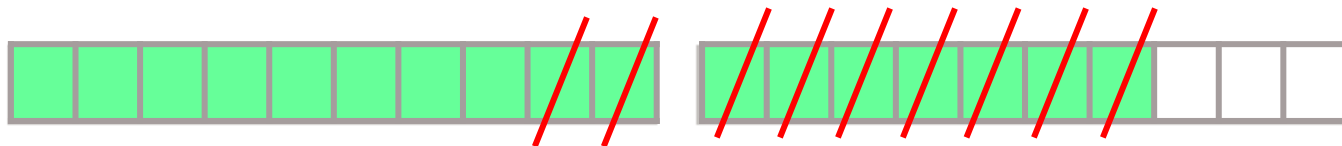
$$\begin{array}{r} 7 \\ + 9 \\ \hline 16 \end{array}$$



$$\begin{array}{r} 18 \\ - 9 \\ \hline 9 \end{array}$$



$$\begin{array}{r} 17 \\ - 9 \\ \hline 8 \end{array}$$



۲- مانند نمونه جدول‌های جمع و تفریق را کامل کنید.

$+$	۴	۷
۳	۷	

$+$	۶	۷	۸	۹
۴				
۵				

$-$	۸	۷	۵	۲
۱۸				
۱۵				

برای جمع و تفریق کردن عددهایی که بیشتر از یک رقم دارند، نیاز دارید که جمع و تفریق اعداد یک رقمی را با سرعت انجام دهید. بهتر است با تمرین کردن آن‌ها را به خاطر بسپارید.

۲- مانند نمونه جدول‌های جمع و تفریق را کامل کنید.

+	۴	۷	۵
۳	۷	۱۰	۸

Callouts: $۳+۴$, $۳+۷$, \quad

+	۶	۷	۸	۹
۴	۱۰	۱۱	۱۲	۱۳
۵	۱۱	۱۲	۱۳	۱۴

-	۸	۷	۵	۲
۱۸	۱۰	۱۱	۱۳	۱۶
۱۵	۷	۸	۱۰	۱۳

۴+۶ ۴+۷ ۴+۸ ۴+۹

+	۶	۷	۸	۹
۴	۱۰	۱۱	۱۲	۱۳
۵	۱۱	۱۲	۱۳	۱۴

۵+۶ ۵+۷ ۵+۸ ۵+۹

۱۸-۸ ۱۸-۷ ۱۸-۵ ۱۸-۲

-	۸	۷	۵	۲
۱۸	۱۰	۱۱	۱۳	۱۶
۱۵	۷	۸	۱۰	۱۳

۱۵-۸ ۱۵-۷ ۱۵-۵ ۱۵-۲