

# فصل دوم




## درسی اول

جمع و تفریق ده تایی

برای محور عدد بنویس و عبارت زیر را روی آن نشان بده.

۱

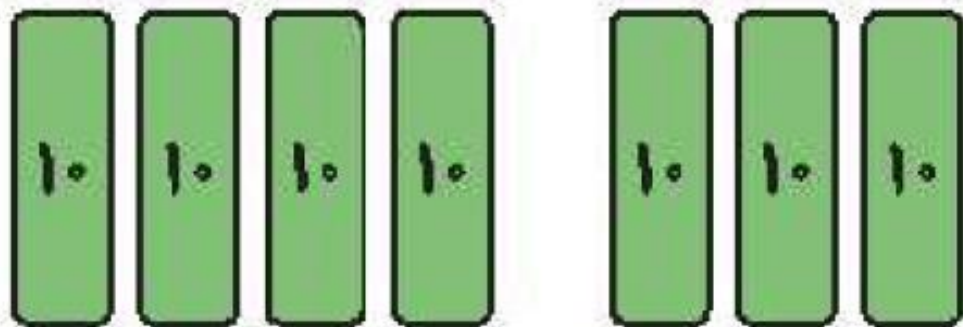
$$50 + 20 - 30 = \boxed{40}$$



برای هر شکل جمع یا تفریق بنویس.

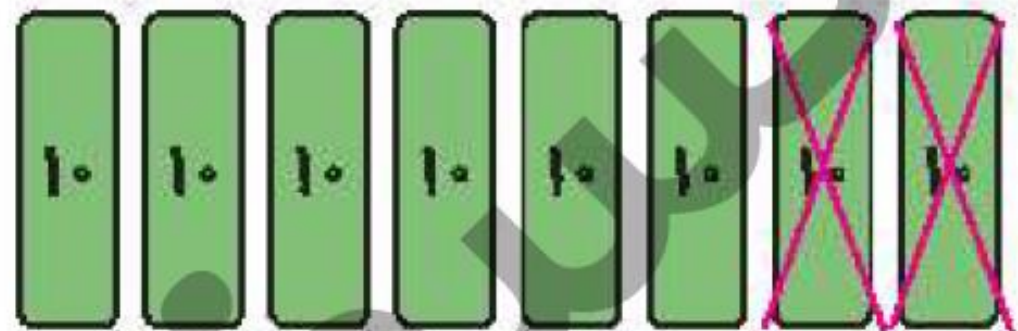
۲

الف:



$$40 + 30 = 70$$

ب:



$$80 - 20 = 60$$



درنا ۷ تپله و برنا ۲ تپله دارند. جمع تپله‌های آنها را به دو صورت سطری و ستونی با رسم شکل بنویس.

سطری

$$7 + 2 = 9$$



ستونی



$$\begin{array}{r} 7 \\ + 2 \\ \hline 9 \end{array}$$

۱

قسمت‌های مرتبط را به هم وصل کن.

۹ دسته ده‌تایی



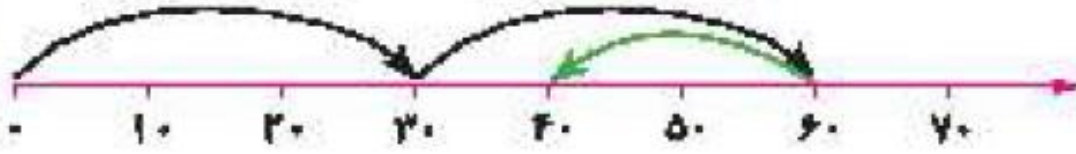
تقریب عدد ۵۸ می‌شود.

۶۰



۵ دسته ده‌تایی به اضافه ۴ دسته ده‌تایی می‌شود.

۵۹





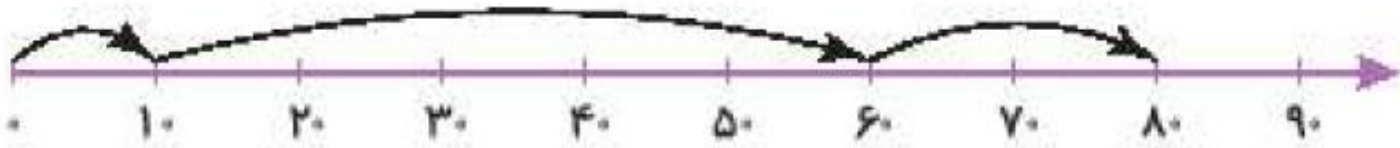
۴ دسته ده‌تایی







عدد ۶۰ صورت تقریبی آن عدد است.

درستی  و نادرستی  هر عبارت را مشخص کن.

الف: حاصل جمع  $۱۰ + ۵۰ + ۲۰$  روی محور زیر نشان داده شده است.  



ب: حاصل تقریبی عدد  $۲۷$  می شود  $۴۰$   

پ: حاصل تقریبی عدد  $۲۲$  می شود  $۳۰$   

مانند نمونه، عبارتهای زیر هر شکل را کامل کن.



$$\begin{array}{r} \text{ده تایی } 6 + \text{ده تایی } 2 = \text{ده تایی } 8 \\ 60 + 20 = 80 \end{array}$$



$$\begin{array}{r} \text{ده تایی } 3 + \text{ده تایی } 4 = \text{ده تایی } 7 \\ 30 + 40 = 70 \end{array}$$

جاهای خالی را کامل کن.

الف: درنا ۲ بستهای ده‌تایی مداد دارد. برنا ۲ بستهای ده‌تایی و دوستشان ۴ بستهای ده‌تایی مداد دارند. آنها با هم ..... بستهای ده‌تایی یعنی ..... یکی مداد دارند.

ب: برنا ۶ بستهای ده‌تایی شکلات دارد. او ۳ بستهای ده‌تایی را به پدرش و ۲ بستهای ده‌تایی از شکلاتها را به مادرش می‌دهد. برنا حالا ..... بستهای ده‌تایی شکلات دارد.