



موضوع: ریاضی

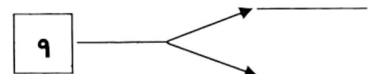
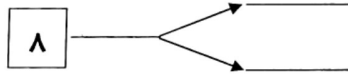
تاریخ

نام و نام خانوادگی

هدف:

همه ی عددهای دو رقمی را که با رقم های ۵ و ۶ برای یکی و ۸ و ۹ برای ده تایی ها می توان نوشت را پیدا کن و در جاهای خالی و جدول بنویسید.

دهگان	یکان
.....	.....
.....	.....
.....	.....
.....	.....



محمد علی ۷ کتاب داستان و خواهرش ۱۰ کتاب داستانی داشتند . اگر هر کدام ۳ کتاب داستان به کتابخانه ی مدرسه اهدا کنند، چند کتاب برایشان باقی می ماند؟

عزیزم برای عبارت زیر یک مسئله بنویس.

$$30 + 5 = \square$$

.....

.....



۱۰/۱۷/۱۳۸۸

برای رنگ کردن مثلث از رنگ‌های آبی یا قرمز و برای رنگ کردن مربع از رنگ‌های قهوه‌ای، سبز و زرد استفاده کنید. به چند روش می‌توانید شکل رو به رو را رنگ کنید؟



رنگ کردن شکل‌ها را به صورت منظم ادامه دهید.



روش اول



روش دوم

نظم روش اول و دوم چه تفاوتی با هم دارد؟ در روش اول رنگ مربع‌ها را ثابت نگه داشتیم و برای مثلث‌ها را یکی قرمز و یکی آبی کردیم. در روش دوم رنگ مثلث‌ها را ثابت داشتیم و مربع‌ها را رنگ قهوه‌ای و سبز و زرد کردیم.

کامل کن

عددهای ساعت روبه‌رو را بنویسید و بگویید چه ساعتی را نشان می‌دهد؟



در شکل روبه‌رو عقربه‌ی بزرگ ساعت حرکت کرده است. روی این قسمت ساعت ذره‌بین گذاشته‌ایم تا معلوم شود این عقربه چقدر جلو رفته است.



هر قسمت کوچک یک دقیقه است. این عقربه چند دقیقه جلو رفته است؟ ۶ دقیقه.

فکر کردن همراه با نظم به حل مسئله‌ها کمک می‌کند. ممکن است ترتیبی که برای نوشتن جواب‌ها انتخاب می‌کنیم، با افراد دیگر تفاوت داشته باشد. آن چه اهمیت دارد، وجود یک نظم و ترتیب مشخص است.

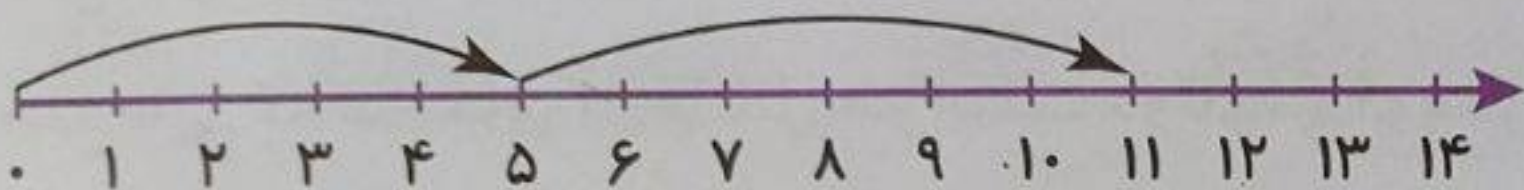


# فعالیت کلاسی




هر عبارت از سمت راست را به تصویر مربوط به آن در سمت چپ وصل کن.

۱



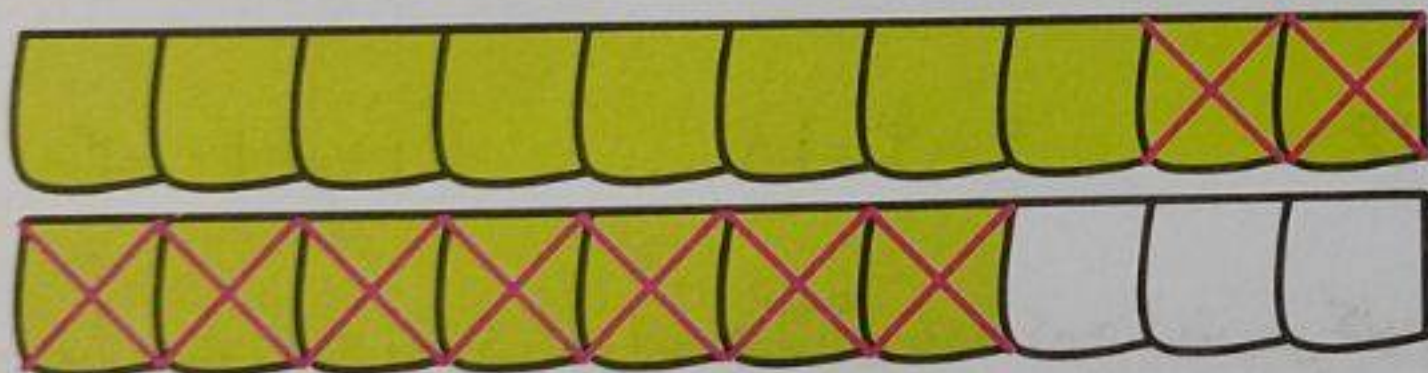
$5 + 6 = \boxed{11}$



$17 - 9 = \boxed{8}$



$6 + 6 = \boxed{12}$



$8 + 9 = \boxed{17}$

همه‌ی عددهای دو رقمی که می‌توان با رقم‌های ۱ و ۶ برای یکان و ۳ و ۲ برای دهگان نوشت را بنویس.

۲

۲ ← ۱ → ۲۱  
۶ → ۲۶

۳ ← ۱ → ۳۱  
۶ → ۳۶

