




موضوع:

تاریخ

نام و نام خانوادگی

هدف:

نام و نام خانوادگی:



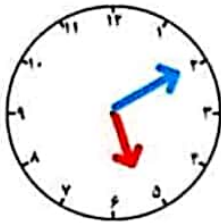
۱. تعداد توپ های زیر را با دسته بندی بشمار.

تعداد:

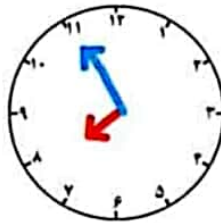
۲. در خانه های خالی عدد مناسب بنویس.

	۲۶	۲۷	۲۸				۳۲
--	----	----	----	--	--	--	----

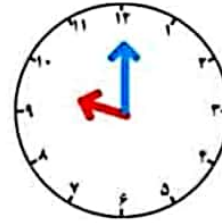
۳. باتوجه به ساعت جاهای خالی را کامل کن.



ساعت از گذشته



ساعت به مانده



ساعت است

۴. با رقم های ۴، ۰، ۸ هر چه عدد دو رقمی میتوانی بساز.

.....

۵. عددی را بنویس که یکان ۵ و دهگان ۲ تا بیشتر از یکان باشد.