


از دو رنگ آبی و قرمز و برای رنگ کردن شلوار از چهار رنگ سبز، زرد، نارنجی و مشکی استفاده کنیم، به چند حالت می‌توانیم رنگ آمیزی کنیم؟ حالت‌های مختلف را با رنگ آمیزی شکل‌های زیر نشان بده.



۵ جدول‌های جمع و تفریق را کامل کن.

+	۷	۲	۳	۵
۹	۱۶	۱۱	۱۲	۱۴
۶	۱۳	۸	۹	۱۱
۸	۱۵	۱۷	۱۱	۱۳




-	۵	۳	۷	۴
۱۲	۷	۹	۵	۸
۱۷	۱۲	۱۴	۱۵	۱۳
۱۹	۱۴	۱۶	۱۲	۱۵

۶ حاصل جمع و تفریق‌های زیر را به هر روشی که دوست داری پیدا کن.

الف:  $۱۲ - ۶ = ۶$

ب:  $۱۶ - ۸ = ۸$

پ:  $۹ + ۳ = ۱۲$



ت:  $۴ + ۸ = ۱۲$

ث:  $۷ + ۷ = ۱۴$

ج:  $۱۳ - ۵ = ۸$

