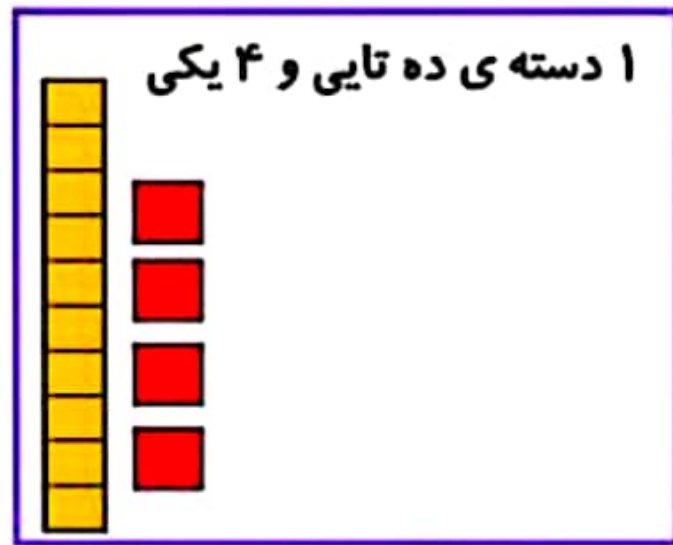
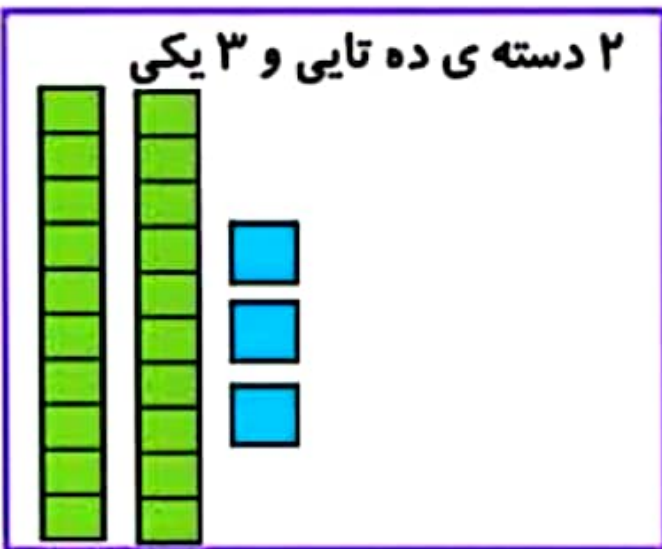


و ا ن



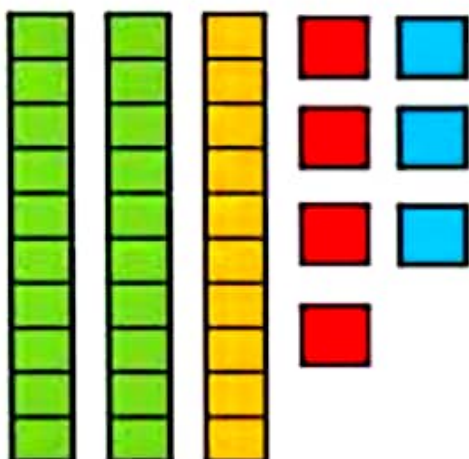
۱- دسته‌های ده‌تایی و یکی را روی میز قرار دهید. یک دسته‌ی ده‌تایی و ۴ یکی بردارید و عدد ۱۴ را درست کنید. برای درست کردن عدد ۲۳ چند دسته‌ی ده‌تایی و چند یکی برمی‌دارید؟

۲ دسته‌ی ده‌تایی و ۳ یکی برمی‌داریم.



حالا با کنار هم گذاشتن ده‌تایی‌ها و یکی‌ها حساب کنید این دو عدد روی هم چند می‌شود.

۳ دسته‌ی ده‌تایی و ۷ یکی می‌شود: ۳۷



جمع و تفریق دو عدد دو رقمی



۱- دسته‌های ده‌تایی و یکی را روی میز قرار دهید. یک دسته‌ی ده‌تایی و ۴ یکی بردارید و عدد ۱۴ را درست کنید. برای درست کردن عدد ۲۳ چند دسته‌ی ده‌تایی و چند یکی برمی‌دارید؟

۲ دسته‌ی ده‌تایی و ۳ یکی

حالا با کنار هم گذاشتن ده‌تایی‌ها و یکی‌ها حساب کنید این دو عدد روی هم چند می‌شود.

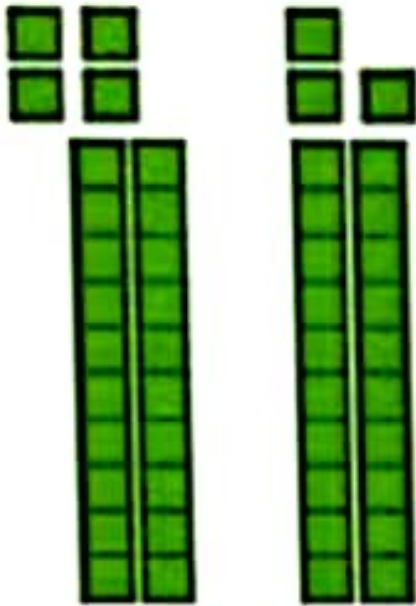
۳ دسته‌ی ده‌تایی و ۷ یکی می‌شود: ۳۷

به همین ترتیب ۲ عدد دو رقمی دیگر درست کنید و حاصل جمع آن‌ها را به دست آورید. این کار را چند مرتبه تکرار کنید.

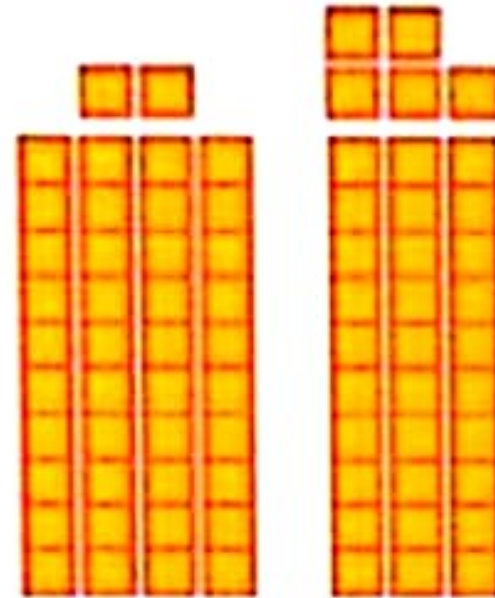


فعالیت

۲- با توجه به شکل‌ها، حاصل جمع‌ها را پیدا کنید.



$$۲۴ + ۲۳ = ۴۷$$



$$۴۲ + ۳۵ = ۷۷$$

برای جمع کردن دو عدد دو رقمی ابتدا دسته‌های ده تایی را با هم جمع می‌کنیم، سپس یکی‌ها را با هم جمع می‌کنیم.

۳- با خط زدن دسته‌های ده‌تایی و یکی، حاصل تفریق‌ها را به دست آورید.



$$47 - 22 = 25$$



$$69 - 43 = 26$$

برای تفریق دو عدد دو رقمی نیز ابتدا از دسته‌های ده‌تایی کم می‌کنیم، سپس از یکی‌ها برمی‌داریم.