



موضوع:

تاریخ:

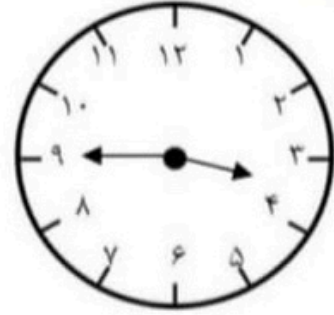

نام و نام خانوادگی:

هدف:

ساعت چند است؟

ساعت از چند گذشته؟

ساعت به چند مانده؟



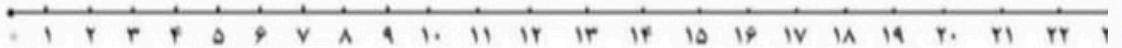
.....

.....

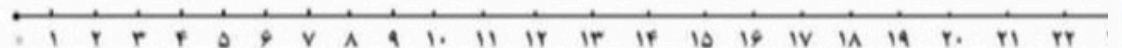
.....

بناصل عبارت‌های مقابل را به وسیله‌ی محور به دست آورید؟

$$11 + 4 + 5 =$$



$$9 - 5 + 8 =$$



جمع رقم‌هایی که حاصل آن‌ها ۹ می‌شود را بنویسید.

باز خورد:

.....

