
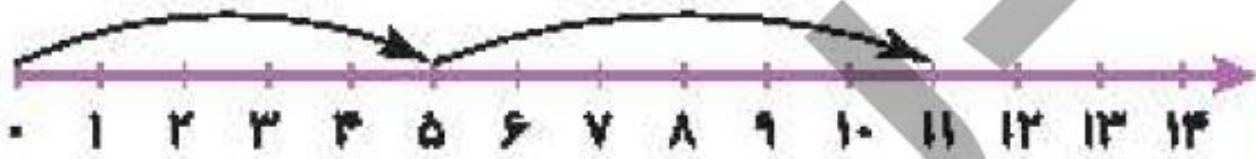


# فصل دوم



1

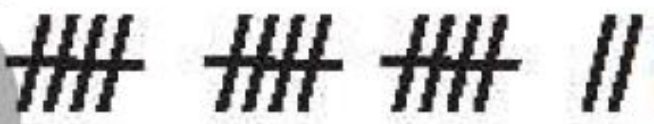
هر عبارت از سمت راست را به تصویر مربوط به آن در سمت چپ وصل کن.



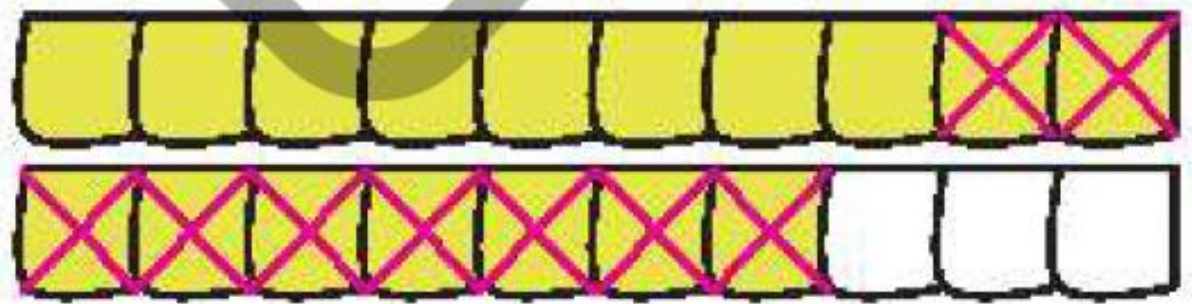
$5 + 6 = \square$



$17 - 9 = \square$



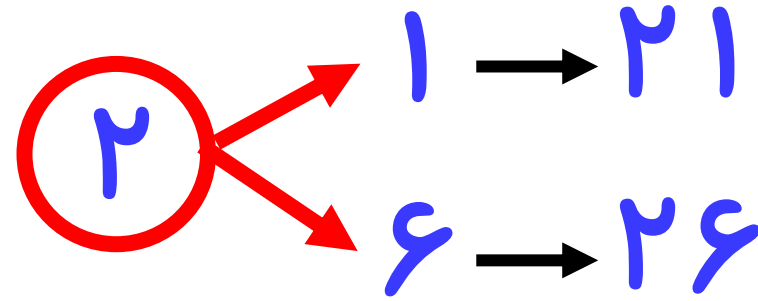
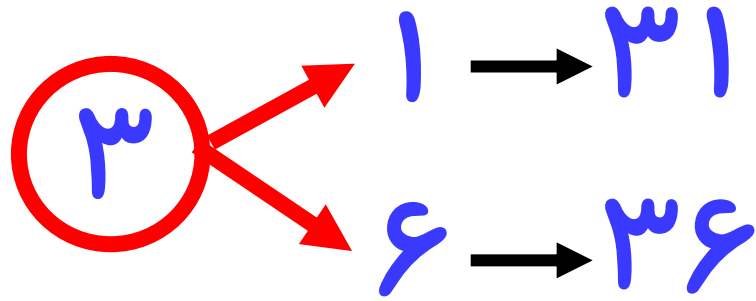
$6 + 6 = \square$



$8 + 9 = \square$



۲ همه‌ی عددهای دو رقمی که می‌توان با رقم‌های ۱ و ۶ برای یکان و ۳ و ۲ برای دهگان نوشت را بنویس.



۲ حاصل جمع‌های زیر را به صورت ذهنی پیدا کن.

$$\text{الف: } ۹ + ۶ = \boxed{۱۵}$$

$$\text{پ: } ۸ + ۸ = \boxed{۱۶}$$

$$\text{ث: } ۷ + ۵ = \boxed{۱۲}$$

$$\text{ب: } ۸ + ۴ = \boxed{۱۲}$$

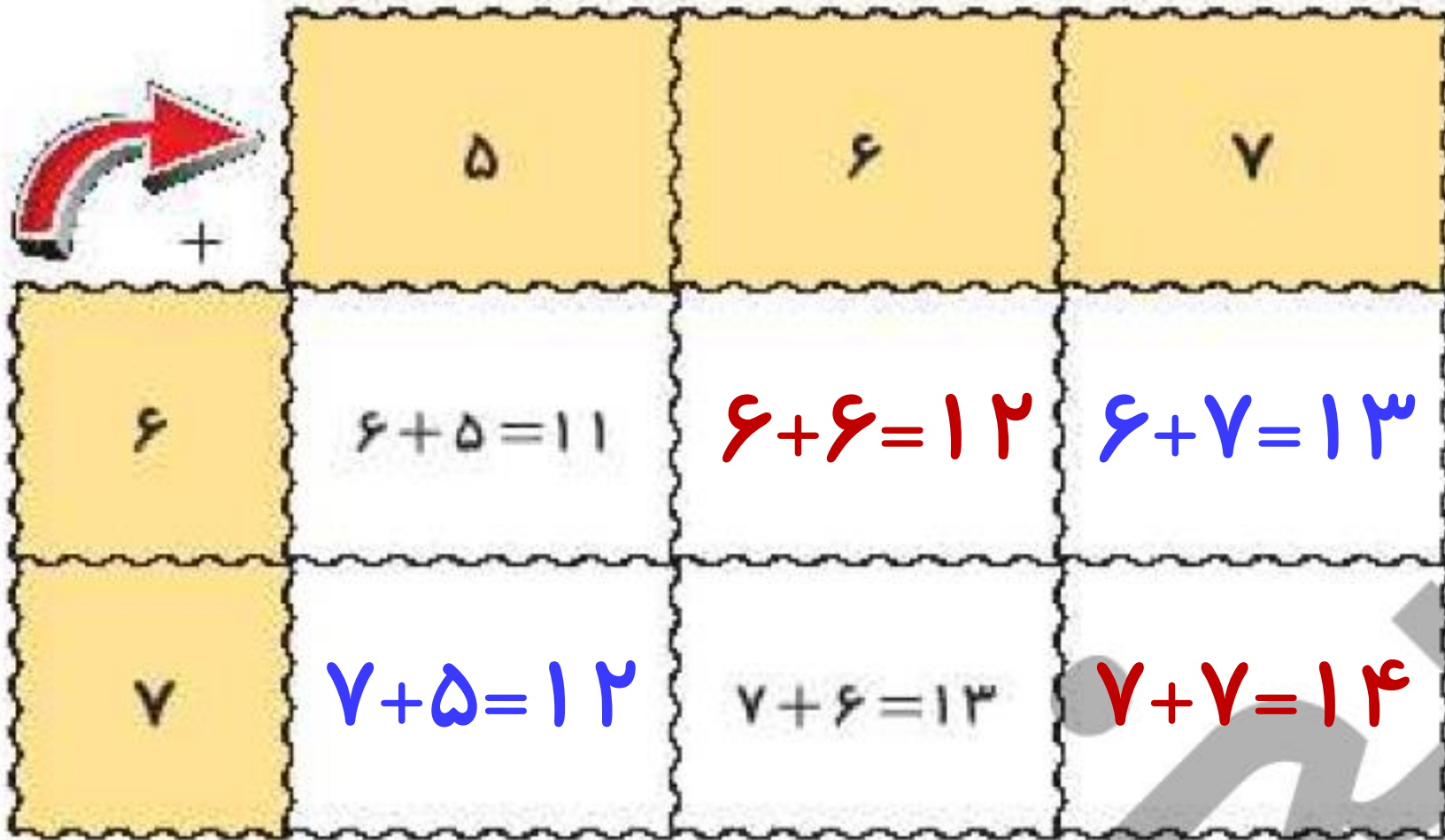
$$\text{ت: } ۹ + ۵ = \boxed{۱۴}$$

$$\text{ج: } ۵ + ۷ = \boxed{۱۲}$$



جدول زیر را کامل کن.

۴



	۵	۶	۷
۶	$۶+۵=۱۱$	$۶+۶=۱۲$	$۶+۷=۱۳$
۷	$۷+۵=۱۲$	$۷+۶=۱۳$	$۷+۷=۱۴$

هر پرسش را به پاسخ صحیح آن وصل کن.

۱

کدام عدد دو رقمی است که بارقم یکان ۴ و دهگان سه تا بیش تر از آن می توان ساخت؟

۷۴

ساختن دسته ده تایی



۸۴



باز کردن عددها


در این محاسبه  $(۹+۶=۵+۱+۵+۴)$  از کدام روش جمع استفاده می شود؟

۲

درستی  و نادرستی  هر عبارت را مشخص کن.

الف: حاصل جمع عدد  $8 + 7$  با  $(8 + 2) + 5$  برابر است.  

ب: حاصل تفریق  $16 - 9$  روی محور زیر به درستی نمایش داده شده است.  



پ: حاصل جمع  $5 + 7$  برابر است با: 