

ق ا ب ح



فصل ۲  
جمع و تفریق  
اعداد دو رقمی



به نام خداوند بخشنده و مهربان

ریاضی صفحه ۳۰

دبستان و پیش دبستان علوی



آموزگار : خانم خاکسار



۱- مانند نمونه جمع و تفریق‌ها را با رسم شکل انجام دهید.

$$\begin{array}{r}
 ۲۳ \\
 + ۱۴ \\
 \hline
 ۳۳ \\
 + ۴ \\
 \hline
 ۳۷
 \end{array}$$

$$\begin{array}{r}
 ۳۱ \\
 + ۱۰ \\
 \hline
 ۴۱
 \end{array}$$

$$\begin{array}{r}
 ۲۴ \\
 + ۳۳ \\
 \hline
 ۵۴ \\
 + ۳ \\
 \hline
 ۵۷
 \end{array}$$



تمرین

۲- مانند نمونه حاصل جمع و تفریق‌ها را با نوشتن راه حل به دست آورید.

$$\begin{array}{r} 49 \\ - 27 \\ \hline 22 \end{array}$$

$$\begin{array}{r} 23 \\ + 14 \\ \hline 37 \end{array}$$

$$\begin{array}{r} 46 \\ - 16 \\ \hline 30 \end{array}$$

$$\begin{array}{r} 24 \\ + 24 \\ \hline 48 \end{array}$$

$$\begin{array}{r} 67 \\ - 30 \\ \hline 37 \end{array}$$

$$\begin{array}{r} 20 \\ + 29 \\ \hline 49 \end{array}$$

$$\begin{array}{r} - 7 \\ \hline 22 \end{array}$$

$$\begin{array}{r} + 4 \\ \hline 37 \end{array}$$

$$\begin{array}{r} - 6 \\ \hline 30 \end{array}$$

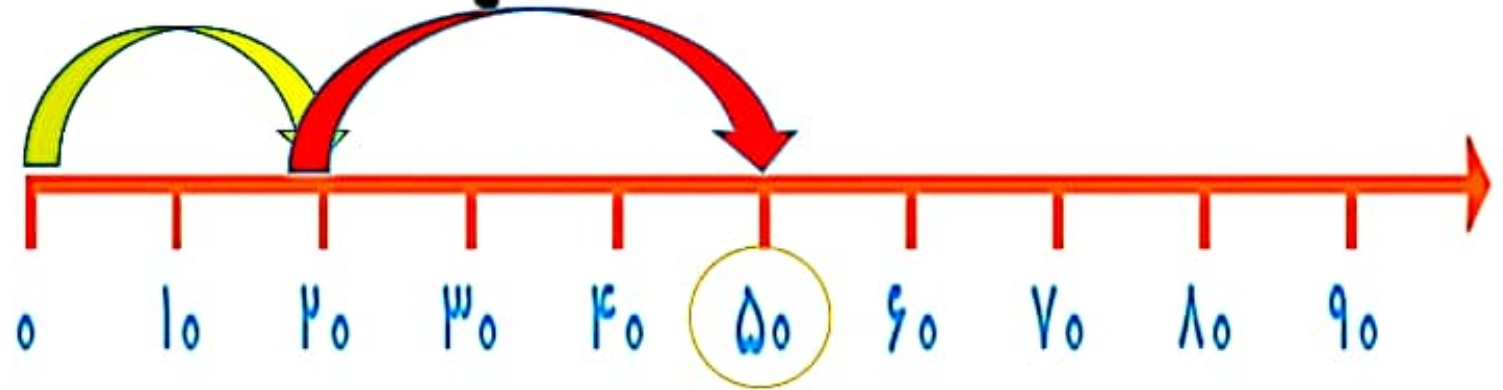
$$\begin{array}{r} + 4 \\ \hline 48 \end{array}$$

$$\begin{array}{r} - 0 \\ \hline 37 \end{array}$$

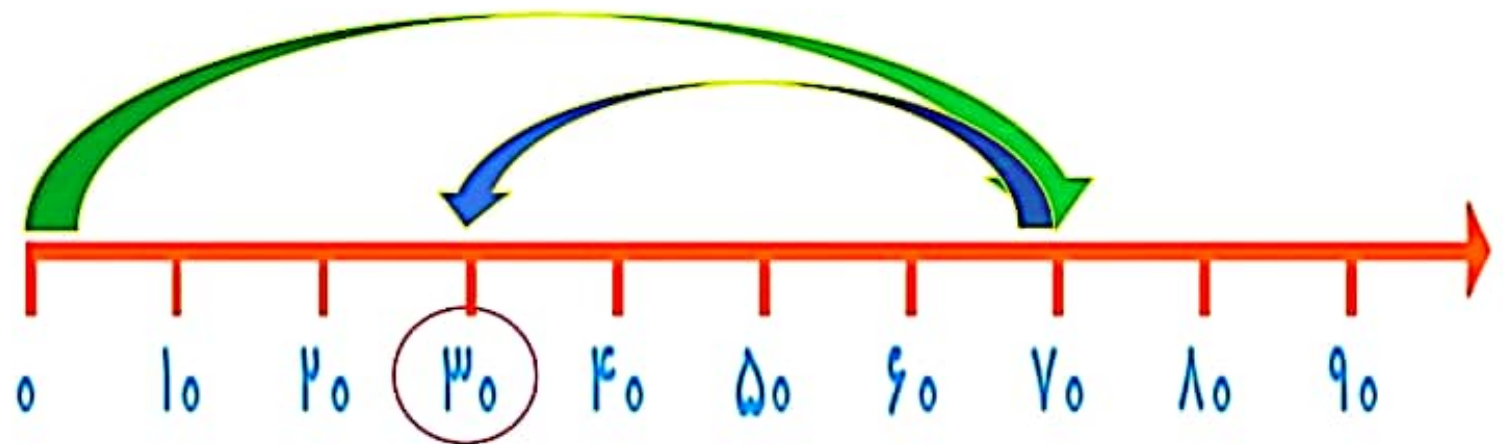
$$\begin{array}{r} + 9 \\ \hline 49 \end{array}$$

۳- با کمک محور اعداد جواب جمع و تفریق‌ها را به دست آورید.

$$۲۰ + ۳۰ = ۵۰$$

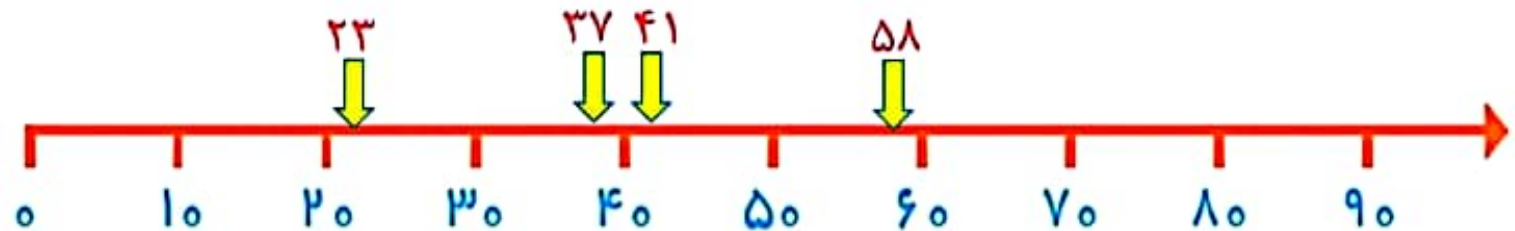


$$۷۰ - ۴۰ = ۳۰$$



## تقریب بزن

عددهای ۲۳ و ۳۷ و ۴۱ و ۵۸ را روی محور اعداد به صورت تقریبی نشان دهید.



حالا مشخص کنید عدد ۲۳ به ۲۰ یا به ۳۰؟

حالا مشخص کنید عدد ۳۷ به ۳۰ یا به ۴۰؟

حالا مشخص کنید عدد ۴۱ به ۴۰ یا به ۵۰؟

حالا مشخص کنید عدد ۵۸ به ۵۰ یا به ۶۰؟