


فصل دوم





درس دوم


جمع و تفریق






۲

درستی  و نادرستی  هر عبارت را مشخص کن.

الف: حاصل جمع عدد $8 + 7$ با $(8 + 2) + 5$ برابر است.  

ب: حاصل تفریق $16 - 9$ روی محور زیر به درستی نمایش داده شده است.  



پ: حاصل جمع $5 + 7$ برابر است با:     

با توجه به اعداد داخل گل، بیش‌ترین و کم‌ترین حاصل جمع دو عدد را پیدا کن.



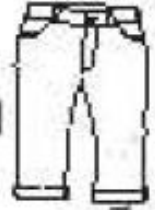
بیش‌ترین: $8 + 6 = 14$

کم‌ترین: $2 + 1 = 3$



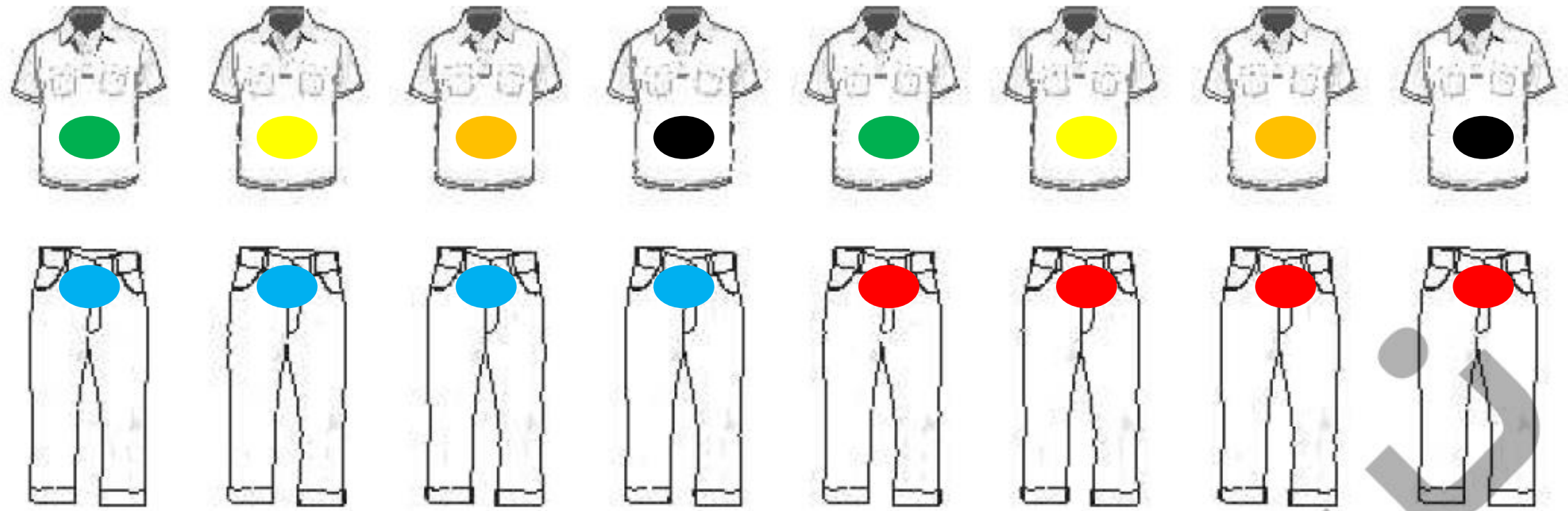
اگر برای رنگ کردن پیراهن

از دو رنگ آبی و قرمز و برای رنگ کردن شلوار



از چهار رنگ سبز، زرد،


نارنجی و مشکی استفاده کنیم، به چند حالت می توانیم رنگ آمیزی کنیم؟ حالت های مختلف را با رنگ آمیزی شکل های زیر نشان بده.



جدول‌های جمع و تفریق را کامل کن.

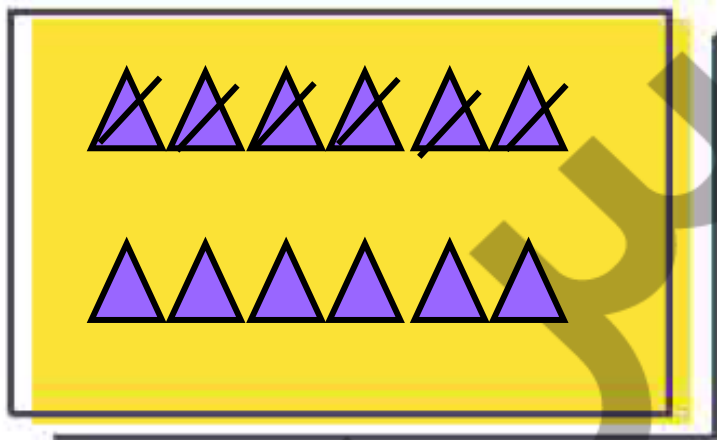
۵

	۷	۲	۳	۵
۹	۱۶	۱۱	۱۲	۱۴
۶	۱۳	۸	۹	۱۱
۸	۱۵	۱۰	۱۱	۱۳


	۵	۳	۷	۴
۱۲	۷	۹	۵	۸
۱۷	۱۲	۱۴	۱۰	۱۳
۱۹	۱۴	۱۶	۱۲	۱۵

حاصل جمع و تفریق‌های زیر را به هر روشی که دوست داری پیدا کن.

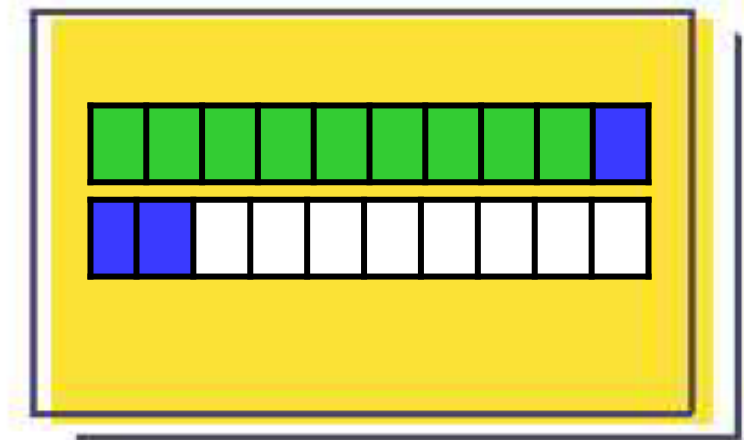
الف: $12 - 6 = \square$



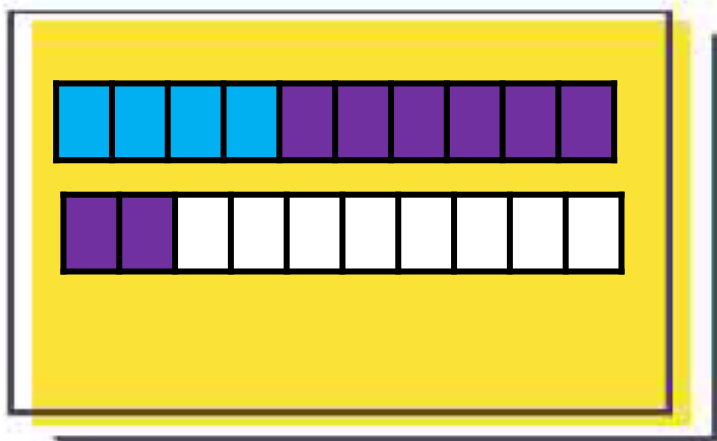
ب: $16 - 8 = \square$



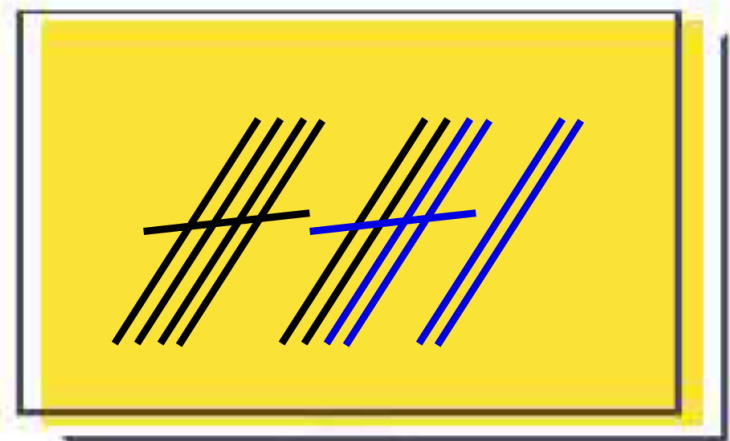
پ: $9 + 3 = \square$



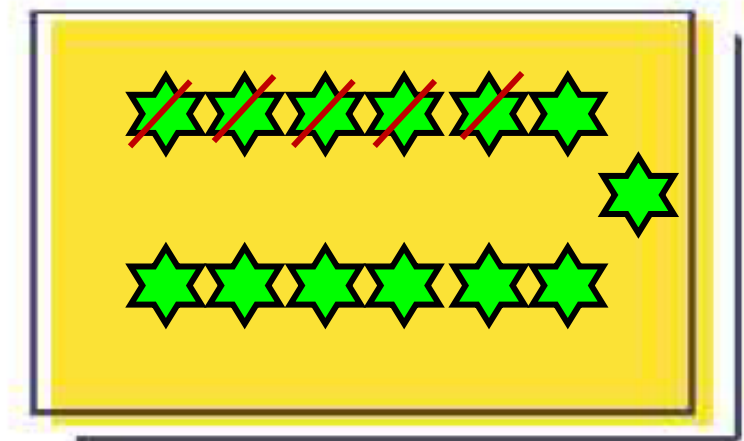
ت: $4 + 8 = \square$



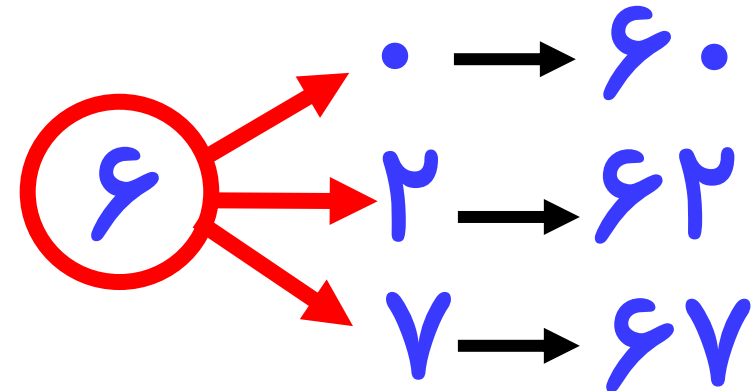
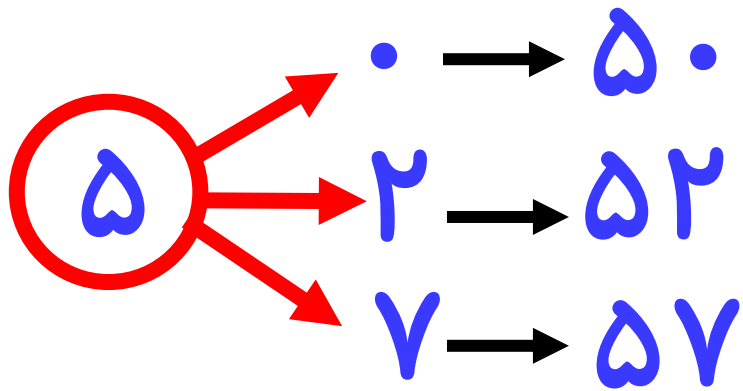
ث: $7 + 7 = \square$



ج: $13 - 5 = \square$

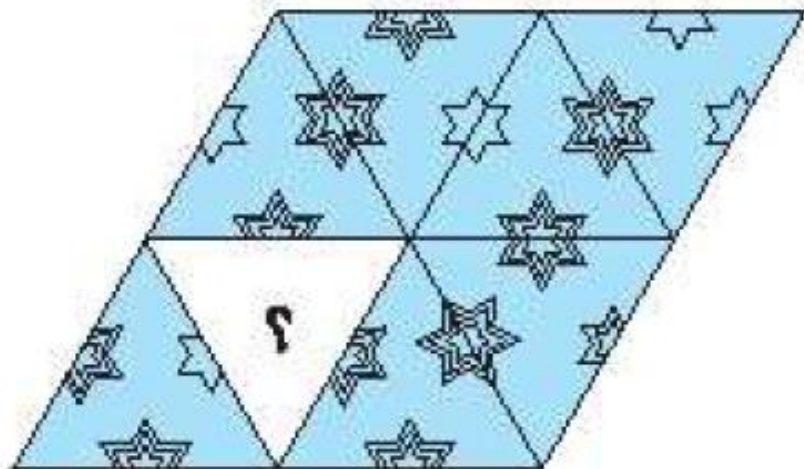


تمام عددهای دو رقمی که با رقم‌های (۷, ۰, ۲) برای یکان و (۵, ۶) برای دهگان می‌توان نوشت را بنویس.

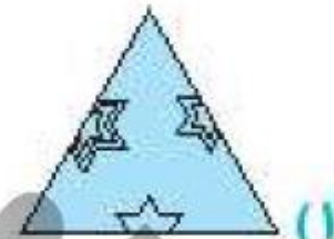


با توجه به سوالات داده شده، گزینه‌ی صحیح را انتخاب کن.

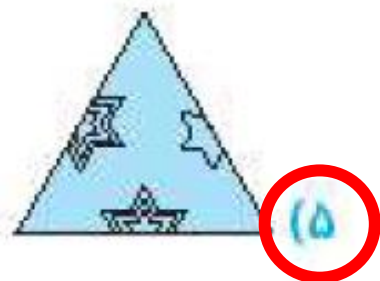
الف: کدام تکه را از شکل زیر برداشته‌ایم؟



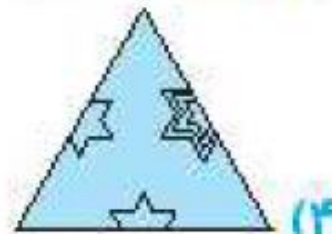
(۲)



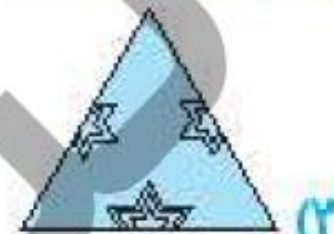
(۱)



(۵)



(۴)



(۳)

ب: تاریخ ۱۳۹۴/۳/۳، سه تا رقم ۳ دارد. اولین تاریخ بعد از آن که سه تا رقم ۳ دارد کدام است؟

۱۴۱۳/۳/۱۳ (۳)

۱۴۲۲/۶/۱۳ (۲)

۱۳۹۵/۳/۳ (۱)

۱۳۹۴/۳/۱۳ (۵)

۱۳۹۴/۳/۲۳ (۴)