
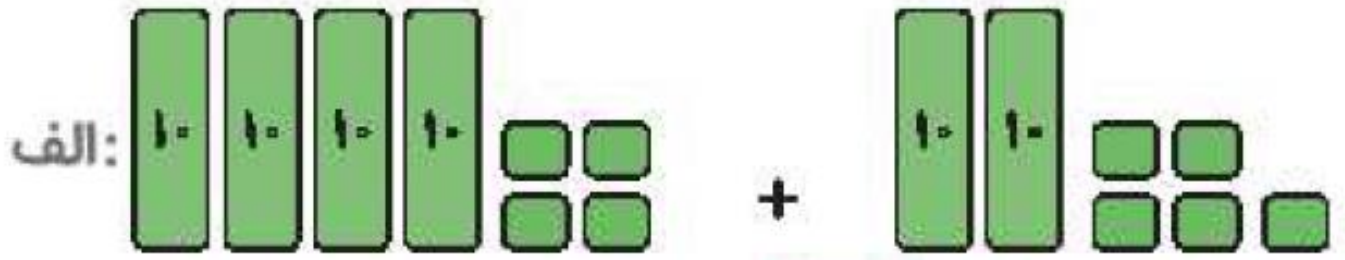


# فصل دوم



در هر قسمت با توجه به شکل، عبارت جمع یا تفریق بنویس.



$$44 + 25 = 69$$



$$77 - 34 = 43$$

حاصل جمع و تفریق‌های زیر را به روش گسترده‌نویسی (فرآیندی) به دست بیاور.

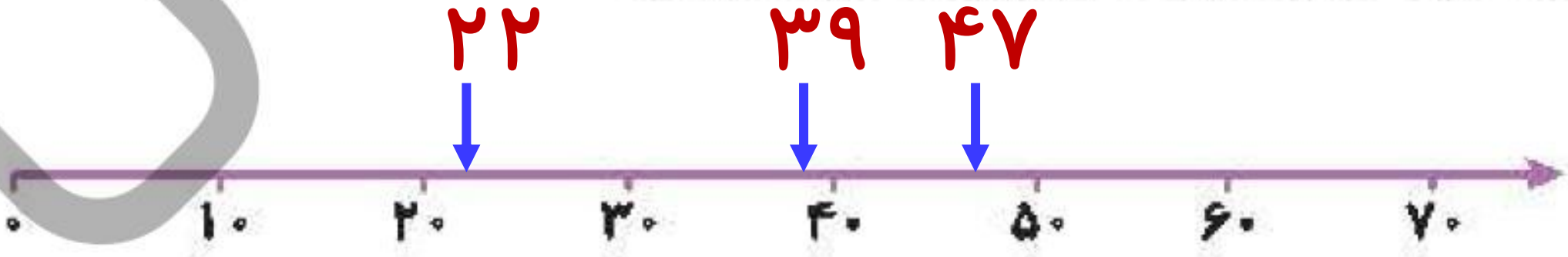
$$\begin{array}{r}
 ۳۳ \\
 + ۱۴ \\
 \hline
 ۴۳ \\
 \dots\dots \\
 + ۴ \\
 \hline
 ۴۷ \\
 \dots\dots
 \end{array}$$

$$\begin{array}{r}
 ۶۰ \\
 + ۱۸ \\
 \hline
 ۷۰ \\
 \dots\dots \\
 + ۸ \\
 \hline
 ۷۸ \\
 \dots\dots
 \end{array}$$

$$\begin{array}{r}
 ۷۶ \\
 - ۲۵ \\
 \hline
 ۵۶ \\
 \dots\dots \\
 - ۵ \\
 \hline
 ۵۱ \\
 \dots\dots
 \end{array}$$

$$\begin{array}{r}
 ۸۴ \\
 - ۵۳ \\
 \hline
 ۳۴ \\
 \dots\dots \\
 - ۳ \\
 \hline
 ۳۱ \\
 \dots\dots
 \end{array}$$

عددهای ۲۲، ۳۹ و ۴۷ را به صورت تقریبی روی محور نشان بده.



الف: عدد ۲۲ به ۲۰ نزدیکتر است یا به ۳۰ ..... ۲۰

ب: عدد ۴۷ به ۴۰ نزدیکتر است یا به ۵۰ ..... ۵۰

پ: عدد ۳۹ به ۳۰ نزدیکتر است یا به ۴۰ ..... ۴۰

۴

ساعت دیواری زمان ۹:۳۵ را نمایش می دهد. عقربه ی دقیقه شمار روی چه عددی قرار گرفته است؟

۵ (۴)

۷ (۳)

۲ (۲)

۴ (۱)

۱

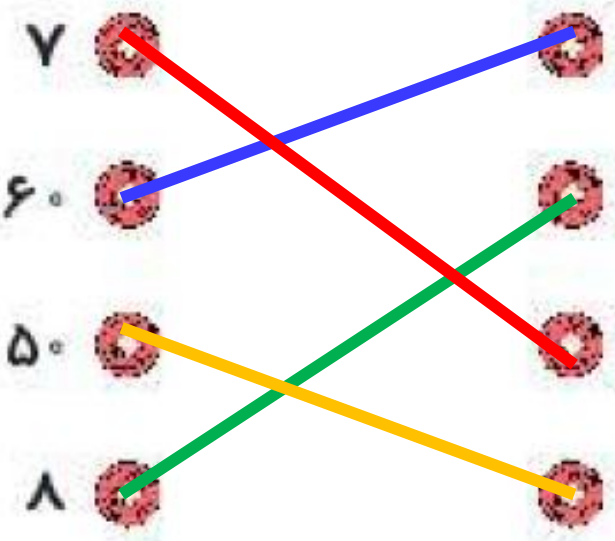
هر پرسش را به پاسخ صحیح آن وصل کن.

۷  تقریب عدد ۵۷ کدام است؟

۶۰  در ساعت ۹:۴۰، عقربه ی دقیقه شمار روی چه عددی است؟


۵۰  ۱۰ تقریب کدام عدد است؟


۸  اگر عقربه دقیقه شمار روی عدد ۱۰ باشد یعنی چند دقیقه گذشته است؟



۲

درستی  و نادرستی  هر عبارت را مشخص کن.

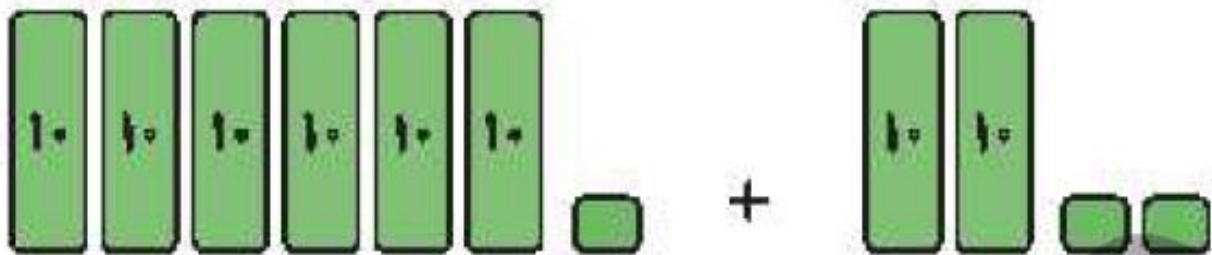
الف: عدد ۴۸ بین دو ایستگاه ۴۰ و ۵۰ قرار دارد و به عدد ۵۰ نزدیک است. 

ب: ساعت دیواری زمان ۸:۲۵ دقیقه را نشان می دهد پس عقربه ی دقیقه شمار روی عدد ۴ قرار دارد. 

برای هر شکل جمع یا تفریق بنویس.

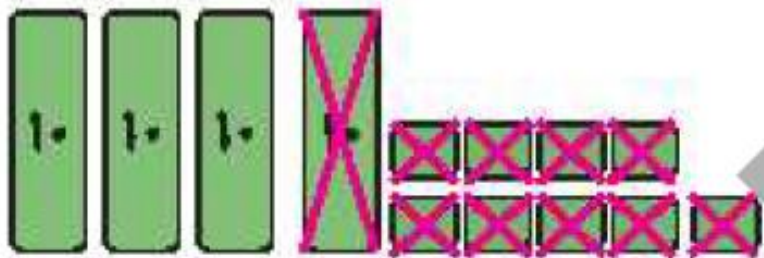
۲

الف:



$$\dots\dots\dots 61 + \dots\dots\dots 22 = \boxed{83}$$

ب:



$$\dots\dots\dots 49 - \dots\dots\dots 19 = \boxed{30}$$

حاصل جمع و تفریق‌های زیر را به روش گسترده‌نویسی (فرآیندی) به دست بیاور.

$$\begin{array}{r} 63 \\ - 32 \\ \hline \end{array}$$

$$\underline{31}$$

$$\begin{array}{r} \dots 2 \\ - \dots 2 \\ \hline \end{array}$$

$$\underline{31}$$

$$\begin{array}{r} 95 \\ - 62 \\ \hline \end{array}$$

$$\underline{33}$$

$$\begin{array}{r} \dots 2 \\ - \dots 2 \\ \hline \end{array}$$

$$\underline{33}$$

$$\begin{array}{r} 54 \\ + 25 \\ \hline \end{array}$$

$$\underline{79}$$

$$\begin{array}{r} \dots 5 \\ + \dots 5 \\ \hline \end{array}$$

$$\underline{79}$$

$$\begin{array}{r} 38 \\ + 41 \\ \hline \end{array}$$

$$\underline{79}$$

$$\begin{array}{r} \dots 1 \\ + \dots 1 \\ \hline \end{array}$$

$$\underline{79}$$



۵

اعداد داخل  $\bigcirc$  به کدام یک از اعداد داخل  $\square$  نزدیکتر است؟ آنها را رنگ بزن.

۲۰

۲۳

۳۰

۳۰

۳۸

۴۰

۶۰

۶۹

۷۰

۷۰

۷۲

۸۰

۸۰

۸۷

۹۰

۵۰

۵۴

۶۰

۶

در یک رودخانه ۵۷ ماهی قزل آلا و ۳۱ ماهی کپور شنا می کنند. در آن رودخانه چند ماهی وجود دارد؟

$$\begin{array}{r} 57 \\ + 31 \\ \hline 87 \\ + 1 \\ \hline 88 \end{array}$$

۸۸ ماهی وجود دارد.

۷

با رسم شکل حاصل جمع و تفریق های زیر را بنویس.

$$\begin{array}{r} 34 \\ + 21 \\ \hline 54 \\ + 1 \\ \hline 55 \end{array}$$

$$\begin{array}{r} 45 \\ - 34 \\ \hline 11 \end{array}$$

۸

اگر بخواهیم جای توپ را روی محور تقریب بزنیم کدام عدد می شود؟ آن را رنگ کن



۱۰

۲۰

۳۰

۴۰


۵۰

۲۱

۲۰

۳۰

۹

کاشی کاری، دوازده کاشی به شکل  دارد و می خواهد با آنها خط خمیده ای بسازد. او با قرار دادن دوتا کاشی این

خط را از طرف چپ شکل زیر شروع کرده است. این خط خمیده با کدام شکل تمام می شود؟

