



فصل سوم

یاد آوری اشکال هندسی




۱- شکل‌های خواسته شده را با شابلون رسم کنید.


دایره




مستطیل



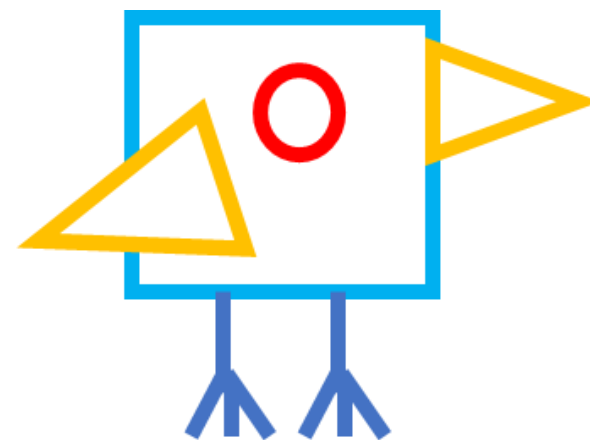
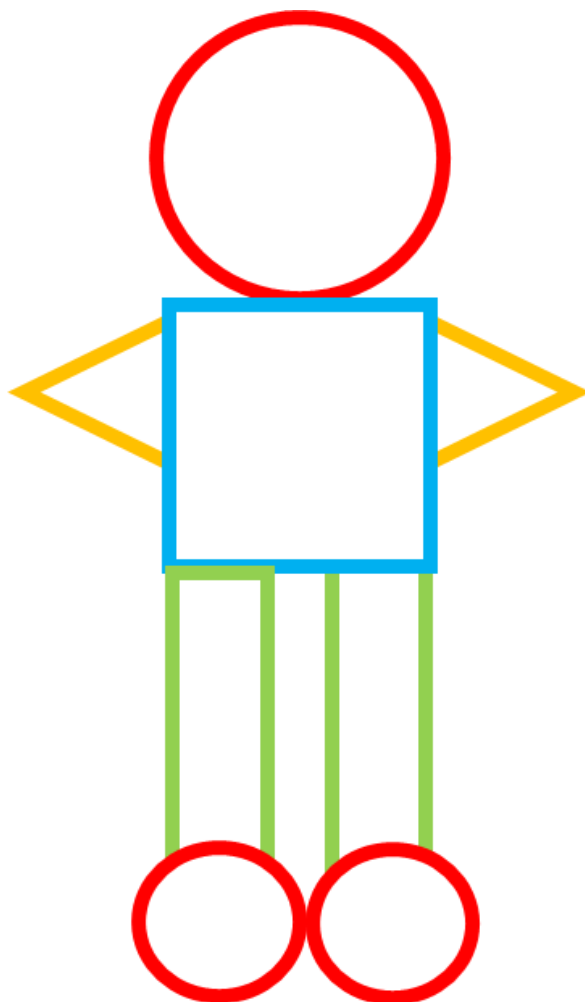
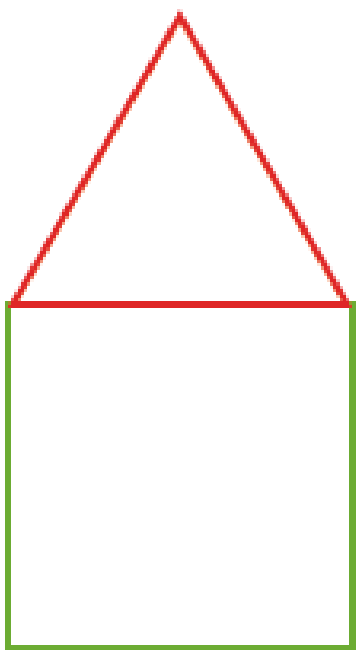
مربع



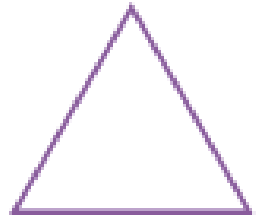
مثلث



۲- با شابلون و کنار هم قرار دادن شکل‌های هندسی یک شکل زیبا مانند نمونه بکشید.




۳- مثلث ۳ ضلع و ۳ گوشه دارد. کنار هر شکل تعداد ضلع‌ها و گوشه‌ها را بنویسید.



۳ گوشه
۳ ضلع



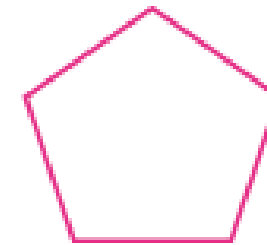
۴ گوشه
۴ ضلع



۴ گوشه
۴ ضلع



۴ گوشه
۴ ضلع

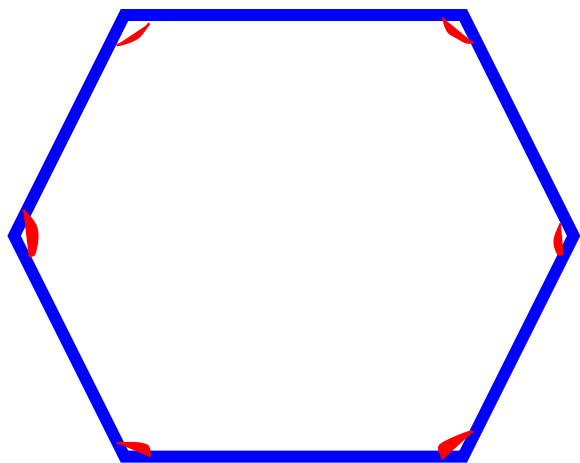


۵ گوشه
۵ ضلع

به شکل‌های بالا چند ضلعی می‌گویند.

۴- آیا می توان گفت در چند ضلعی ها تعداد گوشه ها با تعداد ضلع ها یکی هستند؟
به کمک شابلون یک ۶ ضلعی رسم کنید و درستی جمله ی بالا را آزمایش کنید.

بله ، تعداد ضلع ها و گوشه ها برابر است.



۶ ضلع

۶ گوشه