
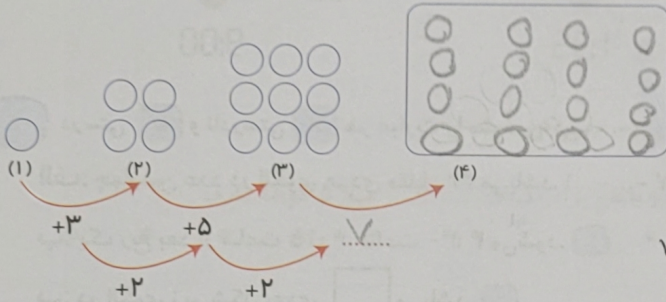




۱ عزیزم با مداد رنگی خود در صفحه‌ی شطرنجی زیر، دو مربع و دو مستطیل با اندازه‌های متفاوت بکش و آن‌ها را طوری رنگ آمیزی کن که سطح را بپوشانند.

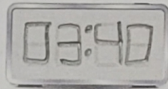


۲ در جای خالی عدد مناسب نوشته و شکل چهارم را بکش.

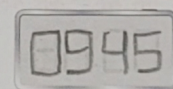


۳ زمانی را که هر ساعت نشان می‌دهد به صورت دیجیتالی بنویس.

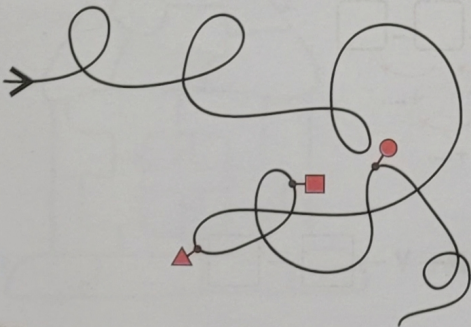
ب:



الف:



۴ اگر از شروع به حرکت کنیم، به ترتیب به کدام شکل‌ها می‌رسیم؟



- ۱ ● ■ ▲
- ۲ ■ ● ▲
- ۳ ■ ▲ ●
- ۴ ● ▲ ■
- ۵ ▲ ● ■