




عقربه‌های مربوط به زمان‌های زیر را بکش.



ساعت ۶ و ۳۰ دقیقه



۱۰:۲۰



ساعت ۵ و ۵۰ دقیقه

درنا و برنا هر کدام ۳ دسته‌ی ده‌تایی و ۴ یکی گل دارند. آن‌ها روی هم چند گل دارند؟

حاصل جمع و تفریق زیر را روی جدول اعداد زیر نشان بده.

۲۱	۲۲	۲۳	۲۴	۲۵	۲۶	۲۷	۲۸	۲۹	۳۰
۳۱	۳۲	۳۳	۳۴	۳۵	۳۶	۳۷	۳۸	۳۹	۴۰
۴۱	۴۲	۴۳	۴۴	۴۵	۴۶	۴۷	۴۸	۴۹	۵۰

$$\begin{array}{r} ۲۷ \\ +۱۲ \\ \hline \end{array}$$

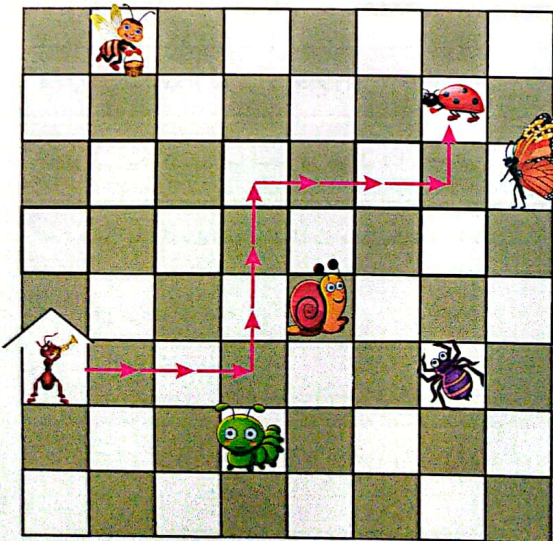
$$\begin{array}{r} ۴۶ \\ -۱۴ \\ \hline \end{array}$$

درنا در روز تولدش سه ماشین، چهار توپ، سه خرس عروسکی، ده مداد، دو شکلات و یک کتاب کادو گرفت. او کلاً چه تعداد هدیه گرفته است؟

با توجه به اطلاعات داده شده، گزینه‌ی صحیح را انتخاب کن.

اگر از حرکت کند و از مسیر  $۳ \rightarrow ۳, \uparrow ۳, \rightarrow ۳, \uparrow ۱$  برود، به می‌رسد.

اگر از حرکت کند و از مسیر  $۲ \rightarrow ۲, \downarrow ۲, \rightarrow ۳, \uparrow ۳, \rightarrow ۲$  برود، به کدام حیوان می‌رسد؟



- (۱)
- (۲)
- (۳)
- (۴)
- (۵)