
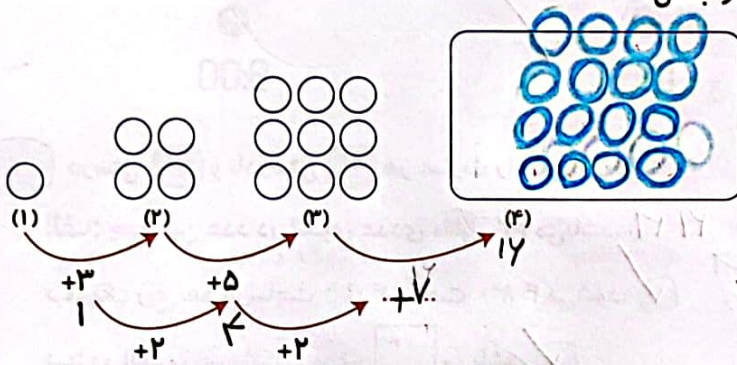




۱ عزیزم با مداد رنگی خود در صفحه‌ی شطرنجی زیر، دو مربع و دو مستطیل با اندازه‌های متفاوت بکش و آن‌ها را طوری رنگ آمیزی کن که سطح را بپوشاند.



۲ در جای خالی عدد مناسب نوشته و شکل چهارم را بکش.



۳ زمانی را که هر ساعت نشان می‌دهد به صورت دیجیتالی بنویس.

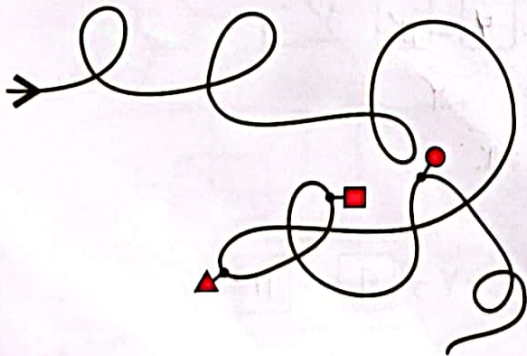
ب:



الف:



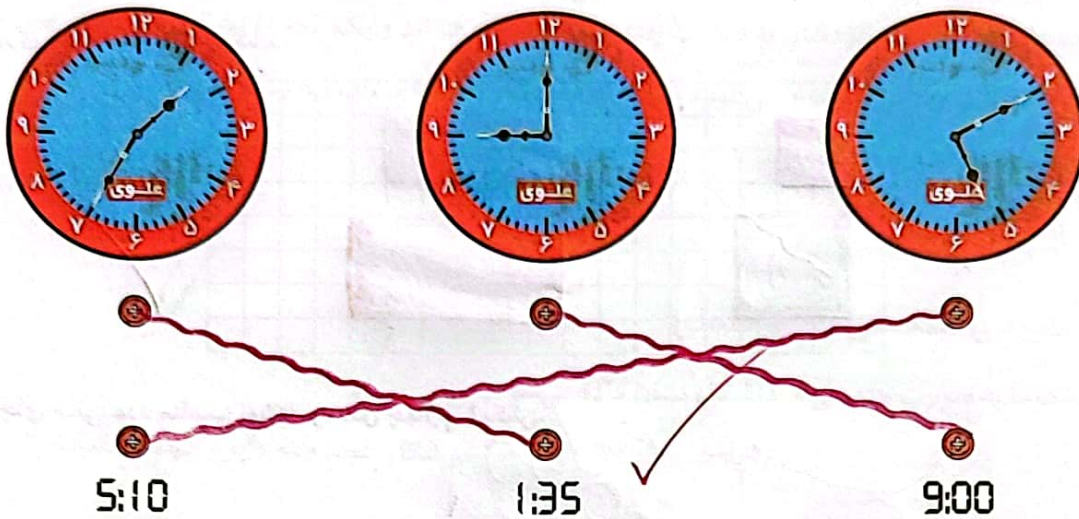
۴ اگر از → شروع به حرکت کنیم، به ترتیب به کدام شکل‌ها می‌رسیم؟



- (۱) ● ■ ▲
- (۲) ■ ● ▲
- (۳) ■ ▲ ●
- (۴) ● ▲ ■
- (۵) ▲ ● ■

# تمرین

۱ با توجه به زمان نشان داده شده در ساعت‌ها، آن‌ها را به هم وصل کن.

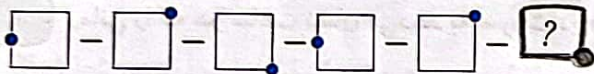


۲ درستی  و نادرستی  هر عبارت را مشخص کن.

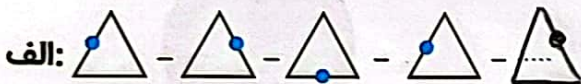
الف: چهارمین عدد در الگوی عددی مقابل ۲۲ می‌باشد.  (۹ - ۱۳ - ۱۷ - ۲۱ - ۲۵)

ب: یک ربع بعد از ساعت ۴:۱۵، ساعت ۴:۳۰ می‌شود.

پ: در الگوی زیر شکل بعدی  می‌باشد.



۳ الگوی شکل‌ها را پیدا کن و ادامه بده.



۴ الگوی عددی زیر را ادامه بده.

$$1 - 5 - 10 - \boxed{15} - \boxed{21}$$

$\begin{matrix} \xrightarrow{+4} & \xrightarrow{+5} & \xrightarrow{+6} & \xrightarrow{+7} \\ +4 & +5 & +6 & +7 \\ \xrightarrow{+1} & \xrightarrow{+1} & \xrightarrow{+1} & \end{matrix}$

$$0 - 2 - \boxed{4} - \boxed{12}$$

$\begin{matrix} \xrightarrow{+2} & \xrightarrow{+4} & \xrightarrow{+8} \\ +2 & +4 & +8 \\ \xrightarrow{+2} & \xrightarrow{+2} & \end{matrix}$

$$1 - 4 - 7 - 10 - \boxed{13} - \boxed{17}$$

$\begin{matrix} \xrightarrow{+3} \\ +3 \end{matrix}$

$$1 - 3 - 5 - 7 - \boxed{9} - \boxed{11}$$

$\begin{matrix} \xrightarrow{+2} \\ +2 \end{matrix}$

