

۵ در کدام یک از شکل‌های زیر، خط کشیده شده، خط تقارن نیست؟ (دور آن خط بکش)

الف:

ب:

پ:

ت:



ریاضی دوم دبستان



۵

در کدام یک از شکل‌های زیر، خط کشیده شده، خط تقارن نیست؟ (دور آن خط بکش)

الف:



ب:



پ:



ت:



ریاضی دوم دبستان



تمرین



هر عبارت را به جواب صحیح آن وصل کن.



مربع

مستطیل

دایره

مثلث

شکلی با ۳ ضلع مساوی و ۳ خط تقارن

شکلی دارای بی‌نهایت خط تقارن

شکلی با ۴ خط تقارن

شکلی با ۲ خط تقارن

تمرین



هر عبارت را به جواب صحیح آن وصل کن.



مربع



شکلی با ۳ ضلع مساوی و ۳ خط تقارن

مستطیل



شکلی دارای بی نهایت خط تقارن

دایره




شکلی با ۴ خط تقارن

مثلث



شکلی با ۲ خط تقارن



۲ درستى و نادرستى هر عبارت را مشخص کن.

الف: هر ساعت 6° دقیقه و نیم ساعت همان 4° دقیقه است.

ب: تعداد خطهای تقارن شکل‌های هندسی مختلف با هم برابر است.

پ: خط تقارن می‌تواند در شکل‌ها به صورت افقی و عمودی رسم شود.

ت: ساعت $2:40$ همان ساعت دو و نیم است.

۲ درستى و نادرستى هر عبارت را مشخص کن.

الف: هر ساعت 6° دقیقه و نیم ساعت همان 4° دقیقه است.

ب: تعداد خطهای تقارن شکل‌های هندسی مختلف با هم برابر است.

پ: خط تقارن می‌تواند در شکل‌ها به صورت افقی و عمودی رسم شود.

ت: ساعت $2:4^{\circ}$ همان ساعت دو و نیم است.

زمان مربوط به هر ساعت را به دو صورت بنویس.



پ: ساعت

۲:۳۰



ب: ساعت ده و نیم

.....:.....



الف: ساعت

.....:.....

زمان مربوط به هر ساعت را به دو صورت بنویس.



پ: ساعت دو و نیم

۲:۳۰



پ: ساعت ده و نیم

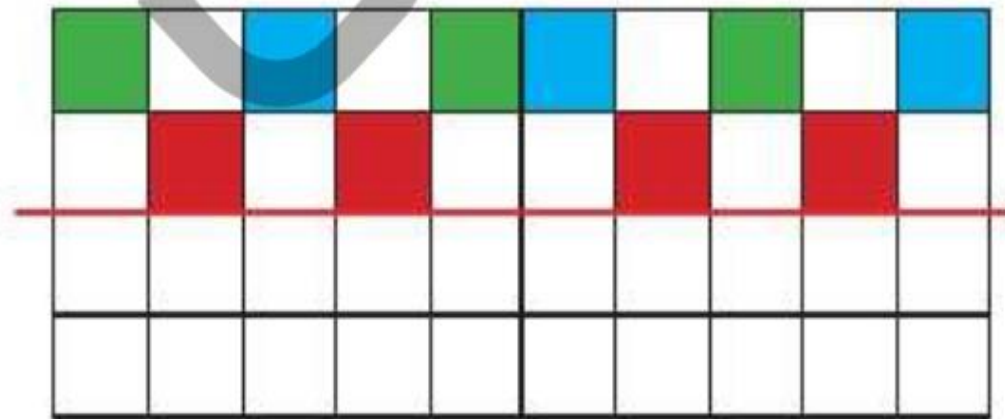
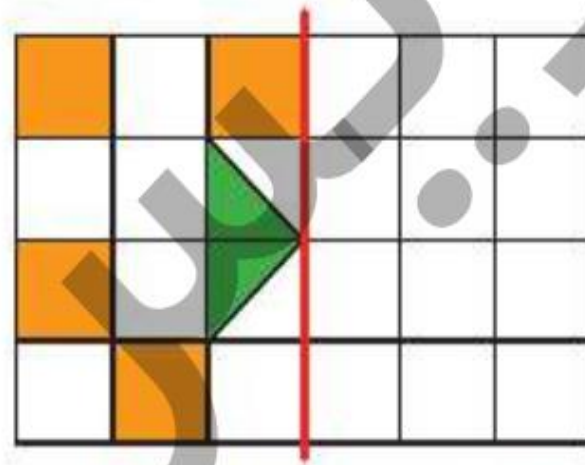
..... ۱۰ : ۳۰



الف: ساعت دوازده و نیم

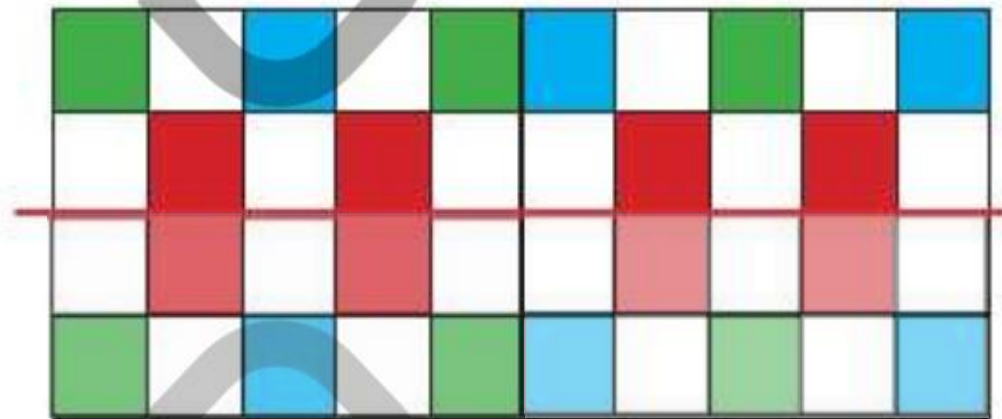
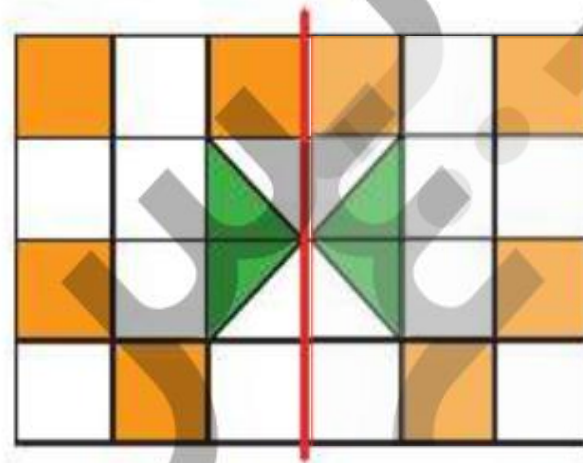
..... ۱۲ : ۳۰

۴ با توجه به خط تقارن، نیمه‌ی دیگر شکل‌های زیر را رنگ آمیزی کن.




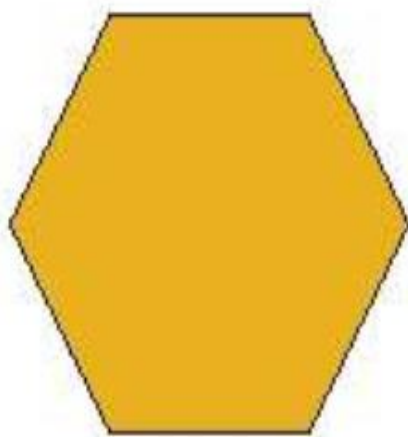
اشکال هندسی ➔ فصل سوم

۴ با توجه به خط تقارن، نیمه‌ی دیگر شکل‌های زیر را رنگ آمیزی کن.



اشکال هندسی ➔ فصل سوم

۵ برای هر شکل طوری خط تقارن بکش که به دو نیمه‌ی کاملاً شبیه هم تقسیم شود.



۵ برای هر شکل طوری خط تقارن بکش که به دو نیمه‌ی کاملاً شبیه هم تقسیم شود.

