



فصل سوم







درس چهارم

تقارن ۴ قسمتی

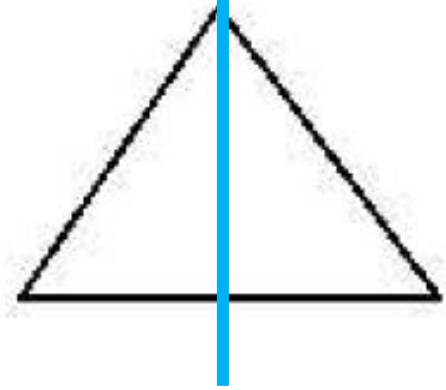

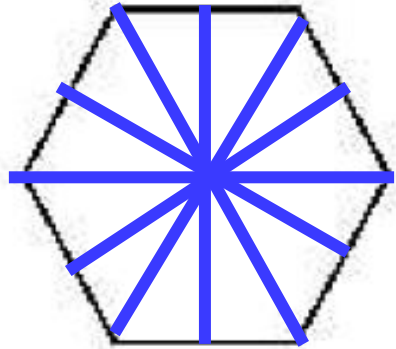
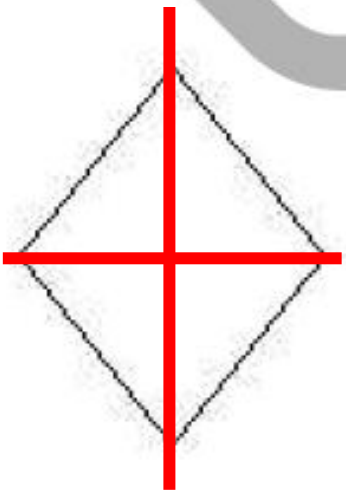
۱ درست یا نادرست بودن هر عبارت را مشخص کن.

الف: تعداد خط تقارن های مربع از دایره کمتر است.  

ب: مثلث با ۳ ضلع برابر، ۳ خط تقارن دارد.  

پ: ساعت ۱۵:۰۶ یعنی ۱۵ دقیقه به ساعت ۶ مانده است.  

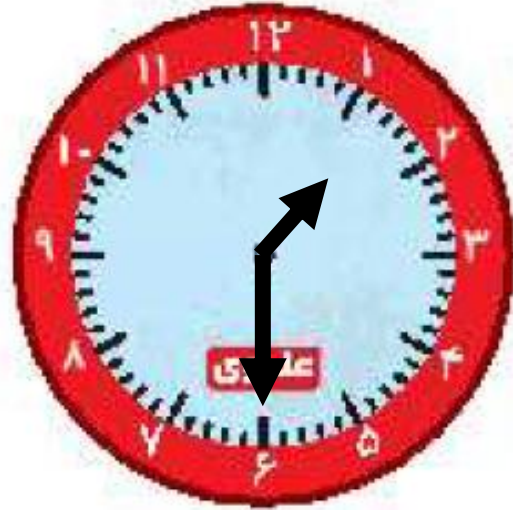
۲ خط های تقارن شکل های زیر را رسم کن.



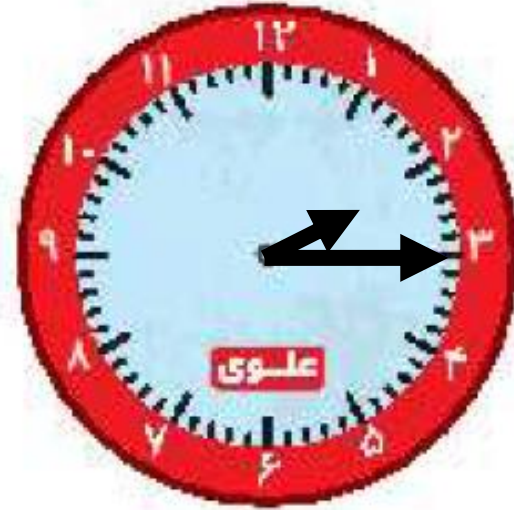
زمان‌های زیر را روی هر ساعت نشان بده.



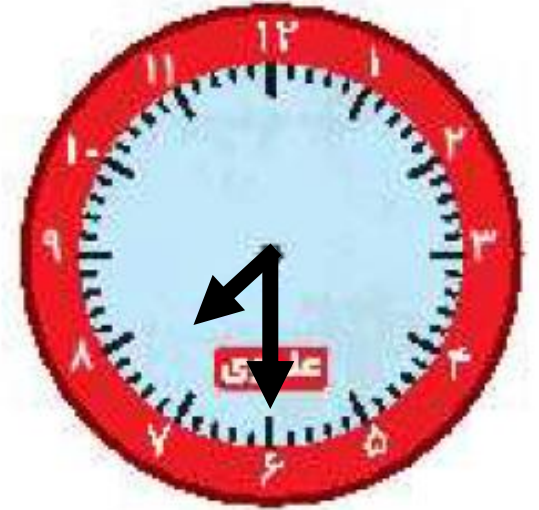
دوازده و ربع



یک و نیم



دو و ربع



هفت و نیم

۱ هر زمان را به ساعت خودش وصل کن.




یک ربع مانده به ۳


نیم ساعت گذشته از ۷

۸:۱۵


۳:۴۵

۲ درستی  و نادرستی  هر عبارت را مشخص کن.

الف: خط‌های رسم شده در مستطیل و مربع روبه‌رو، خط تقارن است. 

ب: نیم ساعت بعد از ساعت ۳:۰۷ ساعت ۸ می‌شود. 

پ: برای حرف B نمی‌توان خط تقارن رسم کرد. 



جاهای خالی را با کلمات مناسب کامل کن.

الف: هر نیم ساعت **دو** ربع ساعت است.

ب: ساعت ۶:۴۵ یعنی یک ربع به ساعت .. **هفت** ... مانده است.

پ: یک ربع بعد از ساعت ۷:۲۰، **۷:۳۵** می باشد.

ت: برای شکل هندسی **مستطیل** نمی توان ۴ خط تقارن کشید.