




۱- آموزگار دسته‌های ده‌تایی و یکی را به گروه‌های ۲ نفره می‌دهد.
 ۹ دسته‌ی ده‌تایی را کنار هم بگذارید.



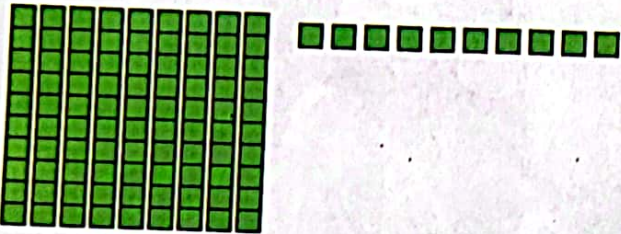
چه عددی ساخته می‌شود؟ ۹۰
 یک دسته‌ی ده‌تایی دیگر کنار آن قرار دهید. حالا عدد صد ساخته شده است. این عدد را به صورت ۱۰۰ می‌نویسند.
 حالا از ابتدا دسته‌های ده‌تایی را یکی یکی بشمارید و کنار هم بگذارید و عددها را بنویسید.



فعالیت

۱۰_ ۲۰_ ۳۰_ ۴۰_ ۵۰_ ۶۰_ ۷۰_ ۸۰_ ۹۰_ ۱۰۰

۲- ۹ دسته‌ی ده‌تایی را کنار هم بگذارید. از یکی‌ها یکی یکی بردارید و کنار آن بگذارید.
 هربار عددی را که ساخته می‌شود، بنویسید.



۹۰_ ۹۱_ ۹۲_ ۹۳_ ۹۴_ ۹۵_ ۹۶_ ۹۷_ ۹۸_ ۹۹_ ۱۰۰

در هر شکل چند تا مربع کوچک وجود دارد؟ تعداد آن را بنویسید.


شکل ۱



شکل ۲



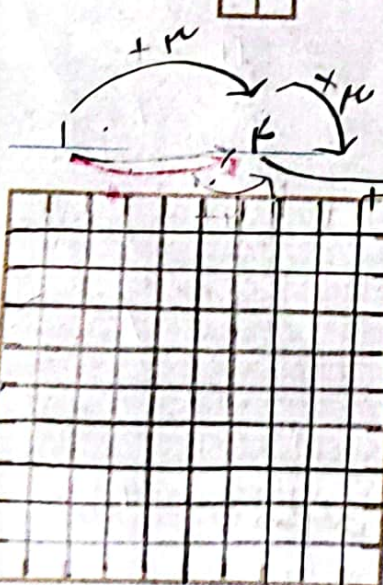
شکل ۳



شکل ۴



شکل ۵



شکل‌های چهارم و پنجم را با خط کش کامل کنید.
 تعداد مربع‌های هر شکل را زیر آن بنویسید.
 حدس می‌زنید شکل دهم چند تا مربع دارد؟ ۱۰۰

شکل دهم را با خط کش کامل کنید و تعداد مربع‌ها را بنویسید. ۱۰۰



کار در کلاس

۳۰۲/۱۱۰/۰۱



واحد پول کشور ما ریال است.

شکل مقابل سکه‌ی یک ریالی را نشان می‌دهد.

پول به شکل سکه و اسکناس با ارزش‌های مختلف وجود دارد.

شما هم حتماً پول‌های مختلف را دیده‌اید.



هر کس ۱۰ سکه‌ی ۱ ریالی به بانک بدهد، می‌تواند یک

سکه‌ی ۱۰۰ ریالی تحویل بگیرد.



فعالیت

۱- اگر علی ۲۰ سکه‌ی ۱ ریالی به بانک بدهد، چند سکه‌ی ۱۰۰ ریالی می‌گیرد؟ ۲

۲- زهرا ۸۰ سکه‌ی ۱ ریالی به بانک داده است، چند سکه‌ی ۱۰۰ ریالی تحویل می‌گیرد؟
۸

۳- حسین ۱۰۰ تا سکه‌ی ۱۰۰ ریالی به بانک داد، بانک می‌تواند چه سکه‌ای به او بدهد؟
۱۰۰ ریالی

۴- اگر فاطمه ۱۰۰ تا سکه‌ی ۱ ریالی به بانک تحویل دهد، بانک چند سکه‌ی ۱۰۰ ریالی به او می‌دهد؟
۱۰۰



بانک می‌تواند در مقابل ۱۰۰ تا سکه‌ی ۱ ریالی یک سکه‌ی ۱۰۰۰ ریالی بدهد.

اگر به بانک ۱۰ تا سکه‌ی ۱۰۰ ریالی بدهیم و یا ۱۰۰ سکه‌ی یک ریالی بدهیم، بانک به ما یک سکه‌ی ۱۰۰۰ ریالی می‌دهد. فکر می‌کنید چرا در حال حاضر سکه‌های ۱ ریالی یا ۱۰۰ ریالی کم است. در این مورد در کلاس گفت‌وگو کنید.



الگویابی کن

الگوهای عددی را ادامه دهید.



۴ - ۸ - ۱۲ - ۱۶ - ۲۰ - ۲۴ - ۲۸ - ۳۲ - ۳۶
+۴ +۴

۳ - ۶ - ۹ - ۱۲ - ۱۵ - ۱۸ - ۲۱ - ۲۴ - ۲۷
+۳ +۳

۷ - ۱۴ - ۲۱ - ۲۸ - ۳۵ - ۴۲ - ۴۹ - ۵۶ - ۶۳
+۷ +۷

در مورد روش‌های مختلفی که برای پیدا کردن عددها استفاده کرده‌اید، با دوستان خود گفت‌وگو کنید.