



موضوع: ریاضی

تاریخ:

نام و نام خانوادگی:

هدف:

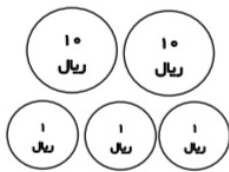
- جاهای خالی را کامل کنید .

۱۰ ریال برابر است با ..... سکه ی یک ریالی .

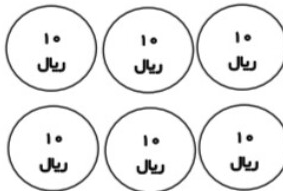
۷۰ ریال برابر است با ..... سکه ی ده ریالی .

۱۰۰ ریال برابر است با ..... سکه ی ده ریالی .


- در هر قسمت چند ریال پول داریم ؟



ریال .....



ریال .....



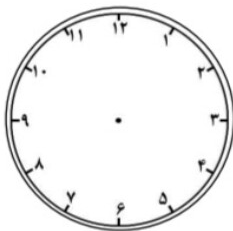
ریال .....

- محمد ساعت ۱ به خانه آمد و ۱۵ دقیقه بعد شروع به انجام تکالیفش کرد ، محمد در چه ساعتی

تکالیفش را شروع کرده است ؟ .....

انجام تکالیف محمد ۳۰ دقیقه طول کشید ، محمد در چه ساعتی تکالیفش را تمام کرده است ؟

روی ساعت نشان دهید .



- هر رقم را به حروف مربوط به خود وصل کن .

۵۵۰ ○

○

دویست و سی

۳۰۹ ○

○

پانصد و پنجاه

۲۳۰ ○

○

هشتصد و هشتاد

۸۸۰ ○

○

سیصد و نه