







موضوع:

تاریخ

نام و نام خانوادگی

هدف:

۱- نام هریک از شکل های زیر را بنویس.



۲- جاهای خالی را کامل کن.

مثلث..... گوشه و ضلع دارد.

مستطیل..... گوشه و ضلع دارد.

مربع..... گوشه و ضلع دارد.

شکلی که گوشه ندارد..... نام دارد.

شکلی که ۴ ضلع برابر دارد..... نام دارد.

۳- هریک از شکل های زیر چند گوشه دارد؟

