

فصل چهارم

معرفی عددهای سه رقمی



ارزش مرتبه دهگان از یکان بیشتر است.

دهگان

یکان

❖ جدول ارزش مکانی برای عدد های سه رقمی به شکل زیر است.

❖ هر جدول ارزش مکانی برای اعداد سه رقمی دارای سه مرتبه است که :

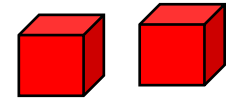

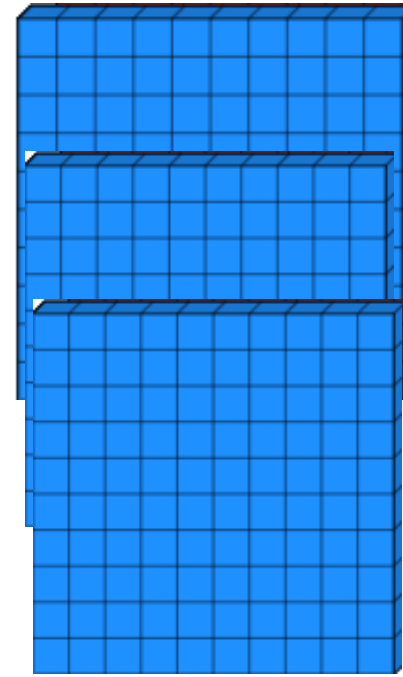
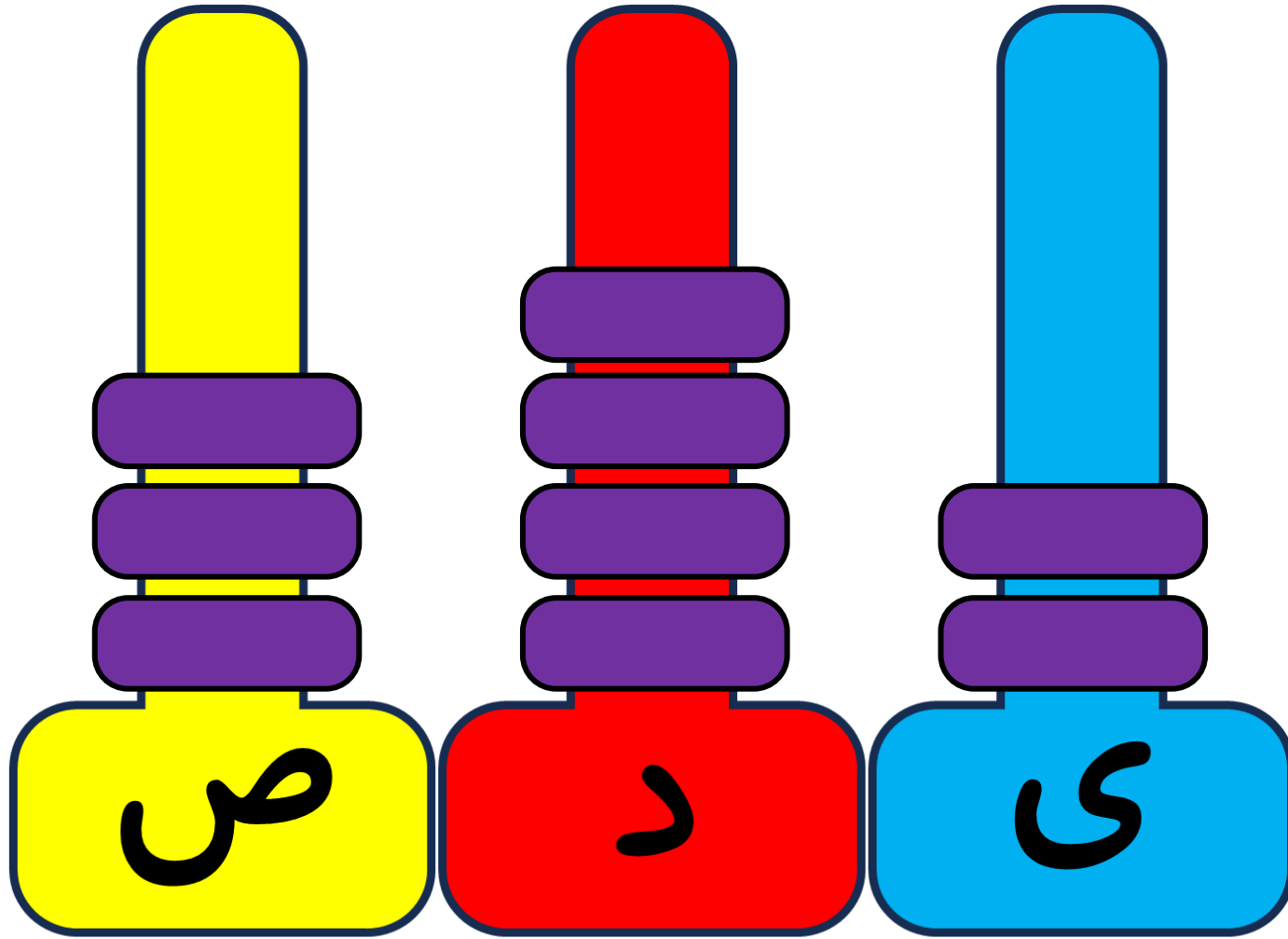
❖ عبارتند از **یکان**، **دهگان**، **صدگان**

صدگان	دهگان	یکان
--------------	--------------	-------------

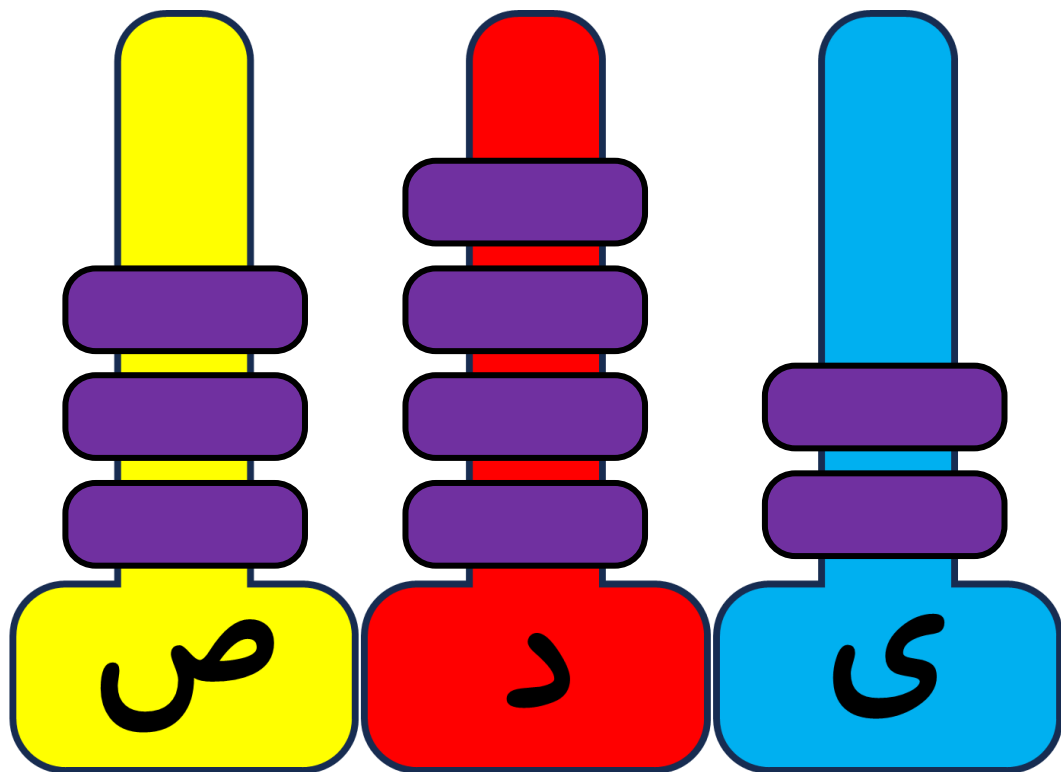
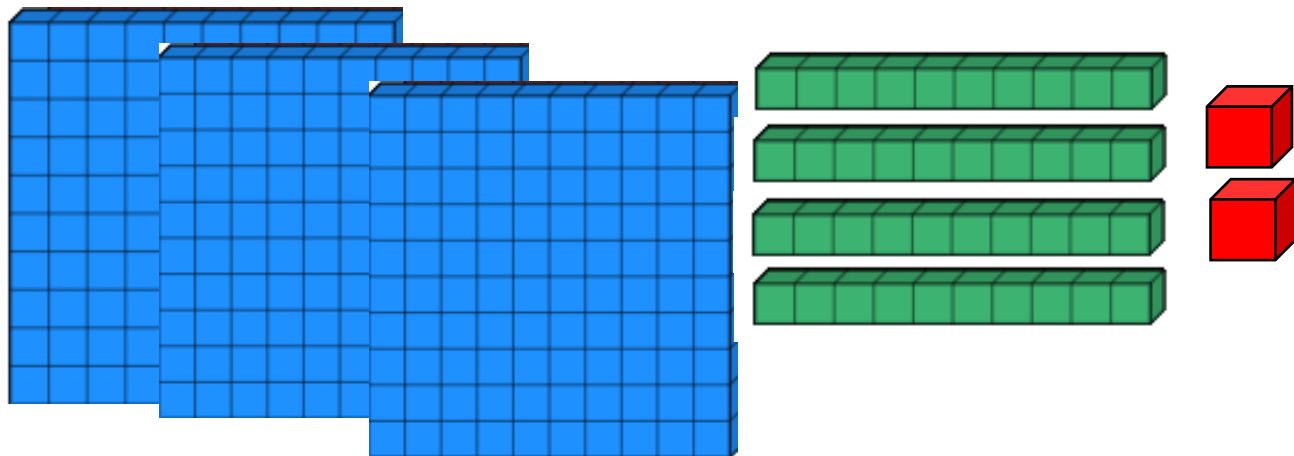
ارزش مرتبه صدگان از دهگان بیشتر است.

صدگان	دهگان	یکان

چرتنگه



چرتکه



صدگان	دهگان	یکان
۳	۴	۲

آموزگار از او خواست با کامل کردن جدول، عدد را بسازد تا کم کم متوجه شود که چقدر پول دارد. سعیده عدد را از جدول خارج کرد و نوشت: ۲۳۱

ص	د	ی
۲	۳	۱

آموزگار هم این عدد را برایش خواند و گفت: دویست و سی و یک

۲- آموزگار دسته‌های صدتایی، ده‌تایی و یکی را به گروه‌های ۲ نفره‌ی کلاس داد. سپس از آن‌ها خواست به تعداد دسته‌هایی که او می‌گوید، از هر کدام بردارند و یک عدد درست کنند. شما هم این عددها را درست کنید و در جدول ارزش مکانی قرار دهید. سپس عدد را از جدول خارج کرده و با رقم و با حروف بنویسید.

۳ دسته‌ی صدتایی ۴ دسته‌ی ده‌تایی و ۷ تا یکی.

به عدد: ۳۴۷

به حروف: سیصد و چهل و هفت



۵ دسته‌ی صدتایی ۳ دسته‌ی ده‌تایی و ۴ تا یکی.

به عدد: ۵۳۴

به حروف: پانصد و سی و چهار

ص	د	ی
۳	۴	۷

ص	د	ی
۵	۳	۴

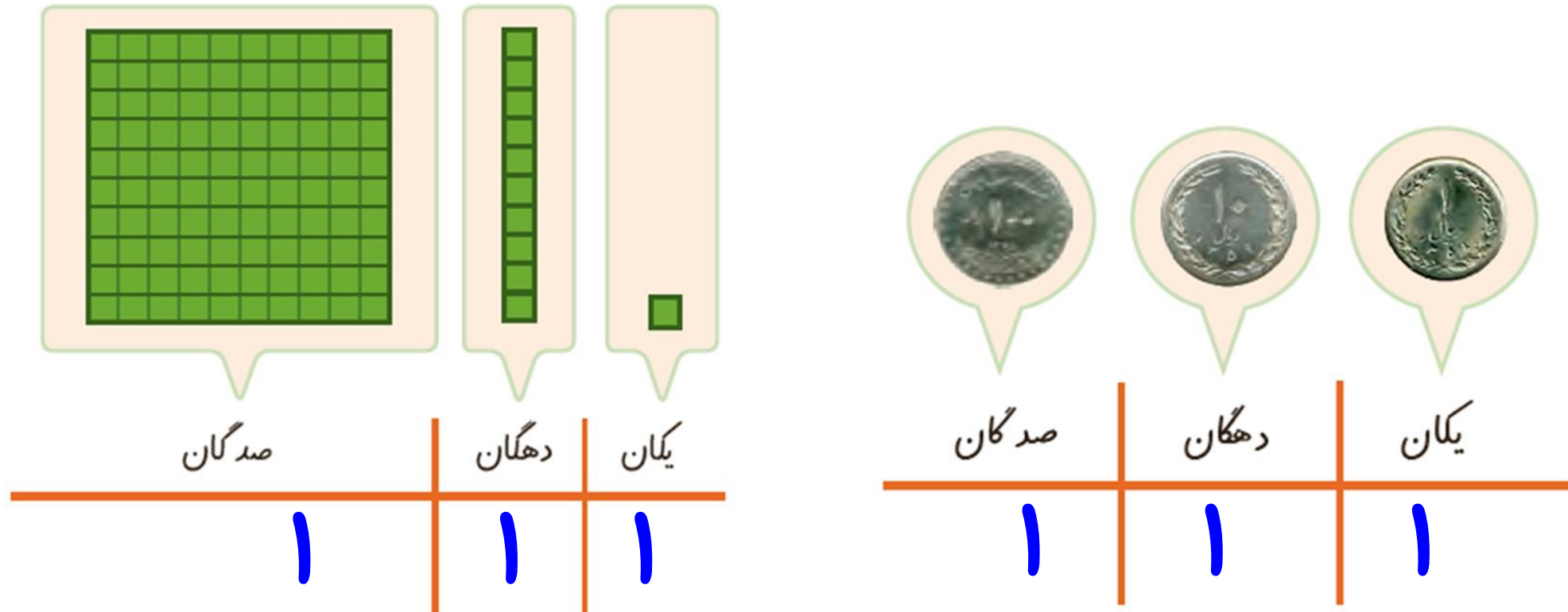


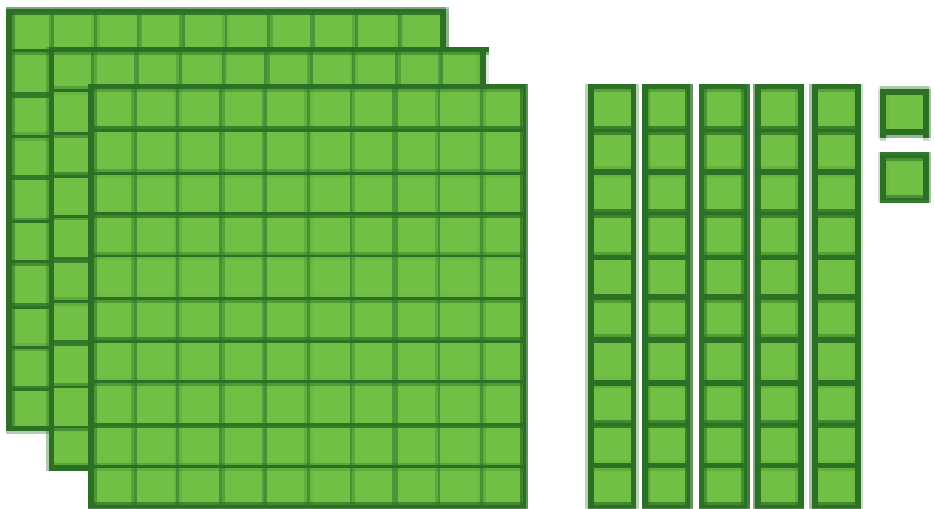
۳- الگوها را ادامه دهید.

۱۰۰ , ۲۰۰ , ۳۰۰ , ۴۰۰ , ۵۰۰ , ۶۰۰ , ۷۰۰ , ۸۰۰ , ۹۰۰

صد ، دویست ، سیصد ، چهارصد ، پانصد ، ششصد ، هفتصد ، هشتصد ، نهصد

اکنون برای درست کردن عددهای مختلف می‌توانیم از یکان، دهگان و صدگان استفاده کنیم.

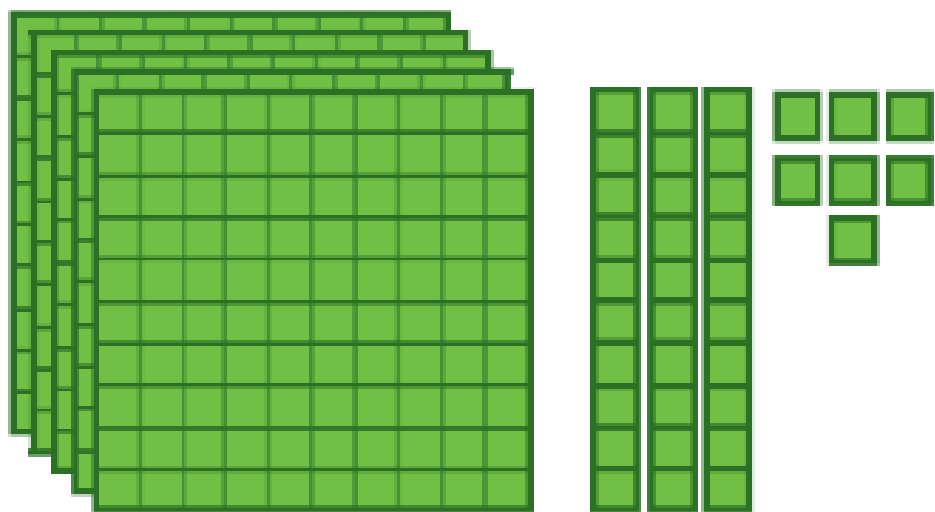




صدگان	دهگان	یکان
۳	۵	۲

۳۵۲

سیصد و پنجاه و دو



صدگان	دهگان	یکان
۵	۳	۷

۵۳۷

پانصد و سی و هفت

عددی را که هر شکل نشان می‌دهد، در جدول قرار دهید و سپس با رقم و حروف بنویسید.



صدگان	دهگان	یکان
۲	۰	۳

۲۰۳

دویست و سه



صدگان	دهگان	یکان
۳	۴	۰

۳۴۰

سیصد و چهل