



موضوع:

تاریخ

نام و نام خانوادگی

هدف:

پایه دوم






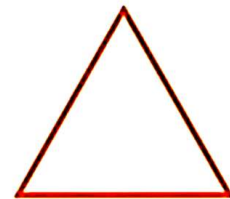
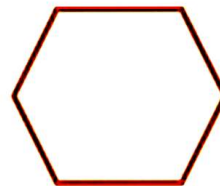
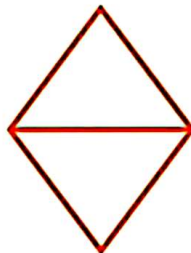

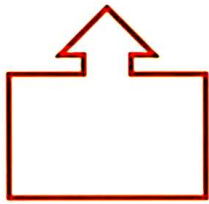
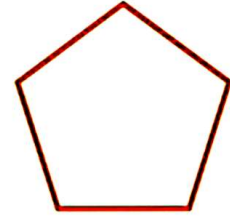

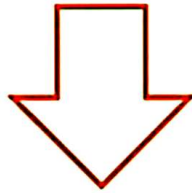
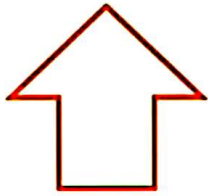
دبستان

کاربرگ تقارن

آموزگار:

نام و نام خانوادگی:

خط تقارن هر شکل را بکش





موضوع:

تاریخ

نام و نام خانوادگی

هدف:

پایه دوم

دبستان

کاربرگ الگویابی فصل ۳

آموزگار:

نام و نام خانوادگی: _____

الگویابی اعداد را ادامه بده .

۱۲ - ۱۴ - ۱۶ - - - - -

 +۲ +۲ +۲

۲۲ - ۲۹ - ۳۶ - - - - ۶۴ - - - - ۹۲

 +۷ +۷ +۷

۳۰ - ۳۵ - - - - -

 +۵ +۵ +۵

۱۱ - ۲۰ - - - - -

 +۹ +۹ +۹

۳ - ۴ - ۶ - - - - -

 +۱ +۲ +۳ +۴ +۵ +۶
 +۱ +۱

۸ - ۱۳ - ۱۹ - - - - -

 +۵ +۶ +۷ +۸ +۹ +۱۰
 +۱ +۱

۱۰ - ۱۲ - ۱۶ - - - - -

 +۲ +۴ +۶ +۸ +۱۰ +۱۲
 +۲ +۲