



فصل چهارم

معرفی عددهای سه رقمی



۳- سکه‌ی زیر را با چند تا سکه‌ی ۱۰۰ ریالی و چند تا سکه‌ی ۱۰ ریالی می‌توان عوض کرد؟
سکه‌ی ۱۰۰ ریالی ۲ و سکه‌ی ۱۰ ریالی ۵



	
۲	۵


۴- پدر علی ۵۶۴ ریال به او داده است. با توجه به شکل سکه‌ها، جاهای خالی را کامل کنید.



$$۵۶۴ = ۵۰۰ + ۶۰ + ۴$$

۵- دبستان شما حدوداً چند دانش‌آموز دارد؟

به عدد: ۲۹۰ به حروف: دویست و نود



یک دیوار با کاشی‌هایی به شکل روبه‌رو کاشی‌کاری شده است. شما ۴ رنگ انتخاب کنید. فقط با استفاده از این ۴ رنگ تمام کاشی‌ها را رنگ کنید. طوری که هیچ دو کاشی کنار یک‌دیگر، هم‌رنگ نباشند.

مرور فصل



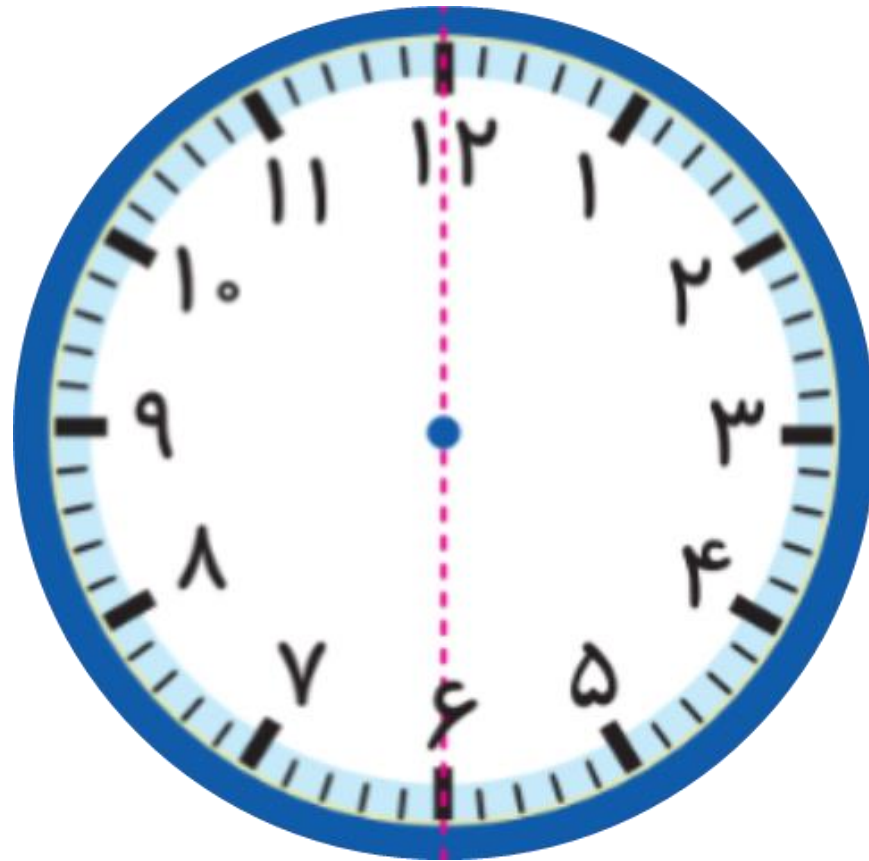
سوم



کتاب ریاضی

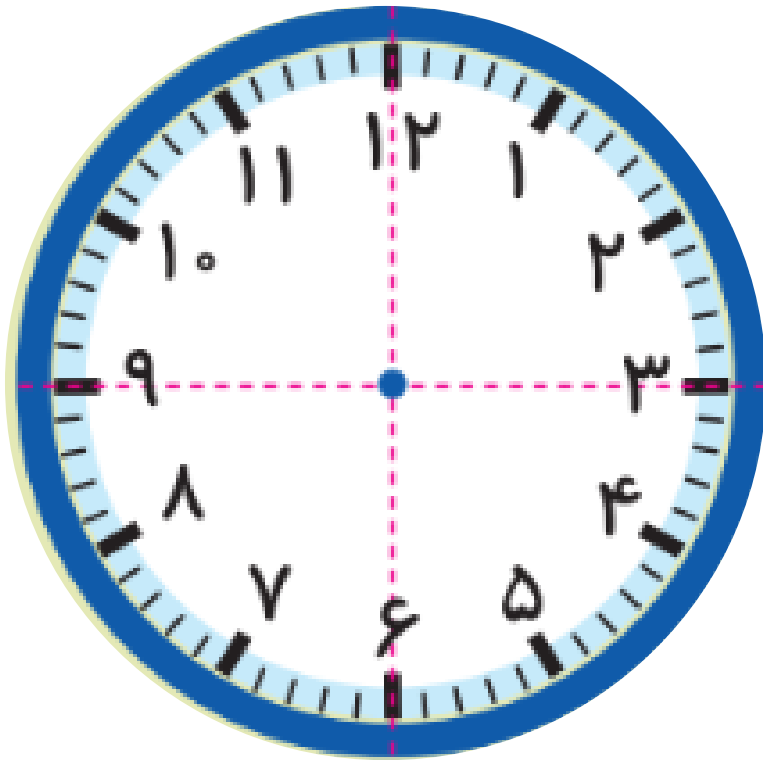
تقارن دو قسمتی در ساعت

که به هر کدام از این قسمت ها نیم می گویند، که برابر ۳۰ دقیقه است.

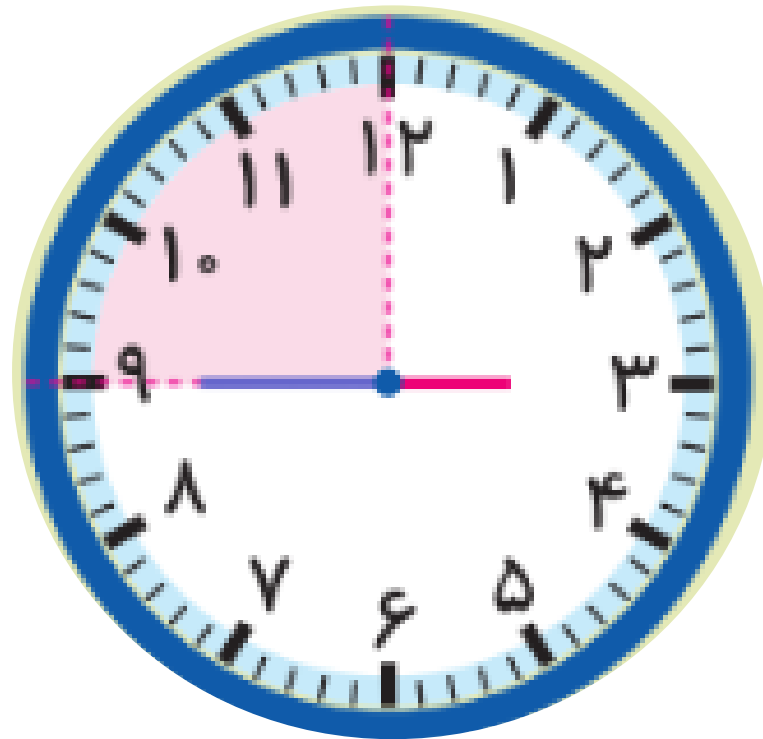


تقارن چهار قسمتی در ساعت

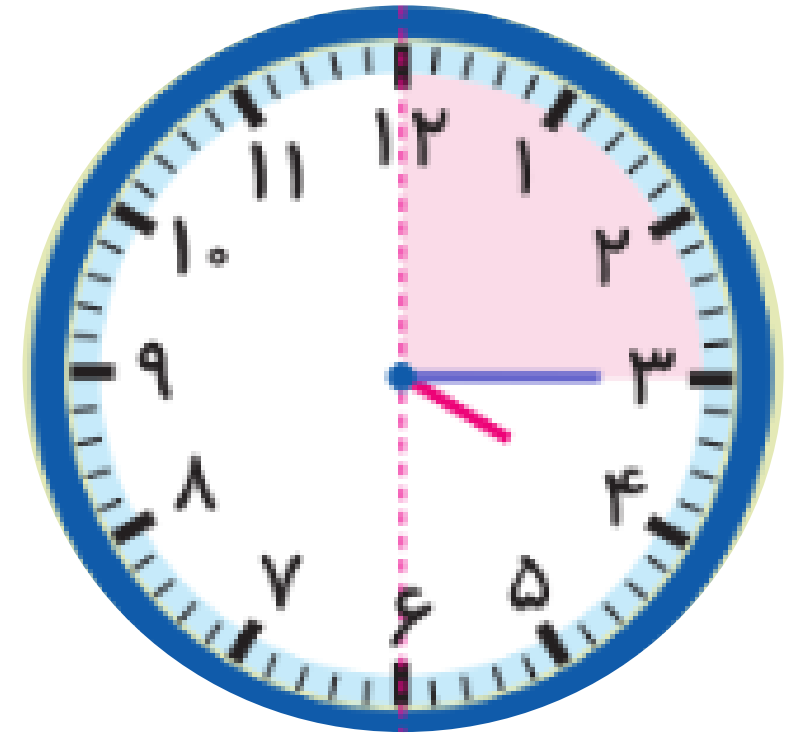
که به هر کدام از این قسمت های مثل هم ربع می گویند، که برابر ۱۵ دقیقه است.



تقارن ۴ قسمتی



یک ربع مانده



یک ربع گذشته

۴. زمان هر ساعت را بنویسید.



.....

.....

.....

.....



یک ربع از ۱۱ گذشته

نیم ساعت از ۱۲ گذشته

یک ربع مانده به ۴

۴. زمان هر ساعت را بنویسید.



یک ربع مانده به ۴

ده و نیم

هشت و ربع

یک ربع مانده به ۲



یک ربع از ۱۱ گذشته



نیم ساعت از ۱۲ گذشته



یک ربع مانده به ۴

۴. زمان هر ساعت را بنویسید.



یک ربع مانده به ۴.

ده و نیم.....

ده و ربع.....

یک ربع مانده به ۲.



یک ربع از ۱۱ گذشته

نیم ساعت از ۱۲ گذشته

یک ربع مانده به ۴