

ق ا ب



فصل ۴

۱۰۰

عددهای سه رقمی



آیا می‌دانید؟ دسته‌های پول در بانک به صورت صدایی بسته بندی می‌شوند. در تصویر برای مثال ۱۰۰ اسکناس ۱۰۰ تومانی در یک بسته دیده می‌شود.

به نام خداوند بخشنده و مهربان

فصل سوم عددهای سه رقمی

آموزگار: خانم خاکسار

دبستان و پیش دبستان علوی

صفحه ی ۶۲



۱- با سه کارت که روی آن‌ها رقم‌های ۲ و ۳ و ۵ نوشته شده است، تمام عددهای سه رقمی را که می‌توان ساخت، درست کنید و مانند نمونه بنویسید. چند عدد سه رقمی درست شد؟



۲۳۵_

۱- با سه کارت که روی آن‌ها رقم‌های ۲ و ۳ و ۵ نوشته شده است، تمام عددهای سه رقمی را که می‌توان ساخت، درست کنید و مانند نمونه بنویسید. چند عدد سه رقمی درست شد؟



۲۳۵_ ۲۵۳- ۳۲۵- ۳۵۲- ۵۲۳- ۵۳۲

۲- حالا با سه کارت که روی آن‌ها رقم‌های ۷ و ۰ و ۹ نوشته شده است، تمام عددهای سه رقمی را که می‌توان ساخت، درست کنید.



این بار چند عدد سه رقمی درست شد؟
در هر دو حالت ۳ کارت داشتیم. چرا تعداد عددهای سه رقمی کمتر از مسئله‌ی قبلی است؟

۲- حالا با سه کارت که روی آنها رقم‌های ۷ و ۰ و ۹ نوشته شده است، تمام عددهای سه رقمی را که می‌توان ساخت، درست کنید.



۹۰۷ - ۷۰۹ - ۷۹۰ - ۹۷۰

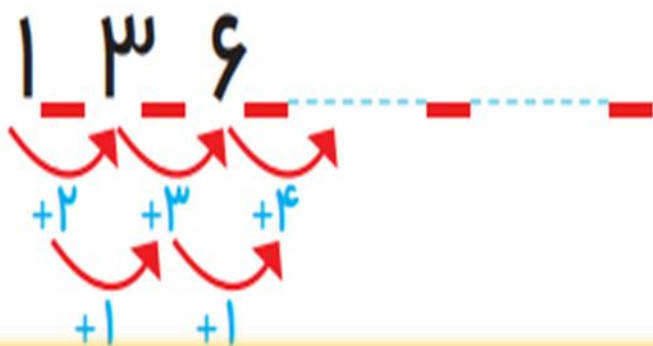
این بار چند عدد سه رقمی درست شد؟ ۴ عدد

در هر دو حالت ۳ کارت داشتیم. چرا تعداد عددهای سه رقمی کمتر از مسئله‌ی قبلی است؟

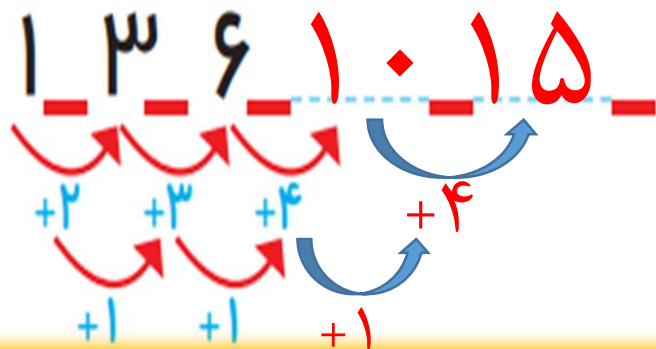



چون رقم صدگان نمی‌تواند صفر باشد و صفر قبل از عدد خوانده نمی‌شود.

الگویابی کن

۱- الگوها را ادامه دهید.



الگوهای عددی



۲- هر شکل از چند کاشی مربع درست شده است؟ الگوی آن را ادامه دهید.



۱ ۴

— — — — —

۲- هر شکل از چند کاشه مربعی شکل درست شده است؟ الگوی آن را ادامه دهید.

