

۸ تمام اعداد دو رقمی که با رقم‌های ۵ و ۳ می‌توان ساخت را بنویس.
 ۱۵ ۵۳ ۳۳ ۵۵ ۵۰ ۳۰

۹ خانه‌های خیابانی که برنا در آن زندگی می‌کند از ۱ تا ۲۴ شماره گذاری شده‌اند. رقم ۲ چند بار در پلاک این خانه‌ها استفاده شده است؟
 ۱ ۲ ۳ ۴ ۵ ۶ ۷ ۸ ۹ ۱۰ ۱۱ ۱۲ ۱۳ ۱۴ ۱۵ ۱۶ ۱۷ ۱۸ ۱۹ ۲۰ ۲۱ ۲۲ ۲۳ ۲۴

۱۰ با توجه به عددهای داده شده، دسته‌های ده‌تایی و یکی را از صفحه‌ی آخر کتاب کار علوی جدا کن و در جای خالی بچسبان و عدد به دست آمده را در جدول ارزش مکانی قرار بده.

۱۳ به حروف: سیزده

ده تایی	یکی
۱	۳

۲۷ به حروف: هفتاد و هفت

ده تایی	یکی
۲	۷

۱۱ با توجه به سوالات داده شده، گزینه‌ی صحیح را انتخاب کن.

الف: عدد ۴۷ چند ده‌تایی و چند یکی دارد؟

- (۱) ۷ ده‌تایی و ۴ یکی
- (۲) ۴ ده‌تایی و ۷ یکی
- (۳) ۴ ده‌تایی و ۷ ده‌تایی
- (۴) ۷ یکی و ۴ یکی

ب: اعداد قبل و بعد عدد ۶۸ کدام است؟

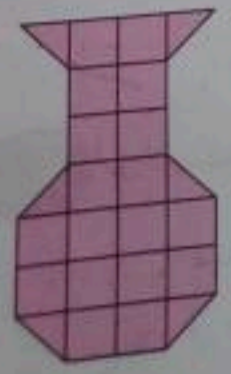
- (۱) ۶۷ - ۶۹
- (۲) ۶۶ - ۶۹
- (۳) ۶۹ - ۷۰
- (۴) ۶۵ - ۶۹

پ: درنا ۷۰ شاخه گل داشت و آن‌ها را به صورت دسته ده‌تایی درست کرده بود. امروز ۲ دسته از گل‌ها را فروخت. حالا برای درنا چند دسته گل باقی مانده است؟

- (۱) ۵۰ دسته
- (۲) ۵ شاخه
- (۳) ۵ دسته
- (۴) ۴۰ دسته

ت: شکل زیر را با چند مربع کوچک هم‌اندازه که بعضی‌هایشان را نصف کرده‌ایم، ساخته‌ایم. برای ساختن این شکل چند مربع استفاده کرده‌ایم؟

- (۱) ۱۹
- (۲) ۲۰
- (۳) ۲۱
- (۴) ۲۴



۱۴۰۲ / ۱۰ / ۰۱


حاصل جمع و تفریق‌ها را با روش‌های خواسته شده پیدا کن.

شکل $۱۳ - ۶ = \boxed{۷}$

چوب‌خط $۸ + ۲ = \boxed{۱۰}$

۸ با توجه به سوالات داده شده، گزینه‌ی صحیح را انتخاب کن.

الف: کدام عبارت مربوط به محور زیر است؟



$۵ + ۴$ (۴)

$۴ + ۵$ (۳)

$۹ - ۴$ (۲)

$۹ - ۵$ (۱)

ب: اژدهایی سه سر داشت و هر بار که یکی از سرهایش بریده می‌شد، سه سر به جای آن سر درمی‌آورد. جنگجویی یکی از سرهای اژدها را برید و سپس یکی دیگر از سرها را هم برید. حالا اژدها چند سر دارد؟

۶ (۳)

۵ (۲)

۴ (۱)

۸ (۵)

۷ (۴)

پ: این صفحه پرتاب‌های احمد است. احمد چند امتیاز می‌گیرد؟

امتیاز ۲۳ (۳)

امتیاز ۱۳ (۲)

امتیاز ۲۰ (۱)

امتیاز ۱۷ (۵)

امتیاز ۱۹ (۴)

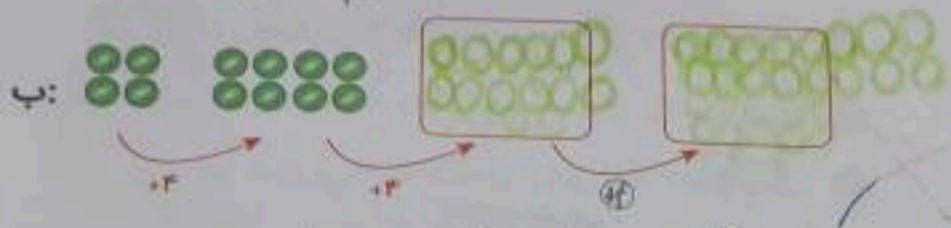
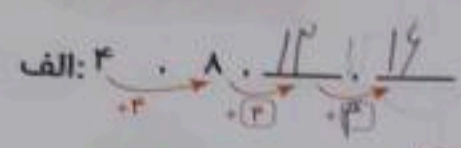


زنگ تفریح

به جای علامت سؤال چه عددی قرار می‌گیرد؟

۵	۸			
۹	۷	۶		
	۷	۹	۸	
		۸	؟	۹
			۹	۷

۸ الگوهای زیر را ادامه بده.



پ: ۳۵، ۴۰، ۴۵، ۵۰، ۵۵، ۶۰، ۶۵

ت: ۱۹، ۲۱، ۲۳، ۲۵، ۲۷، ۲۹، ۳۱



۹ در هر مربع شکل مقابل، جمع عددهای دو مربع پایینش را می‌نویسیم. در مربعی که علامت سؤال دارد، چه عددی را باید بنویسیم؟

۱۰ در یک باغ افسانه‌ای، درخت‌های سیبی وجود دارند که سیب‌های طلایی می‌دهند. هر روز روی هر درخت پنج سیب طلایی می‌رسند و در پایان روز از درخت می‌افتند. امروز باغبان باغ، بیست سیب رسیده را که دیشب از درخت‌ها افتاده‌اند، جمع کرده است. چند درخت افسانه‌ای در این باغ وجود دارد؟

۱۱ ۶ جعبه‌ی قرمز داریم. در هر جعبه‌ی قرمز ۴ مداد وجود دارد. ۳ جعبه‌ی آبی نیز داریم. در هر جعبه‌ی آبی ۲ مداد وجود دارد. روی هم چند مداد داریم؟

$$4 + 4 + 4 + 4 + 4 + 2 + 2 + 2 + 2 = 30$$

۱۲ با توجه به سوالات داده شده، گزینه‌ی صحیح را انتخاب کن.

الف: در شمارش ۸ تا ۸ تا، بعد از عدد ۳۲ کدام عدد است؟

- ۴۰ (۱)
- ۳۸ (۲)
- ۴۵ (۳)
- ۵۰ (۴)

ب: درنا ۶ دسته‌ی ده تایی و ۸ مداد رنگی دارد اگر مادرش ۲ دسته‌ی ده تایی و ۱ مداد رنگی به او بدهد، او چند مداد رنگی دارد؟

- ۹۸ (۱)
- ۸۹ (۲)
- ۸۸ (۳)
- ۸۶ (۴)