


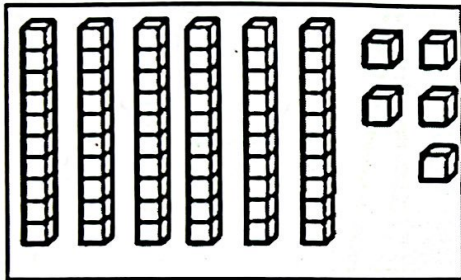
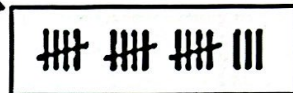
به نام خدا
نمونه سوالات فصل اول ریاضی پایه دوم دبستان



۱- بشمار و تعداد هر کدام را به عدد و حروف بنویس.

به عدد: ۱۹
به حروف: نوزده

به عدد: ۱۸
به حروف: هجده



به عدد: ۴۵
به حروف: شصت و پنج

به عدد: ۸
به حروف: هشت



۲- جدول شگفت انگیز زیر را کامل کن، سپس به سوالات زیر پاسخ بده.

چپ

راست

۳	۶	۵	۴	۷	۲	۱	۹	۸
۴	۲	۹	۸	۵	۱	۶	۳	۷
۷	۸	۱	۶	۹	۳	۲	۵	۴
۱	۷	۴	۳	۶	۵	۸	۲	۹
۸	۳	۲	۷	۱	۹	۵	۴	۶
۵	۹	۶	۲	۸	۴	۳	۷	۱
۲	۴	۷	۱	۳	۶	۹	۸	۵
۶	۵	۸	۹	۲	۷	۴	۱	۳
۹	۱	۳	۵	۴	۸	۷	۶	۲

○ این جدول چند ردیف دارد؟..... ۹


○ این جدول چند ستون دارد؟..... ۹

○ این جدول از چند مربع کوچک درست

شده است؟..... ۹


○ ستون چهارم از سمت راست را آبی کن.

۳- زمان پخش یک برنامه کودک مورد علاقات را در این ساعت نشان بده.




بچه دلخواه دانش آموز

۴- کامل کن.



ساعت از ۱۱ گذشته است. ساعت ۱۰ است. کمی به ساعت ۹ مانده است. ساعت بین ۱۱ و ۱۲ است.

۵- الگوها را کامل کن.

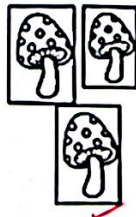


۶- فردا که به مدرسه می روی پلاک هایی که در کوچه تان می بینی یادداشت کن و اینجا بنویس.

بچه عهده دانش آموز



ده تایی



یکی


ده تایی	یکی
۱	۳

۷- کامل کن.

به عدد: ۱۳
به حروف: سیزده



۸- با رقم های ۹ و ۴ هر چه می توانی عدد ۲ رقمی بنویس.

یعنی تکرار داریم



چهار عدد ۲ رقمی
۴۴ - ۴۹
۹۴ - ۹۹

۹- الگوها را با رنگ کردن ادامه بده.



۱۰- در این جدول چند کلمه اشتباه و چند کلمه درست نوشته شده است؟ خانه های درست را رنگ

چاغ	خروس	زهدت	سپاس	خواندن
			گزاریم	
غورباقه	محمد		فصل	پاییز
مریض	حیات		جیق	کلاغ
شعار	ازیز		ثدف	مزرعه

بزن.

۹..... کلمه نادرست

۸..... کلمه درست

حالا با این دو رقم هر چه می توانی عدد دو

رقمی بنویس. ۹۹ - ۹۸ - ۸۹ - ۸۸

۱۱- نوشتن عددها را ادامه بده.

