

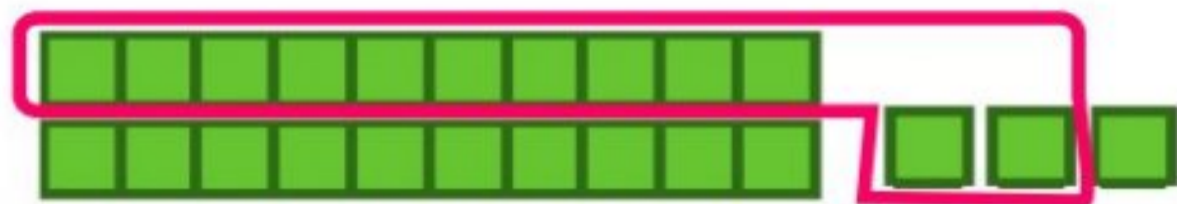
فصل اول

حل مسئله با رسم شکل




۱- علی ۲۳ تا کتاب دارد. ۱۲ تا از آن‌ها کتاب داستان و بقیه کتاب علمی است. علی چند کتاب علمی دارد؟

(در این جا به جای کتاب از مربع استفاده کرده ایم.)



علی ۱۱ کتاب علمی دارد.

۲- زهرا ۳۷ عکس دارد. ۲۳ تا از عکس‌ها رنگی و بقیه سیاه و سفید هستند. زهرا چند عکس سیاه و سفید دارد؟



زهرا ۱۴ عکس سیاه و سفید دارد.


۳- شکل زیر چه عددی را نشان می‌دهد؟ با رسم شکل پنجمین عدد بعد از آن را بنویسید. ۱۳



حدس بزن

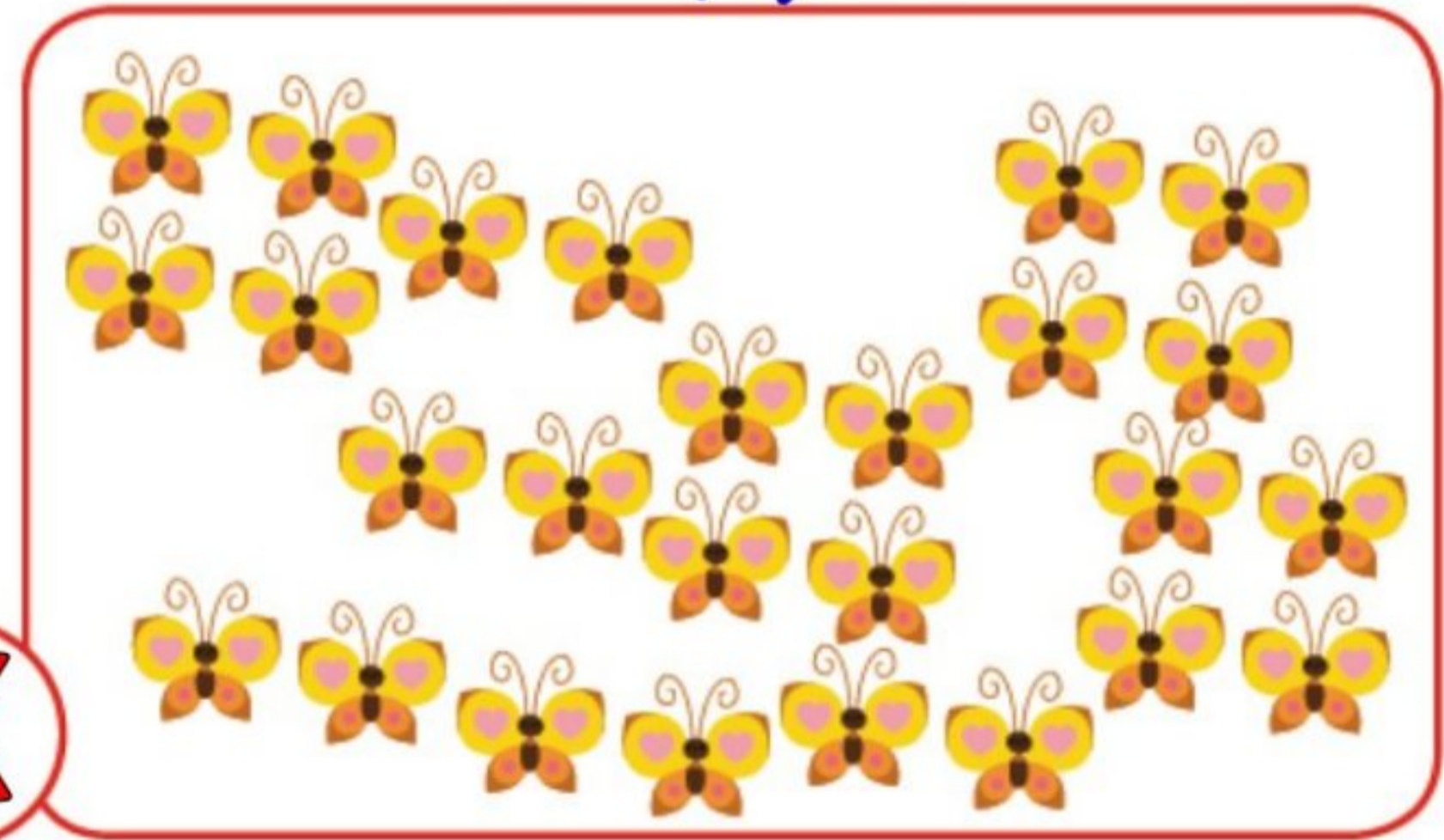
در کدام قسمت تعداد شکل‌ها بیشتر از ۲۰ تا است؟ ✕ بزنید.

۱۹



۲۶

✕



حالا شکل‌ها را بشمارید. آیا حدس شما درست بود؟ **بله**

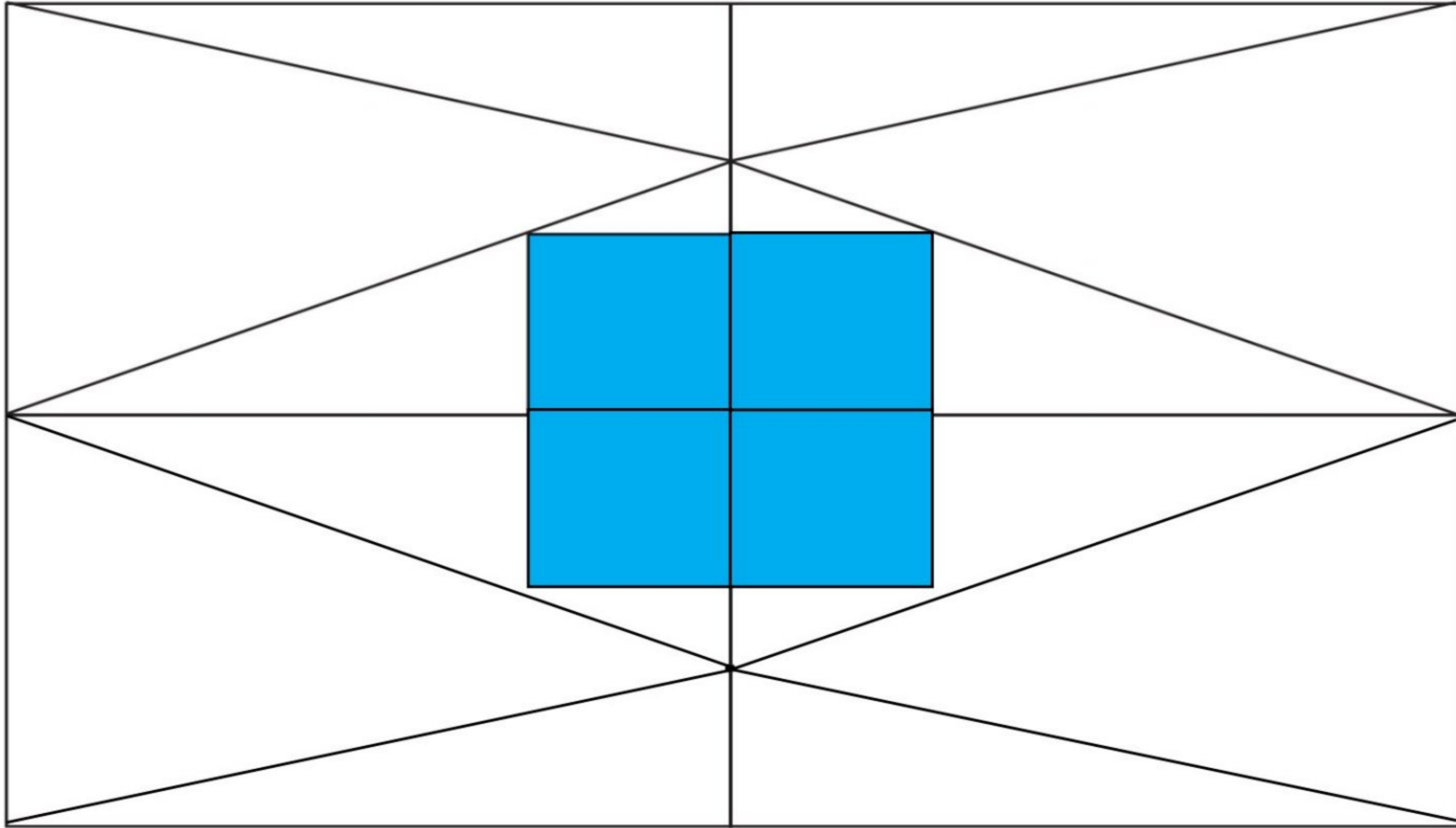
۱- امروز روز هفتم ماه است. ۸ روز بعد، چه روزی از ماه است؟ ۱۵ ماه است.




۲- سینا ۱۲ کتاب دارد. امروز ۵ تا کتاب دیگر خرید. حالا چند کتاب دارد؟ ۱۷ کتاب دارد.



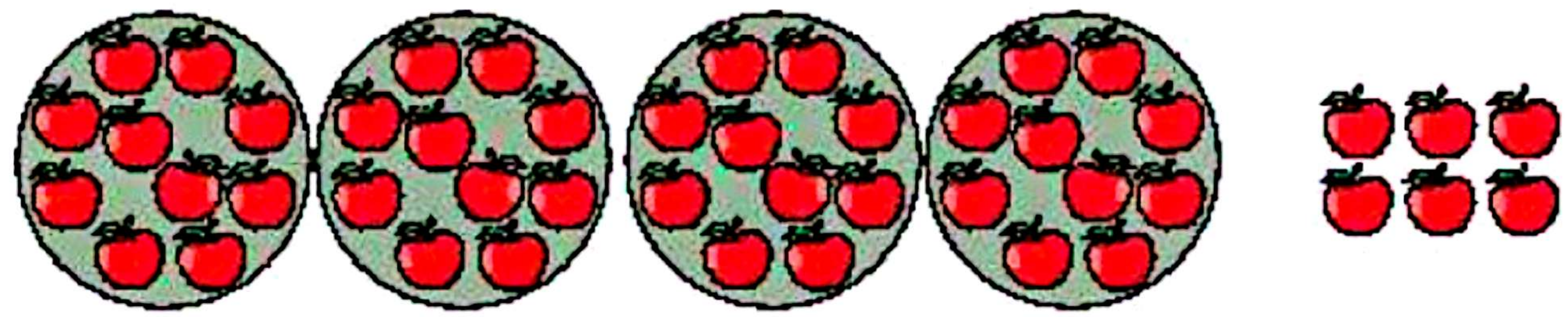
سه قسمت دیگر شکل را مانند قسمت داده شده با خط کش یا شابلون کامل کنید؛ طوری که اگر شکل را از روی خط‌ها تا کنیم، قسمت‌های چپ و راست یا بالا و پایین روی هم بیفتند.



فصل اول



با توجه به شکل‌ها، جدول و جاهای خالی را پر کن.



ده‌تایی	یکی
۴	۶

به رقم: ۴۶

به حروف: چهل و شش



ده‌تایی	یکی
۲	۶

به رقم: ۲۶

به حروف: بیست و شش

۲

جاهای خالی را کامل کن.

۳۵ برابر است با ۵ یکی و ۳ دهتایی

۸۳ برابر است با ۳ یکی و ۸ دهتایی

۴۰ برابر است با ۰ یکی و ۴ دهتایی

۶۴ برابر است با ۴ یکی و ۶ دهتایی

۷۷ ۷ یکی و ۷ دهتایی می شود

۸۹ ۹ یکی و ۸ دهتایی می شود

۵۰ ۰ یکی و ۵ دهتایی می شود

۳۶ ۶ یکی و ۳ دهتایی می شود

دور رقم یکان هر عدد خط بکش و جاهای خالی را کامل کن.

۲

رقم یکان عدد۵۰.....، صفر است.

رقم یکان عدد۳۶.....، ۶ است.

۳۶	۴۷	۴۵
۶۴	۷۲	۵۰

الف: عدد ۶۳ چند رقم دارد؟ دو رقمهای آن ۳ و ۶ می باشد.

۴

ب: با رقمهای عدد ۶۳ چند عدد دو رقمی دیگر می توانی بنویسی؟ ۳ عدد
۳۳ - ۶۶ - ۳۶

تمام عددهای دو رقمی که با کارت های ۵، ۰، ۹ می توان نوشت را، بنویس.

۵

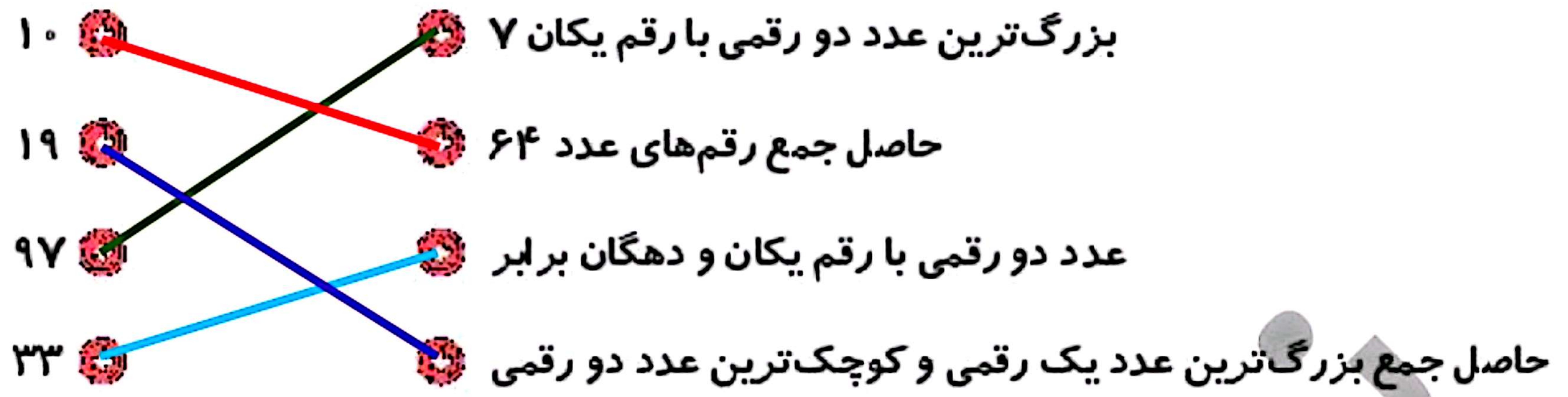
۵۰ - ۹۰ - ۵۹ - ۹۵

۶


عددی دورقمی بنویس که یکانش ۷ و دهگانش ۴ تا از یکانش کمتر باشد. ۳۷

۱


هر عبارت را به پاسخ صحیح آن وصل کن.



۲ درستى  و نادرستى  هر عبارت را مشخص کن.

الف: عدد دو رقمی که رقم یکان آن ۹ و دهگان آن ۳ باشد می شود  ۳۹.

ب: عدد ۵۶ یک عدد دو رقمی است و رقم یکان آن ۵ است. 

پ: سه دسته‌ی ده تایی به اضافه چهار دسته‌ی ده تایی می شود ۷ دسته‌ی ده تایی. 

جاهای خالی را کامل کن.

۲

الف: عدد ۵۲... دو... رقم دارد.

ب: کوچک‌ترین عدد دو رقمی که رقم یکان آن ۲ باشد... ۱۳... است.

۴ من چه عددی هستم، یکانم کوچک‌ترین عدد یک رقمی و دهگانم بزرگ‌ترین عدد یک رقمی است؟

۹۰

۵ دور رقم دهگان هر عدد خط بکش و جاهای خالی را کامل کن.

الف: رقم دهگان عدد **۴۲**، ۴ است.

ب: رقم دهگان عدد **۹۳**، ۹ است.



۶ چند عدد بیش تر از ۱۰، کم تر یا مساوی ۱۰ وجود دارند که فقط با رقم های ۱، ۲ و ۳ ساخته شده باشند؟ (می توانید از

رقم ها به صورت تکراری هم استفاده کنید.)

۱۱ - ۱۲ - ۱۳ - ۲۱ - ۲۲ - ۲۳ - ۳۱

۷ با کارت‌های ۳، ۴، ۶ چند عدد دو رقمی می‌توان نوشت؟ آنها را بنویس.

۳۳ - ۳۶ - ۴۳ - ۴۶ - ۶۳ - ۶۴

۸ تمام اعداد دو رقمی که با رقم‌های ۰، ۵ و ۲ می‌توان ساخت را بنویس.

۹ خانه‌های خیابانی که برنا در آن زندگی می‌کند از ۱ تا ۲۴ شماره‌گذاری شده‌اند، رقم ۲ چند بار در پلاک این خانه‌ها استفاده شده است؟