

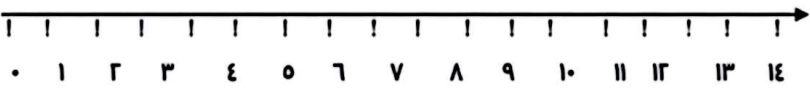



موضوع:

تاریخ:

نام و نام خانوادگی:

هدف:

<p>عددهای زیر را به رقم یا حروف بنویس.</p> <p>○ هفتاد و سه ۸۰</p> <p>○ شصت و پنج ۴۱</p>				
<p>عدد ۳۲ چند رقم دارد؟</p> <p>رقم های آن را نام ببر و.....</p> <p>با رقم های آن چند عدد دو رقمی دیگر می توانی بنویسی</p>				
<p>حاصل عبارت رو به رو را با استفاده از محور به دست بیاور .</p> <p>$۹+۵-۳ =$</p> 				
<p>با رقم های « ۳ و ۶ و ۰ » چند عدد دو رقمی می توانی بسازی بنویس .</p> <p>.....</p>				
<p>با دو کارت ۸ و ۹ چند عدد دو رقمی می توانی بسازی بنویس .</p> <p>.....</p>				
<p>عبارت های زیر را به صورت ذهنی انجام بده .</p> <p>$۵+۱۰+۵+۱۰ =$</p> <p>$۳+۲+۲۰+۱۰+۲۰ =$</p>				
<p>عدد مربوط به هر شکل را در جدول بنویس و جای خالی را کامل کن .</p>  <table border="1" data-bbox="454 1612 606 1736"> <tr> <td>ده تایی</td> <td>یکی</td> </tr> <tr> <td> </td> <td> </td> </tr> </table> <p>با عدد :</p> <p>با حروف :</p>	ده تایی	یکی		
ده تایی	یکی			
<p>الگوها را ادامه بده .</p> <p>$۱۵ - ۲۰ - - - -$</p> <p>$۶۷ - ۷۰ - ۷۳ - - -$</p>				

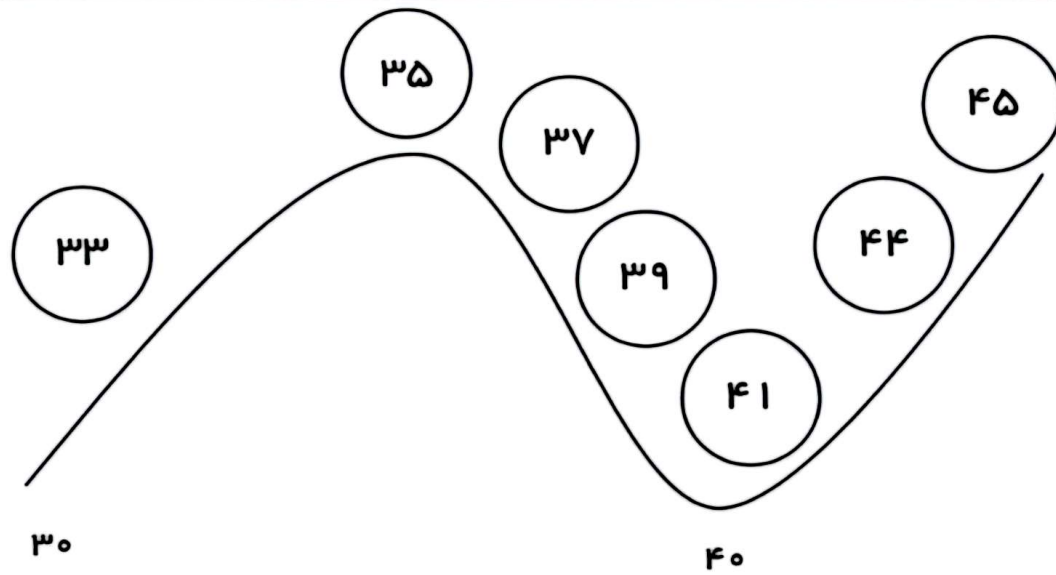


موضوع:

تاریخ:

نام و نام خانوادگی:

هدف:



با توجه به محور بالا به سوالات زیر جواب بده ؟

۴۴ به چه عددی نزدیک تر است؟ _____

۳۹ به چه عددی نزدیک تر است؟ _____

۳۵ به چه عددی نزدیک تر است؟ _____

۴۱ به چه عددی نزدیک تر است؟ _____

اعداد زیر را تقریب بزن .

۲۱	→		۷۶	→	
۵	→		۵۵	→	
۱۴	→		۴۳	→	
۳۷	→		۲۹	→	
۲۵	→		۴۸	→	