



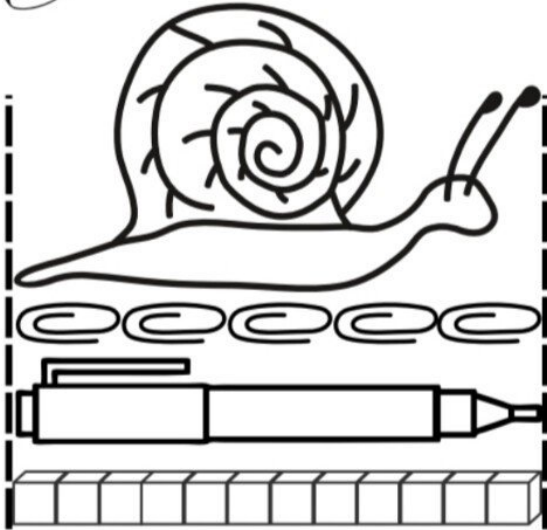
موضوع:

تاریخ:

نام و نام خانوادگی:

هدف:

۱. اندازه گیری طول این حلزون را که با وسایل مختلف اندازه گیری شده است را بیان کنید.




طول حلزون ..... گیره است.

طول حلزون ..... مداد نوکی است.

طول حلزون ..... چینه است.


چرا برای طول حلزون، عدد های مختلفی به دست آمد؟

۲- طول ساعت با واحد های مختلفی اندازه گیری شده است. اندازه طول ساعت را با پر کردن جاخالی نشان بده.



طول ساعت بین ..... گیره و ..... گیره است.  
یعنی از ..... گیره بیشتر است ولی به ..... گیره نمی رسد.

طول ساعت بین ..... گل و ..... گل است.  
یعنی از ..... گل بیشتر است ولی به ..... گل نمی رسد.



طول ساعت بین ..... چینه و ..... چینه است.  
یعنی از ..... چینه بیشتر است ولی به ..... چینه نمی رسد.



Blank lines for writing answers.

