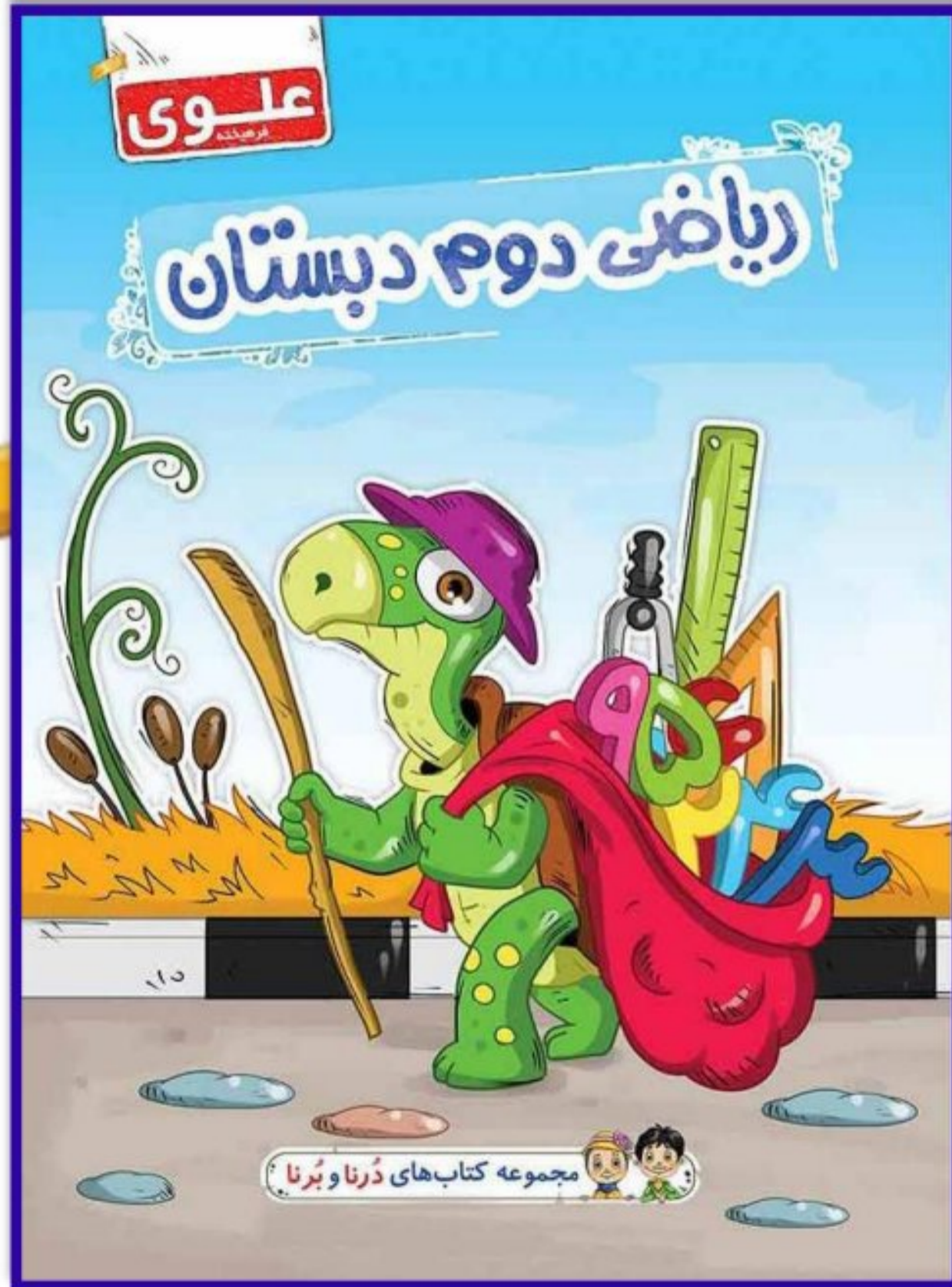


# فصل ششم



درس سوم



جمع اعداد سه رقمی



در جدول ارزش مکانی

هر عبارت را به پاسخ صحیح آن وصل کن.

۱



عدد ۱۵۴ را با کدام عدد جمع کنیم تا حاصل ۵۹۸ شود.   



حاصل جمع عدد ۱۴۴ با عدد ۲۳۲  

اگر عدد به ۳۵۸ یک دسته ۱۰۰ تایی و دو دسته ۱۰ تایی اضافه کنیم عدد حاصل .....  

درستی  و نادرستی  هر عبارت را مشخص کن.

۲

الف: ۲۹۰ می شود ۲۹ دسته‌ی صدتایی  

ب: ۱۵ دسته‌ی ده‌تایی می شود ۱ دسته‌ی صدتایی و ۵ ده‌تایی.  

پ: ۱۸۰ می شود ۱ دسته‌ی صدتایی و ۸ ده‌تایی.  

جاهای خالی را پر کن.

۲

الف: ۲۰ سکه‌ی ده ریالی می‌شود ..... ۲ سکه‌ی صد ریالی

ب: ۱۱ سکه‌ی ده ریالی می‌شود ..... ۱۱۰ سکه‌ی یک ریالی

پ: ۴۷ برابر است با ..... ۳ ده‌تایی و ۱۷ یکی

حاصل هر عبارت را بنویس.

۴

$$\text{الف: } ۴۰۰ + ۲۰۰ + ۳ = \dots\dots\dots ۶۰۳$$

$$\text{ب: } ۱۰۰ + ۳۰۰ + ۷ + ۵۰ = \dots\dots\dots ۴۵۷$$

$$\text{پ: } ۳۰۰ + ۲۰ + ۲ = \dots\dots\dots ۳۲۲$$

$$\text{ت: } ۲۰۰ + ۱۰۰ + ۳۰ + ۲۰ = \dots\dots\dots ۳۵۰$$

۵ دانش آموزان دبستان علوی در روز درختکاری به ۲ گروه تقسیم شدند و هر گروه ۳۱۵ نهال کاشتند. جمعاً در این روز

چند نهال کاشته شده است؟

$$\begin{array}{r} ① \\ 315 \\ +315 \\ \hline 630 \end{array}$$

۶۳۰ نهال کاشته است.

۶ درنا ۶۸۷ ریال پول دارد، اگر ۱۳۰ ریال دیگر بگیرد، جمع پولهایش چقدر می شود؟

$$\begin{array}{r} ① \\ 687 \\ +130 \\ \hline 817 \end{array}$$

پول درنا ۸۱۷ ریال می شود.

$$\begin{array}{r} \textcircled{1} \\ ۲۳۸ \\ +۱۵۹ \\ \hline ۳۹۷ \end{array}$$

$$\begin{array}{r} \textcircled{1} \textcircled{1} \\ ۳۹۶ \\ +۲۷۷ \\ \hline ۶۷۳ \end{array}$$

$$\begin{array}{r} \textcircled{1} \\ ۱۰۸ \\ +۲۰۷ \\ \hline ۳۱۵ \end{array}$$

حاصل جمع‌های زیر را پیدا کن.

$$\begin{array}{r} \textcircled{1} \textcircled{1} \\ ۵۲۷ \\ +۸۹ \\ \hline ۶۱۶ \end{array}$$



۸ برای شکل زیر یک جمع بنویس و با دسته‌بندی روی شکل نشان بده.



$$\begin{array}{r} 101 \\ + 568 \\ \hline 244 \\ \hline 812 \end{array}$$

۹ پدر درنا، چهار سال از مادر درنا بزرگتر است. الان پدر درنا ۲۷ ساله است. مادر درنا ۱۰ سال پیش چند ساله بود؟

۲۳ سال دارد.  $۳۷ - ۴ = ۳۳$   $۳۳ - ۱۰ = ۲۳$

۱۰ با توجه به سوالات داده شده، گزینه‌ی صحیح را انتخاب کن.

الف: عدد ۲۸۵ را با کدام یک از اعداد زیر جمع کنیم تا حاصل برابر ۵۹۳ شود؟

$$\begin{array}{r} ۸۱۳ \\ ~~۵۹۳~~ \\ - ۲۸۵ \\ \hline ۳۰۸ \end{array}$$

۲۰۷ (۴)

۲۰۷ (۳)

۳۰۸ (۲)

۳۰۹ (۱)

ب: برنایک سکه‌ی ۵۰۰ ریالی و دو سکه‌ی ۱۰۰ ریالی و یک سکه‌ی ۵۰ ریالی دارد. اگر ۱۷۰ ریال دیگر دوستش به او

بدهد، او چند ریال دارد؟

①  $۷۵۰$   
 $+ ۱۷۰$   

---

 $۹۲۰$

۴۸۵ (۴)

۹۲۰ (۳)

۵۸۰ (۲)

۶۸۰ (۱)