

# تمرین

۱ هر شکل را به عدد مربوط به آن وصل کن.

۵۳۱



۴۳۵



هفتصد و دوازده



دویست و بیست و دو



۲ درستی و نادرستی هر عبارت را مشخص کن.

الف: اگر به عدد ۵۰۴ یک دسته ۱۰۰ تایی اضافه کنیم از عدد ۶۰۲ بزرگتر است.

ب: عدد ۲۲۰ از عدد ۲۲۲ بزرگتر است.

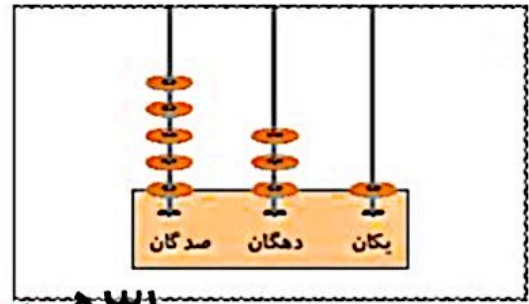
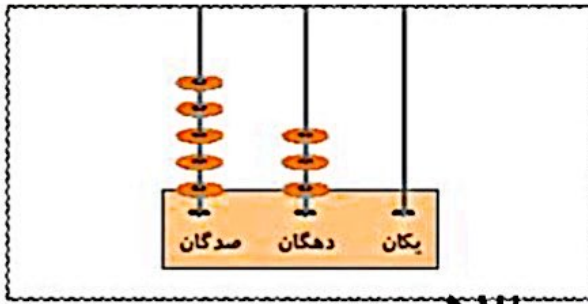
پ: رقم صدگان عدد ۴۰۵ از رقم صدگان ۴۴۰ بزرگتر است.

ت: عدد ۱۵۲ کمتر از عدد ۵۲ می باشد.

۲ عددی را که هر شکل نشان می دهد بنویس، سپس با هم مقایسه کن و علامت  $<=>$  بگذار.



# علوی



$530 < 531$

۴ هر دو عدد را با هم مقایسه کن. سپس در جای خالی علامت  $< = >$  بگذار.

الف:  $200 < 202$

ت:  $708 < 735$

ج:  $185 < 189$

ب:  $507 > 499$

ث:  $380 > 308$

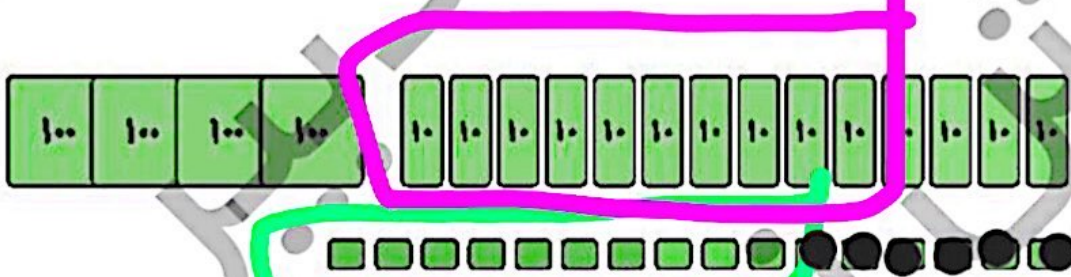
ح:  $98 < 107$

پ:  $214 < 314$

ج:  $417 > 407$

خ:  $305 > 35$

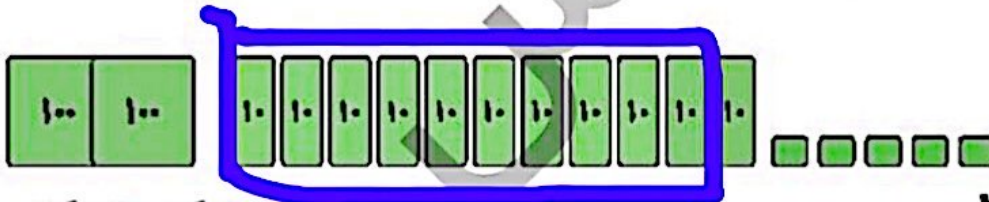
۵ تا جایی که می توانی دسته های ده تایی و صد تایی درست کن. سپس عدد مناسب را داخل جدول بنویس.



صدگان	دهگان	یکان
۵	۵	۶

به عدد: ۵۵۶

پانصد و پنجاه و شش  
به حروف: پانصد و پنجاه و شش  
ب:



صدگان	دهگان	یکان
۳	۱	۵

به عدد: ۳۱۵

سیصد و پانزده  
به حروف: سیصد و پانزده

جمع و تفریق اعداد سه رقمی ➔ فصل ششم

