



نام و نام خانوادگی: .....  
 به نام خدا  
 کاررگ ریاضی  
 کسر  
 نام دبستان: .....  
 نام آموزگار: .....  
 تاریخ: .....

۱- جاهای خالی را کامل کن.


الف. عدد ۶۳ را می توان به صورت ..... ده تایی و ..... قسمت از ۱۰ قسمت بیان کرد.

ب. عدد ۹ را می توان به صورت ..... ده تایی و ..... قسمت از ۱۰ قسمت بیان کرد.

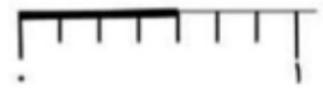
پ. ۴۱ میلی متر ..... سانتی متر و ..... قسمت از ۱۰ قسمت کوچک است.

ت. ۲ ده تایی و ۷ قسمت از ۱۰ قسمت مساوی یعنی .....

۲- چه بخشی از هر شکل رنگ شده است؟



..... قسمت از ..... قسمت مساوی ..... قسمت از ..... قسمت مساوی ..... قسمت از ..... قسمت مساوی



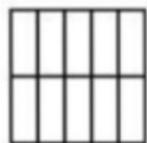
..... قسمت از ..... قسمت مساوی ..... قسمت از ..... قسمت مساوی ..... قسمت از ..... قسمت مساوی

۳- با توجه به جمله های داده شده شکل ها را رنگ بزن.

الف. ۷ قسمت از ۱۰ قسمت مساوی رنگ شده است.

ب. ۲ قسمت از ۳ قسمت مساوی رنگ شده است.

پ. ۴ قسمت از ۵ قسمت مساوی رنگ شده است.



شاد باشید