



موضوع:

تاریخ

نام و نام خانوادگی

هدف:

پسر قشنگم با دقت به سوالات زیر پاسخ بده.

$$\begin{array}{r} 245 \\ + 359 \\ \hline \end{array}$$

$$\begin{array}{r} 145 \\ + 538 \\ \hline \end{array}$$

$$\begin{array}{r} 238 \\ + 337 \\ \hline \end{array}$$

$$\begin{array}{r} 891 \\ - 359 \\ \hline \end{array}$$

$$\begin{array}{r} 752 \\ - 245 \\ \hline \end{array}$$

$$\begin{array}{r} 861 \\ - 157 \\ \hline \end{array}$$

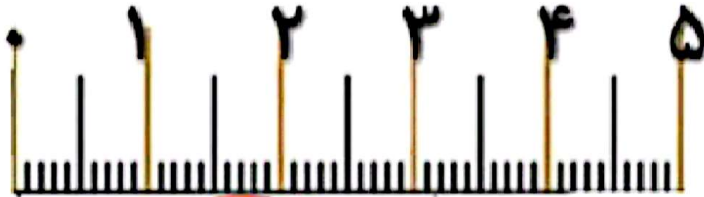


موضوع:

تاریخ:

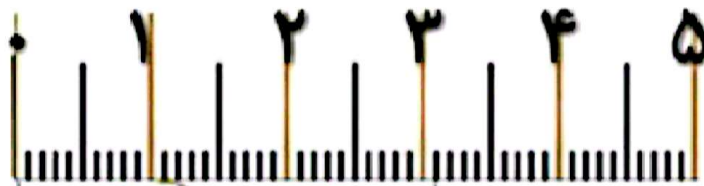
نام و نام خانوادگی:

هدف:



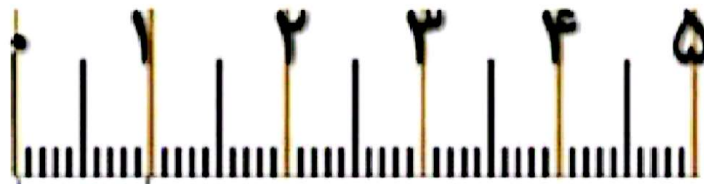
اندازه قد عنکبوت سانتی متر و میلی متر است.

یا اندازه قد عنکبوت میلی متر است.



اندازه قد پروانه سانتی متر و میلی متر است.

یا اندازه قد پروانه میلی متر است.



اندازه ی قد پشه سانتی متر و میلی متر است.

یا اندازه قد پشه میلی متر است.

بازخورد:

Blank rounded rectangular box for feedback.

