




موضوع: ریاضی

تاریخ

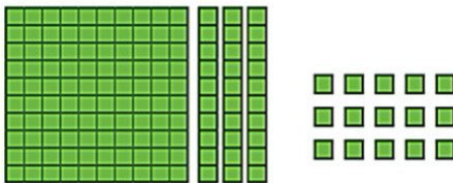
نام و نام خانوادگی

هدف: مرور آموخته‌ها

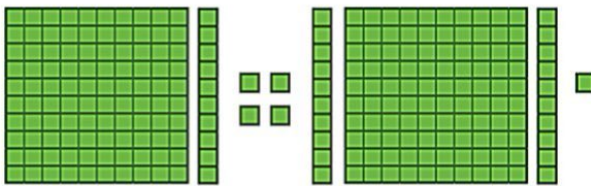
♦ ابتدا تا جای ممکن بسته‌های ده‌تایی و صدتایی بسازید سپس جدول ارزش مکانی را کامل کنید.




صدگان	دهگان	یکان
___	___	___



صدگان	دهگان	یکان
___	___	___



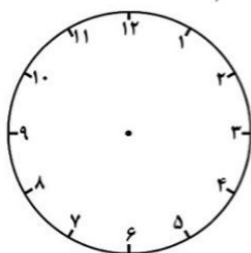
صدگان	دهگان	یکان
___	___	___



صدگان	دهگان	یکان
___	___	___

♦ دانش آموزان مدرسه ی علوی در روز درختکاری سال قبل ۱۳۱ نهال کاشتند. اگر آنها امسال هم ۲۴۵ نهال دیگر بکارند، این دانش آموزان در این دو سال چند درخت کاشته اند؟ (فرآیندی)

♦ مروارید در ساعت یک ربع مانده به پنج به کلاس شنا رفت اگر او نیم ساعت در آب



شنا کند، در چه ساعتی از آب بیرون می آید؟