


۸ میلی متر

۲۰ سانتی متر

میلی متر



حالا حساب کن

۵ سانتی

+

۲۰ میلی متر


میلی متر



سریع بگو

۹ سانتی متر و ۸ میلی متر می شود

میلی متر



۱۲ سانتی متر

و

۹ میلی متر

می شود

میلی متر



۴ تا خط ۵۰ میلی متری

می شود

یک خط  سانتی متری




۱۸۹ میلی متر

یعنی

ساعتی متر

و


میلی متر



۱۰ میلی متر یعنی




سانتی متر



سررع بگو

۹۰ میلی متر یعنی

سانتی متر



۲_ کتابی ۴۸۷ صفحه دارد. هستی ۲۰۰ صفحه ی
آن را خوانده است. چند صفحه ی دیگر باید بخواند
تا ۹۶ صفحه از آن باقی بماند؟



۴_ سارا در دو مرحله ی اول و دوم جواب دهی به سوالات معلم ۴۵۰ امتیاز گرفت. اگر او در مرحله ی دوم ۲۳۰ امتیاز گرفته باشد و در مرحله ی سوم ۱۰۰ امتیاز بگیرد. حاصل جمع امتیازات مرحله ی اول و سوم او چند امتیاز است؟



۳_ علی برای خرید یک مداد ۴۵۵ ریالی، از مادر خود یک اسکناس ۵۰۰ ریالی و دو سکه ۲۰۰ ریالی گرفت. او علاوه بر مداد، یک پاک کن ۳۰ ریالی هم خرید. چند ریال برایش باقی مانده؟



۵_ مهدی ۳۲۷ ریال پول دارد. سعید ۱۴۹ ریال
کم تر از مهدی دارد. مجموع پول مهدی و سعید
چند ریال است؟



۱_ طاها ۳ مداد و ۲ پاک کن و ۱ خط کش خرید
و ۹۰۰ ریال پرداخت. صدرا ۲ مداد و ۲ پاک کن
و ۱ خط کش از همان نوع خرید و ۸۰۰ ریال
پرداخت قیمت هر مداد چند ریال بوده است؟

