



مرور جمع و تفریق

فرآیندی، تکنیکی



۱. یک کتاب داستان ۴۹۵ صفحه دارد. سارا در هفته اول ۱۳۰ صفحه و در هفته دوم ۱۴۰ صفحه را خواند .
الف) چند صفحه را خوانده است؟

ب) چند صفحه را نخوانده است؟

۱. یک کتاب داستان ۴۹۵ صفحه دارد. سارا در هفته اول ۱۳۰ صفحه و

$$\begin{array}{r} 130 \\ + 140 \\ \hline 270 \\ + 40 \\ \hline 310 \end{array}$$

در هفته دوم ۱۴۰ صفحه را خواند.
الف) چند صفحه را خوانده است؟

۲۷۰ صفحه

$$\begin{array}{r} 495 \\ - 270 \\ \hline 225 \\ 70 \\ \hline 310 \end{array}$$

ب) چند صفحه را نخوانده است؟

۲۲۵ صفحه باقی مانده است.

۱. قد پدر درسا ۱۷۵ سال است. اگر درسا ۳۷ سانتی متر از پدرش کوتاه تر باشد. قد درسا چقدر است؟

۲. زهرا ۸ سال داشت که برادرش به دنیا آمد. حالا ۱۰ سال از آن زمان گذشته است.

الف) زهرا چند سال دارد؟

ب) برادر زهرا چند سال دارد؟

۱. قد پدر درسا ۱۷۵ سال است. اگر درسا ۳۷ سانتی متر از پدرش کوتاه تر باشد. قد درسا چقدر است؟

$$\begin{array}{r} 615 \\ \cancel{175} \\ - 37 \\ \hline 138 \end{array}$$

قد درسا ۱۳۸ سانتی متر است.

۲. زهرا ۸ سال داشت که برادرش به دنیا آمد. حالا ۱۰ سال از آن زمان گذشته است.

$$10 + 8 = 18$$

الف) زهرا چند سال دارد؟ ۱۸ سال

ب) برادر زهرا چند سال دارد؟ ۱۰ سال



مرور جمع و تفریق

حدس و آزمایش



۱. به سوالات زیر را به درستی پاسخ دهید.

$$۲۵ + \boxed{} = ۵۹$$

$$۱ \text{ جلسه} = ۲۵ + \boxed{} =$$

$$۲ \text{ جلسه} = ۲۵ + \boxed{} =$$

$$۳ \text{ جلسه} = ۲۵ + \boxed{} =$$

$$۳۴ + \boxed{} = ۸۲$$


$$۱ \text{ جلسه} = ۳۴ + \boxed{} =$$


$$۲ \text{ جلسه} = ۳۴ + \boxed{} =$$


$$۳ \text{ جلسه} = ۳۴ + \boxed{} =$$

۱. به سوالات زیر را به درستی پاسخ دهید.

$$۲۵ + \boxed{۳۴} = ۵۹$$

$$۱ \text{ حدس} = ۲۵ + \boxed{۳۰} = ۵۵$$
 

$$۲ \text{ حدس} = ۲۵ + \boxed{۲۶} = ۵۱$$
 

$$۳ \text{ حدس} = ۲۵ + \boxed{۳۴} = ۵۹$$
 

$$۳۰ - ۴ = ۲۶$$

$$۳۰ + ۴ = ۳۴$$

$$۳۴ + \boxed{} = ۸۲$$

$$۱ \text{ حدس} = ۳۴ + \boxed{} =$$

$$۲ \text{ حدس} = ۳۴ + \boxed{} =$$

$$۳ \text{ حدس} = ۳۴ + \boxed{} =$$

۱. به سوالات زیر را به درستی پاسخ دهید.

$$۲۵ + \boxed{۳۴} = ۵۹$$

۱ حدس = $۲۵ + \boxed{۳۰} = ۵۵$ ❌

۲ حدس = $۲۵ + \boxed{۲۶} = ۵۱$ ❌ $۳۰ - ۴ = ۲۶$

۳ حدس = $۲۵ + \boxed{۳۴} = ۵۹$ ✅ $۳۰ + ۴ = ۳۴$

$$۳۴ + \boxed{۴۸} = ۸۲$$

۱ حدس = $۳۴ + \boxed{۵۰} = ۸۴$ ❌

۲ حدس = $۳۴ + \boxed{۴۸} = ۸۲$ ✅ $۵۰ - ۲ = ۴۸$

۳ حدس = $۳۴ + \boxed{} =$

۲. به سوالات زیر را به درستی پاسخ دهید.

$$۷۶ - \square = ۵۳$$

$$۱ \text{ حدس} = ۷۶ - \square =$$

$$۲ \text{ حدس} = ۷۶ - \square =$$

$$۳ \text{ حدس} = ۷۶ - \square =$$

$$۹۴ - \square = ۲۷$$


$$۱ \text{ حدس} = ۹۴ - \square =$$


$$۲ \text{ حدس} = ۹۴ - \square =$$


$$۳ \text{ حدس} = ۹۴ - \square =$$

۲. به سوالات زیر را به درستی پاسخ دهید.

$$۷۶ - \boxed{۲۳} = ۵۳$$

۱ حدس = $۷۶ - \boxed{۲۰} = ۵۶$ 

۲ حدس = $۷۶ - \boxed{۱۷} = ۵۹$ 

۳ حدس = $۷۶ - \boxed{۲۳} = ۵۳$ 

$$۲۰ - ۳ = ۱۷$$

$$۲۰ + ۳ = ۲۳$$

$$۹۴ - \boxed{} = ۲۷$$


۱ حدس = $۹۴ - \boxed{} =$


۲ حدس = $۹۴ - \boxed{} =$


۳ حدس = $۹۴ - \boxed{} =$

۲. به سوالات زیر را به درستی پاسخ دهید.

$$۷۶ - \boxed{۲۳} = ۵۳$$

۱ حدس = $۷۶ - \boxed{۲۰} = ۵۶$ 


۲ حدس = $۷۶ - \boxed{۱۷} = ۵۹$ 


۳ حدس = $۷۶ - \boxed{۲۳} = ۵۳$ 

$$۲۰ - ۳ = ۱۷$$

$$۲۰ + ۳ = ۲۳$$

$$۹۴ - \boxed{۶۷} = ۲۷$$

۱ حدس = $۹۴ - \boxed{۷۰} = ۲۴$ 

۲ حدس = $۹۴ - \boxed{۶۷} = ۲۷$ 

۳ حدس = $۹۴ - \boxed{} =$

$$۷۰ - ۳ = ۶۷$$