



مرور جمع و تفریق


حدس و آزمایش




۳. به سوالات زیر را به درستی پاسخ دهید.


$$\boxed{۳۷} + ۴۱ = ۷۸$$


۱ حدس =  $\boxed{۳۰} + ۴۱ = ۷۱$  

۲ حدس =  $\boxed{۲۳} + ۴۱ = ۶۴$    $۳۰ - ۷ = ۲۳$

۳ حدس =  $\boxed{۳۷} + ۴۱ = ۷۸$    $۳۰ + ۷ = ۳۷$

$$\boxed{۳۵} + ۲۷ = ۶۲$$

۱ حدس =  $\boxed{۴۰} + ۲۷ = ۶۷$  


۲ حدس =  $\boxed{۳۵} + ۲۷ = ۶۲$    $۴۰ - ۵ = ۳۵$

۳ حدس =  $\boxed{\phantom{00}} + ۲۷ =$

۱. در یک پارکینگ ۷ ماشین و موتور پارک بودند. آن ها روی هم ۲۴ چرخ دارند.  
چند ماشین و چند موتور در این پارکینگ پارک شده اند؟

۲. در یک مزرعه ۵ مرغ و گاو وجود دارد. آن ها روی هم ۱۸ پا دارند.  
چند مرغ و چند گاو در این مزرعه وجود دارد؟


۱. در یک پارکینگ ۷ ماشین و موتور پارک بودند. آن ها روی هم ۲۴ چرخ دارند.  
چند ماشین و چند موتور در این پارکینگ پارک شده اند؟



۵ ماشین ، ۲ موتور

$$۴ + ۴ + ۴ + ۴ + ۴ + ۲ + ۲ = ۲۴$$

۲. در یک مزرعه ۵ مرغ و گاو وجود دارد. آن ها روی هم ۱۸ پا دارند.  
چند مرغ و چند گاو در این مزرعه وجود دارد؟



۴ گاو ، ۱ مرغ

$$۴ + ۴ + ۴ + ۴ + ۲ = ۱۸$$

الف) ۷ سانتی متر و ۴ میلی متر می شود ..... میلی متر **سوال ۱**

ب) ۵۸ میلی متر می شود ..... سانتی متر و ..... میلی متر

پ) ۴ سانتی متر و ۰ میلی متر می شود ..... میلی متر

ت) ۹ واحد بزرگ و ۳ واحد کوچک می شود ..... میلی متر

ث) ۴۰ میلی متر می شود ..... سانتی متر و ..... میلی متر

الف) ۷ سانتی متر و ۴ میلی متر می شود .....۷۴... میلی متر **سوال ۱**

ب) ۵۸ میلی متر می شود .....۵... سانتی متر و .....۸... میلی متر

پ) ۴ سانتی متر و ۰ میلی متر می شود .....۴۰... میلی متر

ت) ۹ واحد بزرگ و ۳ واحد کوچک می شود .....۹۳... میلی متر

ث) ۴۰ میلی متر می شود .....۴... سانتی متر و .....میلی متر