




۱ هر عبارت را به پاسخ صحیح آن وصل کن.



۴۴۴    عدد ۱۵۴ را با کدام عدد جمع کنیم تا حاصل ۵۹۸ شود.

۴۷۸  حاصل جمع عدد ۱۴۴ با عدد ۲۳۲

۳۷۶  اگر عدد به ۳۵۸ یک دسته ۱۰۰ تایی و دو دسته ۱۰ تایی اضافه کنیم عدد حاصل
   

۲ درستی  و نادرستی  هر عبارت را مشخص کن.

الف: ۲۹۰ می شود ۲۹ دسته صدتایی  

ب: ۱۵ دسته ده تایی می شود ۱ دسته صدتایی و ۵ ده تایی  

پ: ۱۸۰ می شود ۱ دسته صدتایی و ۸ ده تایی  

جای خالی را پر کن.

۲

الف: ۲۰ سکه‌ی ده ریالی می‌شود ۲ سکه‌ی صد ریالی

ب: ۱۱ سکه‌ی ده ریالی می‌شود ۱۱۰ سکه‌ی یک ریالی

پ: ۴۷ برابر است با ۳ ده‌تایی و ۱۷ یکی

حاصل هر عبارت را بنویس.

۴

$$\text{الف: } ۴۰۰ + ۲۰۰ + ۳ = \dots\dots\dots$$

$$\text{ب: } ۱۰۰ + ۳۰۰ + ۷ + ۵۰ = \dots\dots\dots$$

$$\text{پ: } ۳۰۰ + ۲۰ + ۲ = \dots\dots\dots$$

$$\text{ت: } ۲۰۰ + ۱۰۰ + ۳۰ + ۲۰ = \dots\dots\dots$$

جای خالی را پر کن.

۲

الف: ۲۰ سکه‌ی ده ریالی می‌شود ۲ سکه‌ی صد ریالی

ب: ۱۱ سکه‌ی ده ریالی می‌شود ۱۱۰ سکه‌ی یک ریالی

پ: ۴۷ برابر است با ۳ ده‌تایی و ۱۷ یکی

حاصل هر عبارت را بنویس.

۴

$$\text{الف: } ۴۰۰ + ۲۰۰ + ۳ = ۶۰۳$$

$$\text{ب: } ۱۰۰ + ۳۰۰ + ۷ + ۵۰ = ۴۵۷$$

$$\text{پ: } ۳۰۰ + ۲۰ + ۲ = ۳۲۲$$

$$\text{ت: } ۲۰۰ + ۱۰۰ + ۳۰ + ۲۰ = ۳۵۰$$

تكليف



به سوالات زیر را به درستی پاسخ دهید.

$$\boxed{} + ۴۱ = ۷۸$$

$$۱ \text{ حدس} = \boxed{} + ۴۱ =$$

$$۲ \text{ حدس} = \boxed{} + ۴۱ =$$

$$۳ \text{ حدس} = \boxed{} + ۴۱ =$$

$$\boxed{} + ۲۷ = ۹۲$$

$$۱ \text{ حدس} = \boxed{} + ۲۷ =$$

$$۲ \text{ حدس} = \boxed{} + ۲۷ =$$

$$۳ \text{ حدس} = \boxed{} + ۲۷ =$$

الف) ۷۴ می شود دسته ی ده تایی و ۱۴ یکی .

ب) اگر به ۵۴۷ یک دسته ی صدتایی اضافه کنیم می شود

پ) ۴۰ سکه ی ۱۰ ریالی می شود سکه ی صد ریالی

ت) ۷۰۰ می شود دسته ی ده تایی

ث) ۳۰۰ برابر با سکه ی ۱۰۰ ریالی