



موضوع:

تاریخ:

نام و نام خانوادگی:

هدف:

قسمتی از یک واحد



۱- در شکل روبه‌رو یک مورچه را می‌بینید که روی لبه‌ی خط‌کش ایستاده است.

اندازه‌ی طول این مورچه را با کامل کردن جمله‌های زیر مشخص کنید.



فعالیت




اندازه‌ی طول مورچه کمتر از ۱ سانتی‌متر است

یا اندازه‌ی طول مورچه بین ۱ و ۰ سانتی‌متر است.

اندازه‌ی طول مورچه ۶ میلی‌متر است

یا ۶ قسمت از ۱۰ قسمت کوچک است.






موضوع:

تاریخ:

نام و نام خانوادگی:

هدف:


۱- حالا برای شکل روبه‌رو جمله‌ها را کامل کنید.



اندازه‌ی طول پاک‌کن از ۴ سانتی‌متر بیشتر و از ۵ سانتی‌متر کمتر است.

اندازه‌ی طول پاک‌کن ۴ سانتی‌متر و ۸ میلی‌متر است.

اندازه‌ی طول پاک‌کن ۴ سانتی‌متر و ۸ قسمت از ۱۰ قسمت کوچک است.





موضوع:

تاریخ:

نام و نام خانوادگی:

هدف:

۱- هر یکی را می توان به صورت یک قسمت از ۰۱ قسمت نیز نشان داد.

ده تایی

یکی




کار در کلاس

عدد ۱۳ را می توان به صورت ۱ ده تایی و ۳ قسمت از ۰۱ قسمت بیان کرد.

عدد ۲۷ را می توان به صورت ۲ ده تایی و ۷ قسمت از ۰۱ قسمت بیان کرد.

عدد ۴۵ را می توان به صورت ۴ ده تایی و ۵ قسمت از ۰۱ قسمت بیان کرد.

عدد ۹ را می توان به صورت ۰ ده تایی و ۹ قسمت از ۰۱ قسمت بیان کرد.



۲- در شکل‌های زیر کدام شکل به قسمت‌های مساوی تقسیم نشده است؟

