


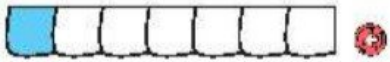
تمرین



۱ هر شکل را به عبارت مناسب آن وصل کن.



یک قسمت از ۷ قسمت مساوی



۹ قسمت از ۱۰ قسمت مساوی



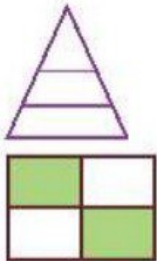
۶ قسمت از ۹ قسمت مساوی



۷ قسمت از ۸ قسمت مساوی



۱۰ قسمت از ۱۰ قسمت مساوی



۲ درستی و نادرستی هر عبارت را مشخص کن.

الف: شکل مقابل به ۳ قسمت مساوی تقسیم شده است.

ب: در شکل مقابل ۲ قسمت از ۴ قسمت رنگ نشده است.

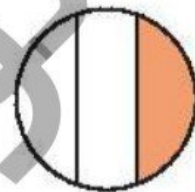


پ: نقطه‌ی روی محور ۳ واحد و ۱ قسمت مساوی را نشان می‌دهد.

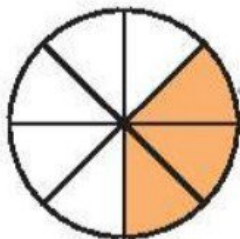
۳ برای شکل‌هایی که به قسمت‌های مساوی تقسیم شده‌اند کسر مقدار رنگ شده‌ی آن را بنویس.




ب: قسمت از قسمت مساوی



الف: قسمت از قسمت مساوی



ت: قسمت از قسمت مساوی

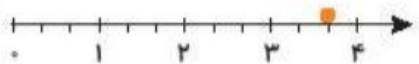


پ: قسمت از قسمت مساوی



۱ درستي و نادرستي هر عبارت را مشخص کن.

الف: با توجه به محور، نقطه‌ی مشخص شده ۲ واحد و ۲ قسمت از ۳ قسمت مساوی است.



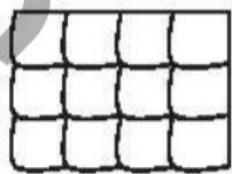
ب: با توجه به شکل زیر ۳ قسمت از ۴ قسمت مساوی رنگ شده است.



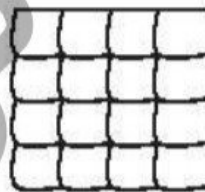
۲ با توجه به واحدها و قسمت‌های رنگ شده از هر شکل، از محور کنار آن رنگ کن. (مانند نمونه)



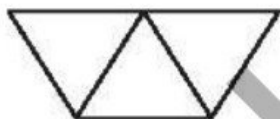
۲ با توجه به قسمت‌های خواسته شده شکل را رنگ کن.



ب: ۸ قسمت از ۱۲ قسمت مساوی رنگ شده.



الف: ۱۲ قسمت از ۱۶ قسمت مساوی رنگ شده.



ت: ۱ قسمت از ۳ قسمت مساوی رنگ شده.



پ: ۲ قسمت از ۳ قسمت مساوی رنگ شده.

