

فصل هفتم

قسمتی از یک واحد



۱- شکل‌های زیر را با خط‌کش اندازه بگیرید و اندازه‌ی هر کدام را با کامل کردن جمله‌ها بیان کنید.

اندازه‌ی خط _____ سانتی‌متر و _____ قسمت از ۱۰ قسمت کوچک است.



اندازه‌ی طول سنجاق _____ سانتی‌متر و _____ قسمت از ۱۰ قسمت کوچک است.



اندازه‌ی طول خودکار _____ سانتی‌متر و _____ قسمت از ۱۰ قسمت کوچک است.

۱- شکل‌های زیر را با خط‌کش اندازه بگیرید و اندازه‌ی هر کدام را با کامل کردن جمله‌ها بیان کنید.

اندازه‌ی خط ۶ سانتی‌متر و ۷ قسمت از ۱۰ قسمت کوچک است.



اندازه‌ی طول سنجاق ۴ سانتی‌متر و ۲ قسمت از ۱۰ قسمت کوچک است.



اندازه‌ی طول خودکار ۷ سانتی‌متر و ۵ قسمت از ۱۰ قسمت کوچک است.

۲- کدام شکل‌ها به قسمت‌های مساوی تقسیم شده‌اند؟ زیر آن‌ها تعداد قسمت‌های مساوی را بنویسید.




قسمت مساوی _____



قسمت مساوی _____



قسمت مساوی _____



قسمت مساوی _____

۲- کدام شکل‌ها به قسمت‌های مساوی تقسیم شده‌اند؟ زیر آن‌ها تعداد قسمت‌های مساوی را بنویسید.




قسمت مساوی ۴



قسمت مساوی ۳



قسمت مساوی ♦



قسمت مساوی ۱۶

۳- به تصویر صفحه‌ی اوّل این فصل نگاه کنید.

پرچم جمهوری اسلامی ایران به چند قسمت مساوی تقسیم شده است؟ _____

چند قسمت آن به رنگ سبز است؟ _____

چند قسمت آن به رنگ قرمز است؟ _____

۳- به تصویر صفحه‌ی اوّل این فصل نگاه کنید.

پرچم جمهوری اسلامی ایران به چند قسمت مساوی تقسیم شده است؟ ۳ قسمت

چند قسمت آن به رنگ سبز است؟ ۱ قسمت از ۳ قسمت مساوی

چند قسمت آن به رنگ قرمز است؟ ۱ قسمت از ۳ قسمت مساوی



۴- مانند نمونه جمله‌ها را با نوشتن عدد مناسب کامل کنید و نشان دهید چه بخشی از شکل رنگ شده است.



_____ قسمت از _____ قسمت




۶ قسمت از ۱۰ قسمت



_____ قسمت از _____ قسمت



_____ قسمت از _____ قسمت



_____ قسمت از _____ قسمت



_____ قسمت از _____ قسمت

۴- مانند نمونه جمله‌ها را با نوشتن عدد مناسب کامل کنید و نشان دهید چه بخشی از شکل رنگ شده است.



۴ قسمت از ۸ قسمت



۶ قسمت از ۱۰ قسمت



۳ قسمت از ۴ قسمت



۲ قسمت از ۸ قسمت



۵ قسمت از ۱۵ قسمت



۴ قسمت از ۸ قسمت

۴- مانند نمونه جمله‌ها را با نوشتن عدد مناسب کامل کنید و نشان دهید چه بخشی از شکل رنگ شده است.



۴ قسمت از ۸ قسمت



۶ قسمت از ۱۰ قسمت



۳ قسمت از ۴ قسمت



۲ قسمت از ۸ قسمت



۵ قسمت از ۱۵ قسمت



۳ قسمت از ۸ قسمت