


## قسمتی از یک واحد

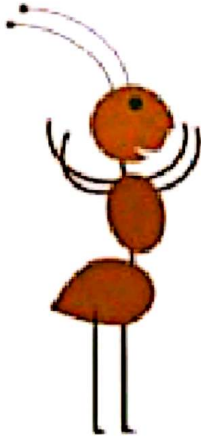


۱- در شکل روبه‌رو یک مورچه را می‌بینید که روی لبه‌ی خط‌کش ایستاده است.

اندازه‌ی طول این مورچه را با کامل کردن جمله‌های زیر مشخص کنید.




## فعالیت



اندازه‌ی طول مورچه کمتر از ۱ سانتی‌متر است یا اندازه‌ی طول مورچه بین ۰ و ۱ سانتی‌متر است. اندازه‌ی طول مورچه ۶ میلی‌متر است یا ۶ قسمت از ۱۰ قسمت کوچک است.

۲- حالا برای شکل روبه‌رو جمله‌ها را کامل کنید.



اندازه‌ی طول پاک‌کن از ۴ سانتی‌متر بیشتر و از ۵ سانتی‌متر کمتر است.  
اندازه‌ی طول پاک‌کن ۴ سانتی‌متر و ۸ میلی‌متر است.  
اندازه‌ی طول پاک‌کن ۴ سانتی‌متر و ۸ قسمت از ۱۰ قسمت کوچک است.

## مهم


یک سانتی‌متر به ۱۰ قسمت مساوی تقسیم شده و ۶ میلی‌متر همان ۶ قسمت از ۱۰ قسمت کوچک مساوی است. به همین ترتیب مثال‌های دیگری وجود دارد که می‌توانیم قسمتی از یک واحد را به صورت بالا نشان دهیم.








کار در کلاس

۱- هر یکی را می توان به صورت یک قسمت از ۱۰ قسمت نیز نشان داد.

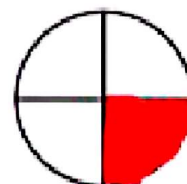
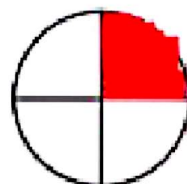
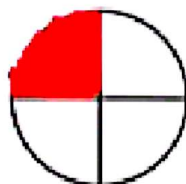
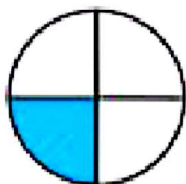
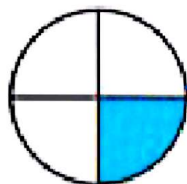
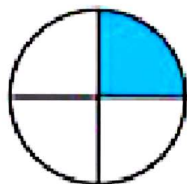


عدد ۱۳ را می توان به صورت ۱ ده تایی و ۳ ده تایی و قسمت از ۱۰ قسمت بیان کرد.  
عدد ۲۷ را می توان به صورت ۲ ده تایی و ۷ ده تایی و قسمت از ۱۰ قسمت بیان کرد.  
عدد ۴۵ را می توان به صورت ۴ ده تایی و ۵ ده تایی و قسمت از ۱۰ قسمت بیان کرد.  
عدد ۹۰ را می توان به صورت ۹ ده تایی و ۰ ده تایی و قسمت از ۱۰ قسمت بیان کرد.

۲- در شکل های زیر کدام شکل به قسمت های مساوی تقسیم نشده است؟



الگویابی کن



۱۱۱



۱- شکل‌های زیر را با خط‌کش اندازه بگیرید و اندازه‌ی هر کدام را با کامل کردن جمله‌ها بیان کنید.

اندازه‌ی خط ۶ سانتی‌متر و ۷ قسمت از ۱۰ قسمت کوچک است.  
**در اینجا یعنی میلی‌متر**




اندازه‌ی طول سنجاق ۴ سانتی‌متر و ۲ قسمت از ۱۰ قسمت کوچک است.



اندازه‌ی طول خودکار ۷ سانتی‌متر و ۱ قسمت از ۱۰ قسمت کوچک است.


۲- کدام شکل‌ها به قسمت‌های مساوی تقسیم شده‌اند؟ زیر آن‌ها تعداد قسمت‌های مساوی را بنویسید.




۴ قسمت مساوی



۳ قسمت مساوی



۱ قسمت مساوی

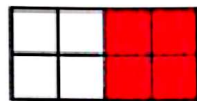


۱۶ قسمت مساوی

۳- به تصویر صفحه‌ی اول این فصل نگاه کنید.

پرچم جمهوری اسلامی ایران به چند قسمت مساوی تقسیم شده است؟ **۳ قسمت مساوی**  
 چند قسمت آن به رنگ سبز است؟ **یک قسمت از ۳ قسمت مساوی**  
 چند قسمت آن به رنگ قرمز است؟ **یک قسمت از ۳ قسمت مساوی**

۴- مانند نمونه جمله‌ها را با نوشتن عدد مناسب کامل کنید و نشان دهید چه بخشی از شکل رنگ شده است.



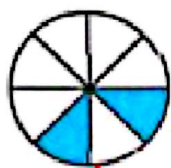
۴ قسمت از ۸ قسمت




۶ قسمت از ۱۰ قسمت



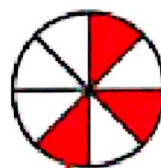
۳ قسمت از ۴ قسمت



۲ قسمت از ۸ قسمت



۵ قسمت از ۱۰ قسمت



۳ قسمت از ۸ قسمت

