

موضوع: تمرین کسر کلاس لاله ۱

تاریخ

نام و نام خانوادگی

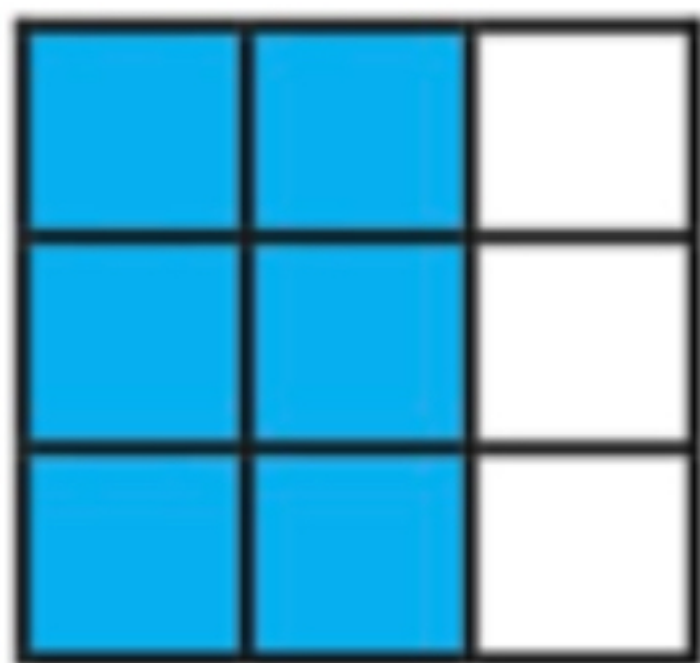
هدف:

۱۲۴ اسفند

۱- جاهای خالی را کامل کن

۶۵ یعنی \_\_\_ ده تایی و \_\_\_ قسمت از ۱۰ قسمت مساوی  
 ۹۲ یعنی \_\_\_ ده تایی و \_\_\_ قسمت از ۱۰ قسمت مساوی  
 ۲۸ یعنی \_\_\_ ده تایی و \_\_\_ قسمت از ۱۰ قسمت مساوی

۲- چه بخشی از شکل های زیر رنگ شده است .



..... قسمت از ..... قسمت

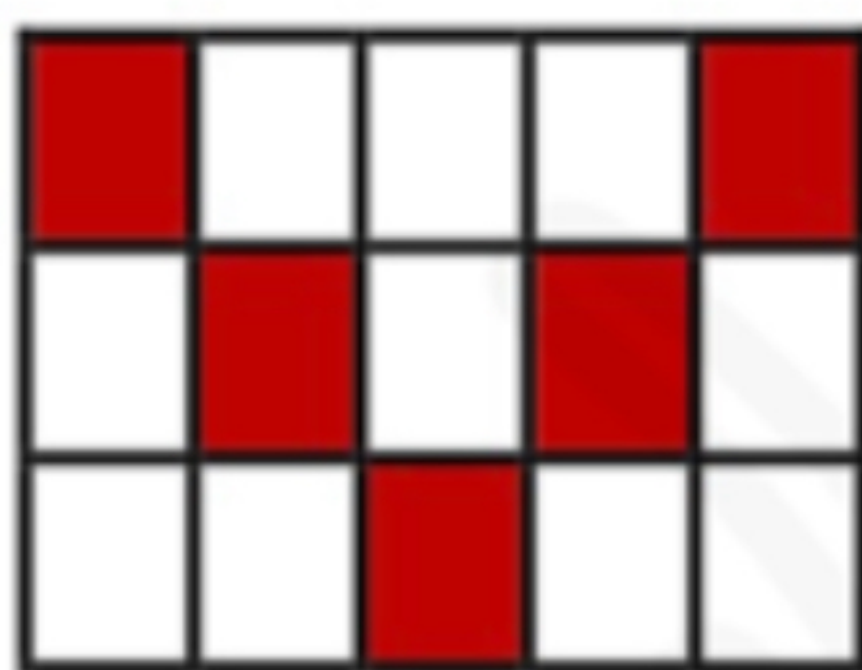


..... قسمت از ..... قسمت




..... قسمت از ..... قسمت

۳- در مورد هر شکل جملات را کامل کن .



..... قسمت از ..... قسمت مساوی رنگ شده است



..... قسمت از ..... قسمت مساوی رنگ شده است



..... قسمت از ..... قسمت مساوی رنگ شده است



..... قسمت از ..... قسمت مساوی رنگ شده است